

Тренажёр «Таблица умножения»




Кому Мальвина отправит звезду?



20



3 · 5 =



15



9



18




Кому Мальвина отправит звезду?

20



4 · 5 =



15



9



18




Кому Мальвина отправит звезду?

18



$2 \cdot 6 =$



6



10



12




Кому Мальвина отправит звезду?

18



3 · 4 =



9



16



12




Кому Мальвина отправит звезду?

18



$4 \cdot 4 =$



8



16



24




Кому Мальвина отправит звезду?

21



2 · 7 =



14



9




12



Кому Мальвина отправит звезду?

18



$$3 \cdot 8 =$$



21



24



16




Кому Мальвина отправит звезду?

10



2 · 3 =



9



5



6



Кому Мальвина отправит звезду?

16



4 · 7 =



28



21




24




Кому Мальвина отправит звезду?

35



$$5 \cdot 9 =$$



50



40



45




Кому Мальвина отправит звезду?

40



$$5 \cdot 6 =$$



20



30




25



Кому Мальвина отправит звезду?

15



$2 \cdot 9 =$



11



16



18




Кому Мальвина отправит звезду?

12



3 · 9 =



27



18



21




Кому Мальвина отправит звезду?

8



$$2 \cdot 5 =$$



15



7



10




Кому Мальвина отправит звезду?

18



$$4 \cdot 6 =$$



20



24



12




Кому Мальвина отправит звезду?

8



$$4 \cdot 2 =$$



6



12



10



Кому Мальвина отправит звезду?

35



5 · 5 =



15



20



25




Кому Мальвина отправит звезду?

28



$$2 \cdot 8 =$$



10



16



18




Кому Мальвина отправит звезду?

12



$$4 \cdot 8 =$$



32



48



36



Кому Мальвина отправит звезду?

23



3 · 3 =



9



6



12



Кому Мальвина отправит звезду?

32



$$4 \cdot 9 =$$



27



49



36




Кому Мальвина отправит звезду?

18



3 · 6 =



9



12



24



Кому Мальвина отправит звезду?

45



$$5 \cdot 8 =$$



35



40



30




Кому Мальвина отправит звезду?

18



3 · 7 =



21



10



24




Кому Мальвина отправит звезду?

2



$$2 \cdot 2 =$$



6



8



4



Кому Мальвина отправит звезду?

35



$$5 \cdot 7 =$$



30



25



40

