

УВЕЛИЧИТЬ НА 4 ЧИСЛА:

2, 6, 5, 7, 8, 9, 10

УМЕНЬШИТЬ НА 3 ЧИСЛА:

9, 5, 10, 11, 12, 13

# НАЙТИ СУММУ ЧИСЕЛ:

10 и 5

3 и 9

5 и 6

6 и 7

9 и 3

На какие группы можно разделить  
данные выражения?

$8 - 2 \quad 6 + 3 \quad 1 + 7 \quad 8 - 4$

$9 - 4 \quad 5 + 2 \quad 2 + 6 \quad 7 - 3$

**СРАВНИ. ОТВЕТЬ:**

**- НА СКОЛЬКО БОЛЬШЕ?**

**- НА СКОЛЬКО МЕНЬШЕ?**

**10\*8, 2\*12 6\*5**

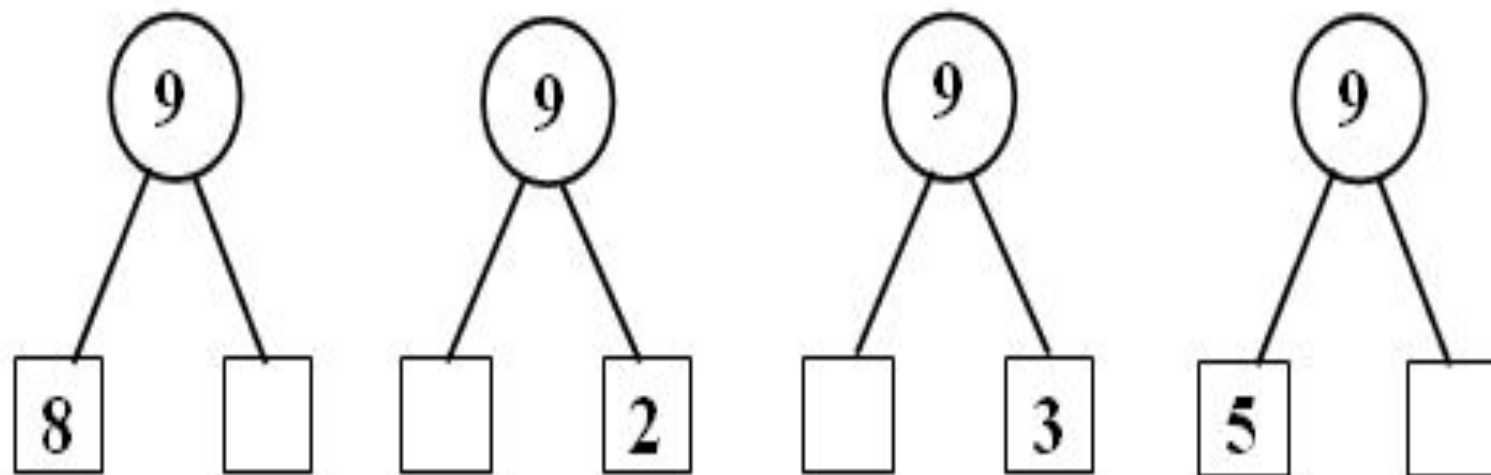
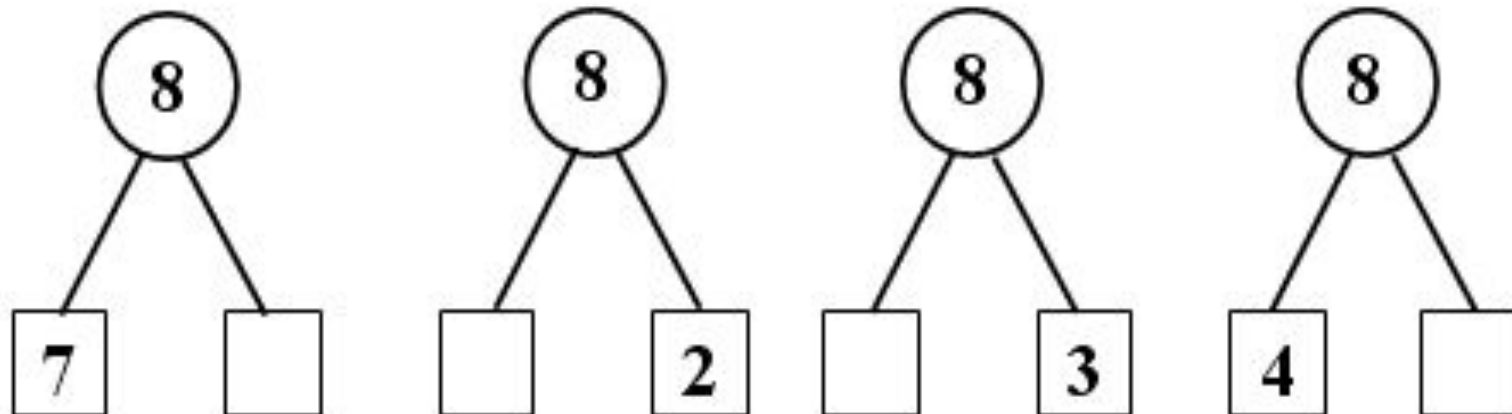
Прочитай примеры на вычитание с использованием слов:

*уменьшаемое, вычитаемое, разность (значение разности).*

$$9 - 3 \quad 11 - 2$$

$$7 - 4 \quad 13 - 5$$

# Назови соседа



## 2. Помоги Смурфику найти пропущенное число

$$1 + \square = 8$$

$$5 + \square = 9$$

$$6 + \square = 12$$



$$8 + \square = 12$$

$$2 + \square = 8$$

$$9 + \square = 15$$

# Поднимись по лестнице



$1 + 8 = \square$

$9 - 6 = \square$

$\square + 5 =$

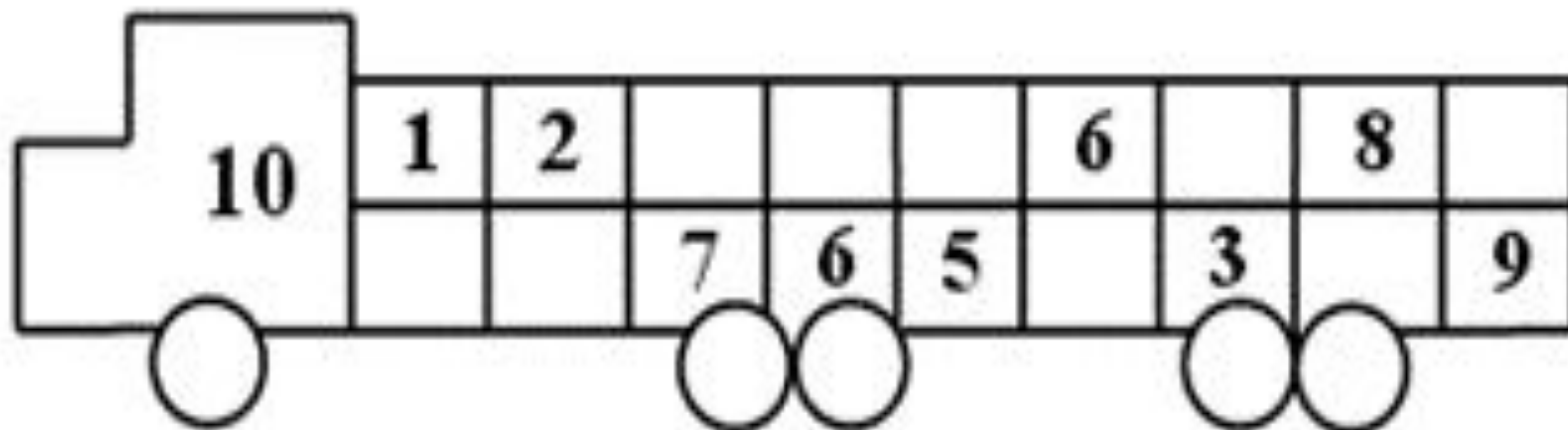
$\square - 2 =$

$\square - 6 =$

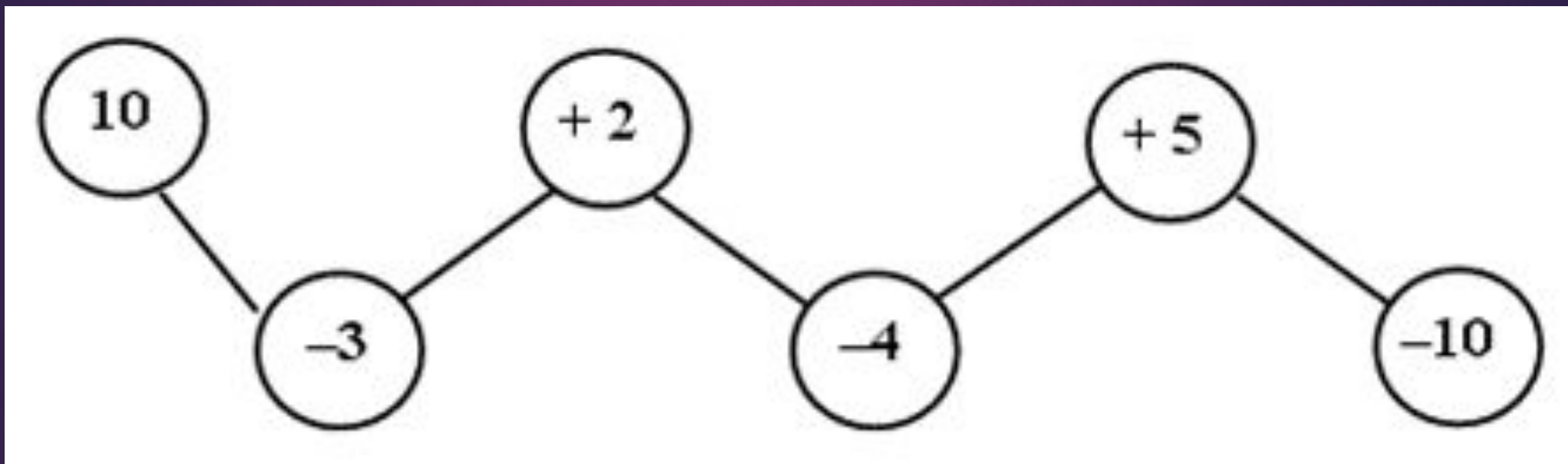




# НА СТРОЙКЕ



# ПРОДОЛЖИ ЦЕПОЧКУ



# КАКОЙ ПРИМЕР СЛЕДУЮЩИЙ?

$9 - 4 \quad 10 - 7 \quad 2 + 5 \quad 6 + 4$

$9 - 5 \quad 10 - 8 \quad 2 + 6 \quad 7 + 3$

$9 - 6 \quad 10 - 9 \quad 2 + 7 \quad 8 + 2$

...

...

...

...

# УЗНАЙ СЛОВО

$7 - 4$

л

$6 + 4$

с

$6 + 2$

о

$10 - 5$

у

$9 - 5$

б

$10 - 9$

г

1

3

8

4

5

10

# СРАВНИТЕ ЗНАЧЕНИЯ ВЫРАЖЕНИЙ, НЕ ДЕЛАЯ ВЫЧИСЛЕНИЙ

$$8 - 1 \dots 8 + 1$$

$$7 - 1 \dots 7 + 1$$

$$6 + 2 \dots 6 - 2$$

$$4 + 0 \dots 4 - 0$$

$$\square + 6$$

1

$3 + 6 =$	$5 + 6 =$	$9 + 6 =$
$7 + 6 =$	$4 + 6 =$	$8 + 6 =$

- 2 Устно реши задачи. Соедини линией кружок с номером задачи и карточку, на которой записано её решение.

$$7 - 3 = 4$$

$$7 + 3 = 10$$

$$7 + 3 + 7 = 17$$

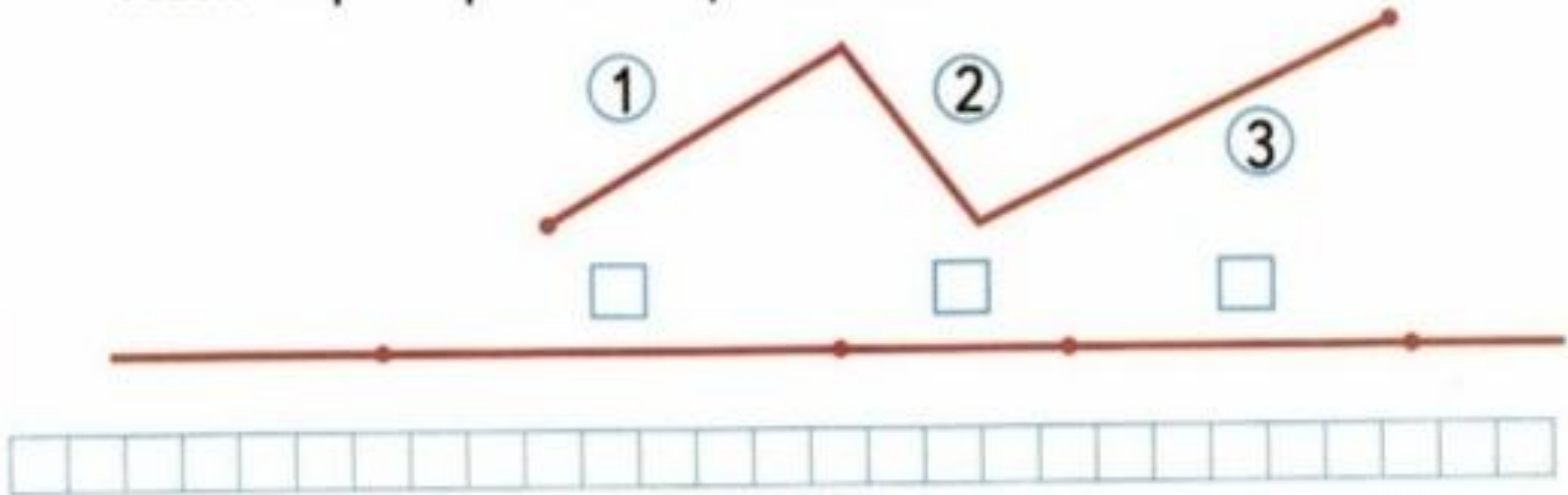
1 Костя взял из коробки сначала 7 солдатиков, а потом ещё 3. Сколько всего солдатиков взял Костя из коробки?

2 Коле 7 лет, а Саше 3 года. На сколько лет Коля старше, чем Саша?

3 Катя собрала 7 стаканов малины, а мама — на 3 стакана больше. Сколько всего стаканов малины собрали Катя и мама?



**3** Определи на глаз и запиши в окошко номер каждого звена ломаной, отложенного на прямой. Проверь измерением.





+ 8

+ 9


1

12	
<input type="text"/>	3
6	<input type="text"/>
<input type="text"/>	4
5	<input type="text"/>

12	-	=	8
12	-	=	3
12	-	=	6
12	-	=	7

13	
4	<input type="text"/>
<input type="text"/>	7
8	<input type="text"/>
<input type="text"/>	6

13	-	=	8
13	-	=	6
13	-	=	4
13	-	=	5

2  На одном подоконнике было 4 цветка, а на другом — 5 цветков. Таня полила 7 цветков. Сколько цветков осталось полить Тане? Закрась карточку с решением задачи.

$4 + 7 - 5 = 6$

$4 + 5 - 7 = 2$

$5 + 7 - 4 = 8$



- 1 Красным цветом закрась карточки, на которых записаны примеры с ответом 14, а синим — с ответом 13.

$8 + 6$

$9 + 4$

$6 + 4 + 3$

$7 + 7$

$9 + 5$

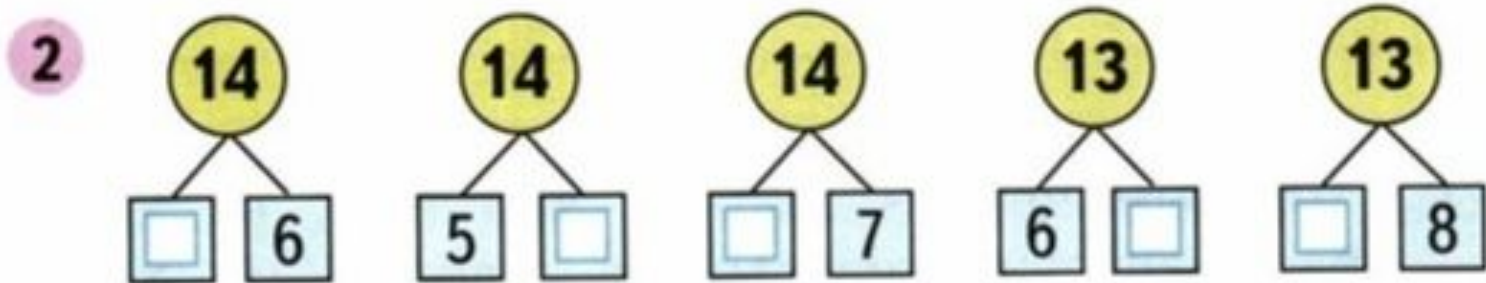
- 2 Начерти 2 отрезка: один на 2 см длиннее данного, а другой на 2 см короче данного.




На сколько второй из начерченных отрезков короче первого?

--	--	--	--	--	--	--	--	--	--	--	--	--	--	--	--	--	--	--	--





- 3 Начерти два отрезка длиной 9 см каждый. На первом отрезке поставь точку так, чтобы получилось два отрезка длиной 4 см и 5 см.



На втором отрезке поставь точку так, чтобы получилось два отрезка, один из которых на 5 см длиннее другого.