

Умники и умницы
2 класс

Занятие 9.



Разминка

Что с земли
легко
поднимешь, но
далеко не
закинешь?



Пух,
лист,
горсть
песка.



Разминка

Ночная птица с
круглыми
глазами. Кто
это?

Сова.



Разминка

По нему можно
перейти реку, не
замочив ног?

Мост.



Разминка

В какую посуду
нельзя налить
воды?

В
полную.



Разминка

По-гречески –
алфавит, по-
русски- ...?

Азбука.



Разминка

Материал из
которого сделали
солдатика из
сказки
Андерсена?

Олово.



Разминка

Ела-ела дуб,
дуб,
поломала зуб,
зуб. Что это?



Пила.



Разминка

Назови
домашнюю
птицу, которая
может нести
золотые яйца?

Курица.



Разминка

Что стоит
между окном
и дверью?

Буква И.



Разминка

Назови
наибольшее
двузначное
число?



99



Разминка

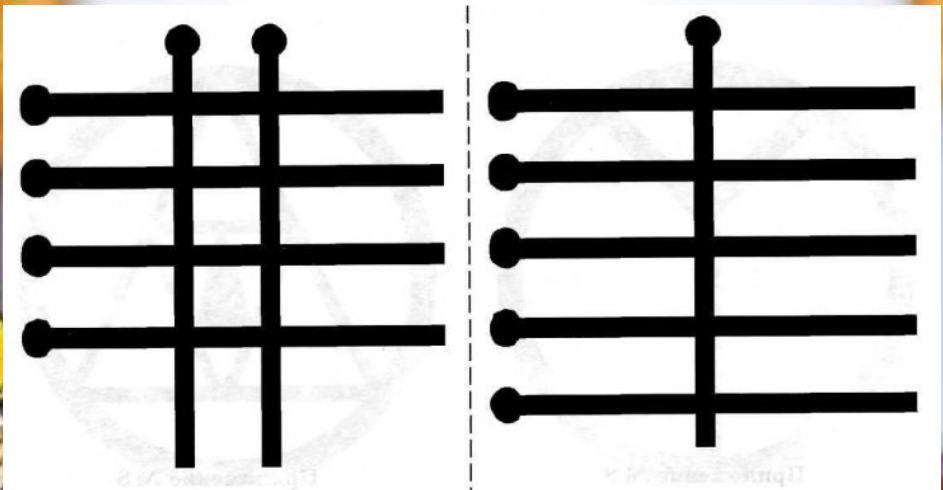
А
наименьшее
двузначное
число?



10



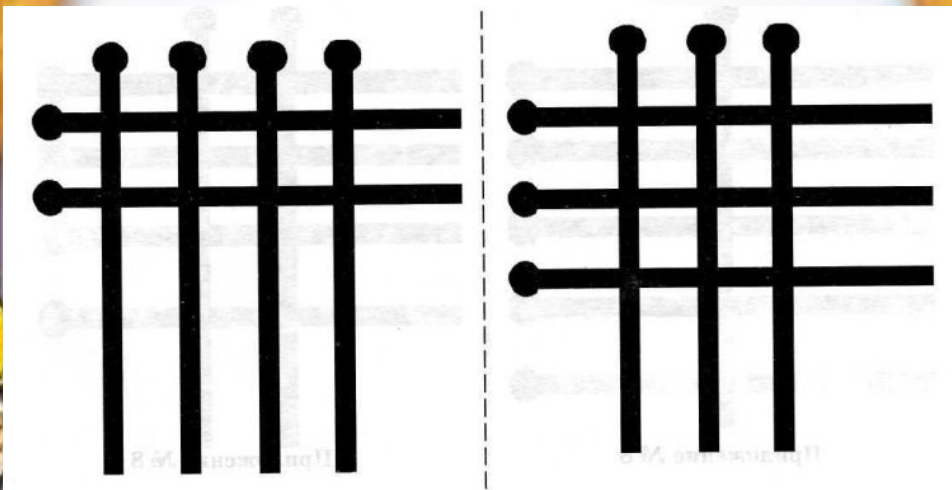
Запомни увиденные изображения и нарисуй как можно точнее.



Привет, Малыш!

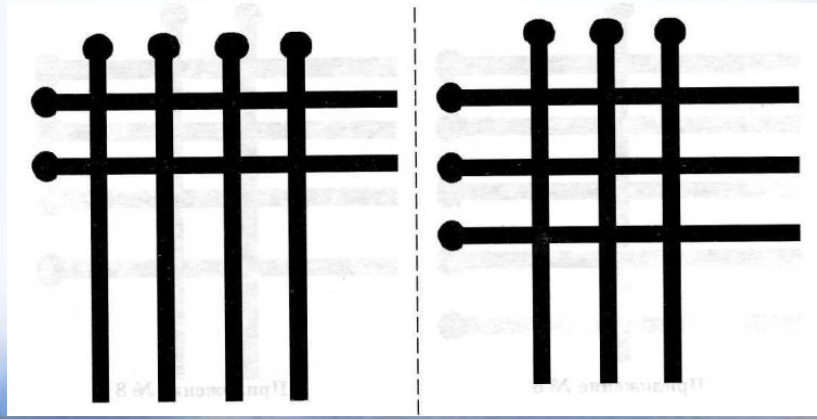
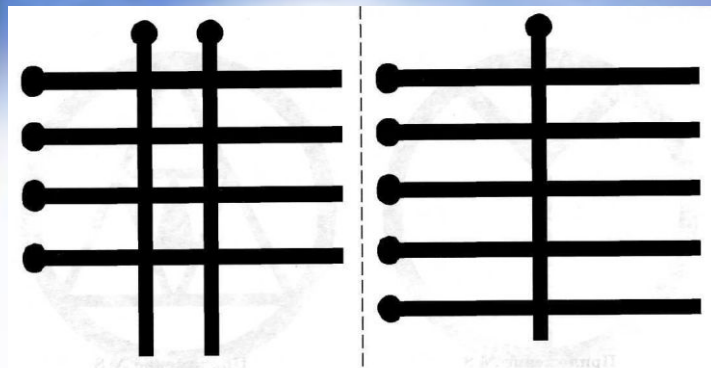


Запомни увиденные изображения и нарисуй как можно точнее.



Привет, Малыш!

Проверь




Привет, Малыш!



Не водят рукой по линиям, а лишь следя глазами, определи, какие буквы соответствуют числам. Если ты всё сделал верно, у тебя получилась загадка. Как можно быстрее отгадай её.




Зимой белый, летом серый.



О зайце.


Сосчитай голубей.

12



Посмотри на квадрат. В одной из клеток стоит машина.
Не прикасаясь рукой к таблице, а лишь следя глазами,
узнай её путь.



			
			1

**Маршрут
№1.**


**2 клетки
вниз,
1 влево,
3 вверх,
2 вправо,
2 вниз.**

**Поставьте
цифру 1.**



Посмотри на квадрат. В одной из клеток стоит машина.
Не прикасаясь рукой к таблице, а лишь следя глазами,
узнай её путь.



			
2			

**Маршрут
№2.**


**1 вправо,
1 вверх,
2 влево,
1 вниз,
1 вправо,
1 вниз,
2 влево.**

**Поставьте
цифру 2.**



Посмотри на квадрат. В одной из клеток стоит машина.
Не прикасаясь рукой к таблице, а лишь следя глазами,
узнай её путь.



3			
			

**Маршрут
№3.**

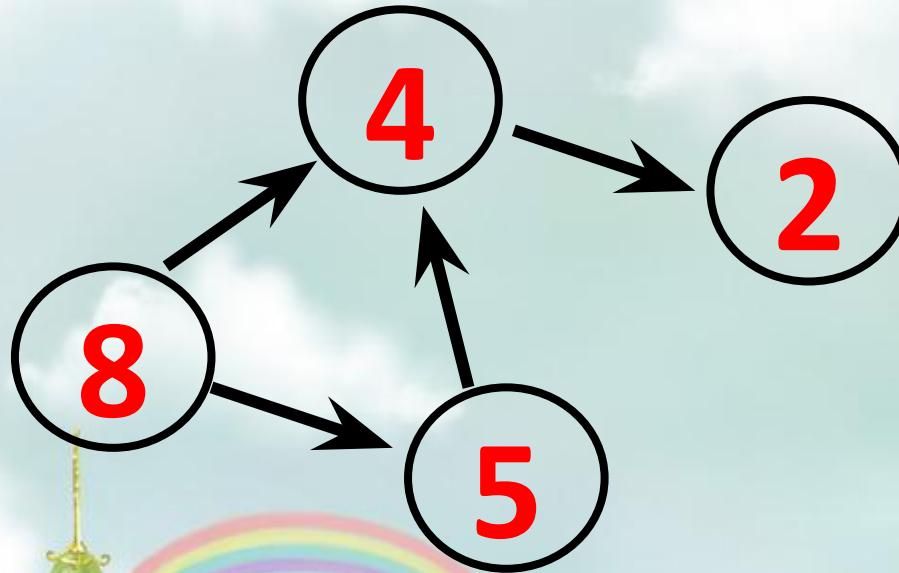
**1 вверх,
2 влево,
1 вниз,
1 вправо,
2 вниз,
1 влево,
3 вверх.**

**Поставьте
цифру 3.**



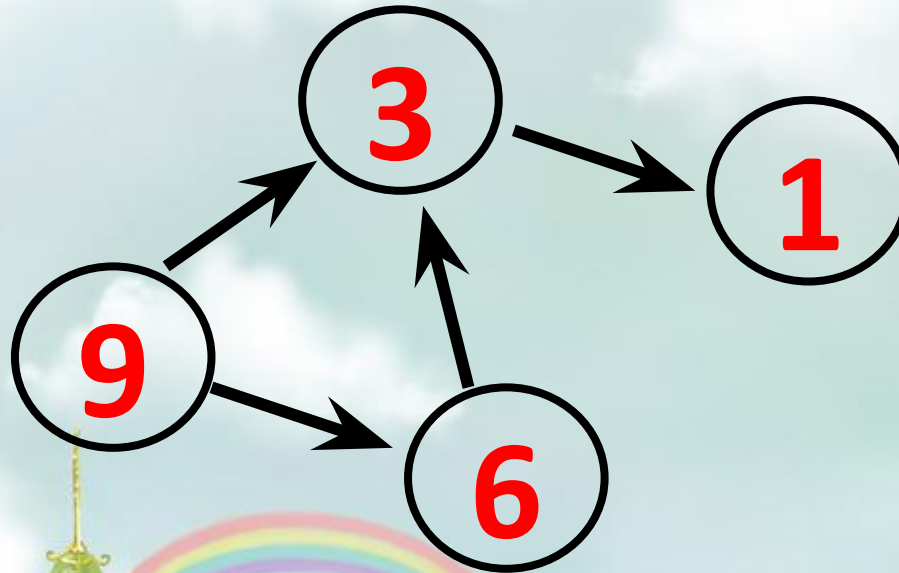
ЛОГИЧЕСКИ – ПОИСКОВЫЕ ЗАДАНИЯ

Расставь числа от 0 до 9 в кружки так, чтобы стрелка всегда была направлена от кружка с большим числом к кружку с меньшим.



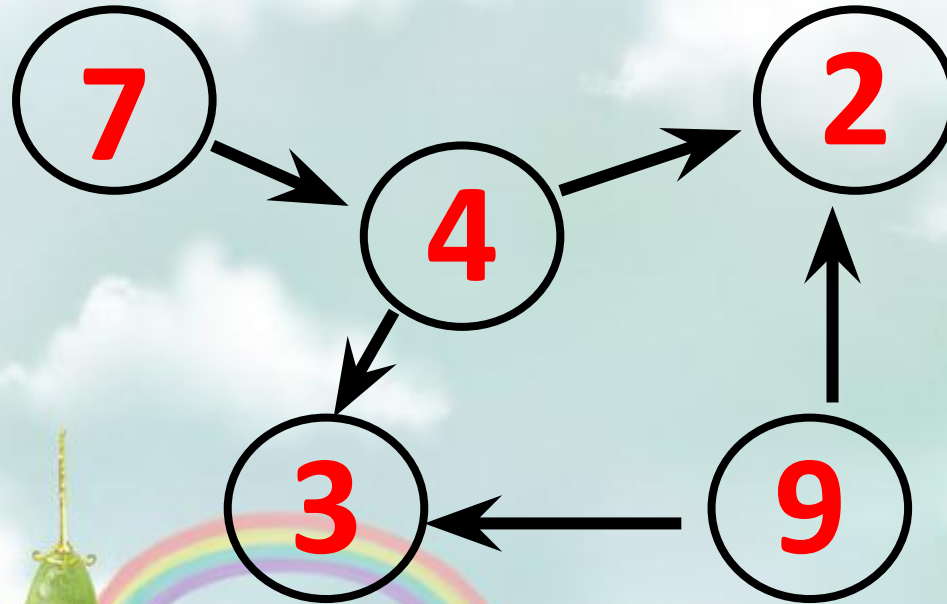
ЛОГИЧЕСКИ – ПОИСКОВЫЕ ЗАДАНИЯ

Расставь числа от 0 до 9 в кружки так, чтобы стрелка всегда была направлена от кружка с большим числом к кружку с меньшим.



ЛОГИЧЕСКИ – ПОИСКОВЫЕ ЗАДАНИЯ

Расставь числа от 0 до 9 в кружки так, чтобы стрелка всегда была направлена от кружка с большим числом к кружку с меньшим.



ЛОГИЧЕСКИ – ПОИСКОВЫЕ ЗАДАНИЯ

Допиши слог так, чтобы получилось

слово.

РЕ

КА

РЕ

П

ГО

КА

Р

С

КО

А



ЛОГИЧЕСКИ – ПОИСКОВЫЕ ЗАДАНИЯ

Допиши слог так, чтобы получилось

слово.

ЛУ

Н

ЛУ

А

НОЧ

КА

КО

ЗА



ЛОГИЧЕСКИ – ПОИСКОВЫЕ ЗАДАНИЯ

Допиши слог так, чтобы получилось
слово.

НО ГА

НО ТА

БОЧ КА
МА

КО

Р



ЛОГИЧЕСКИ – ПОИСКОВЫЕ ЗАДАНИЯ

Перед вами слогивица.

Потрудитесь

ухитриться

Слоговицу разгадать

И слова все-все

назвать.

1-2-3

РА-ДУ-ГА

4-5-1

ГИ-ТАРА



Цифры – это слоги.

Одинаковые слоги

обозначены

одинаковыми

цифрами.

на небе мост семи

цветов

с ней дружит множество

певцов



ЛОГИЧЕСКИ – ПОИСКОВЫЕ ЗАДАНИЯ

Перед вами слогивица.

Потрудитесь

ухитриться

Слоговицу разгадать

И слова все-все

назвать.

6-7-5-

ВО- ТА

РО-

6-8

ВО-ДА

мишень для шайбы и мяча

бьёт тонкой струйкой из
ключа



ЛОГИЧЕСКИ – ПОИСКОВЫЕ ЗАДАНИЯ

Перед вами слогивица.

Потрудитесь

ухитриться

Слоговицу разгадать

И слова все-все

назвать.

7-3

РО-ГА

9-1

ГО-РА



Цифры – это слоги.

Одинаковые слоги

обозначены

одинаковыми

цифрами.

есть у козы и у быка

она уходит в облака



ЛОГИЧЕСКИ – ПОИСКОВЫЕ ЗАДАНИЯ

Маша нанизала на нитку 20 бусинок так, что каждая четвёртая бусинка большая, а остальные – маленькие. Сосчитай, сколько больших и сколько маленьких бусинок на нитке?

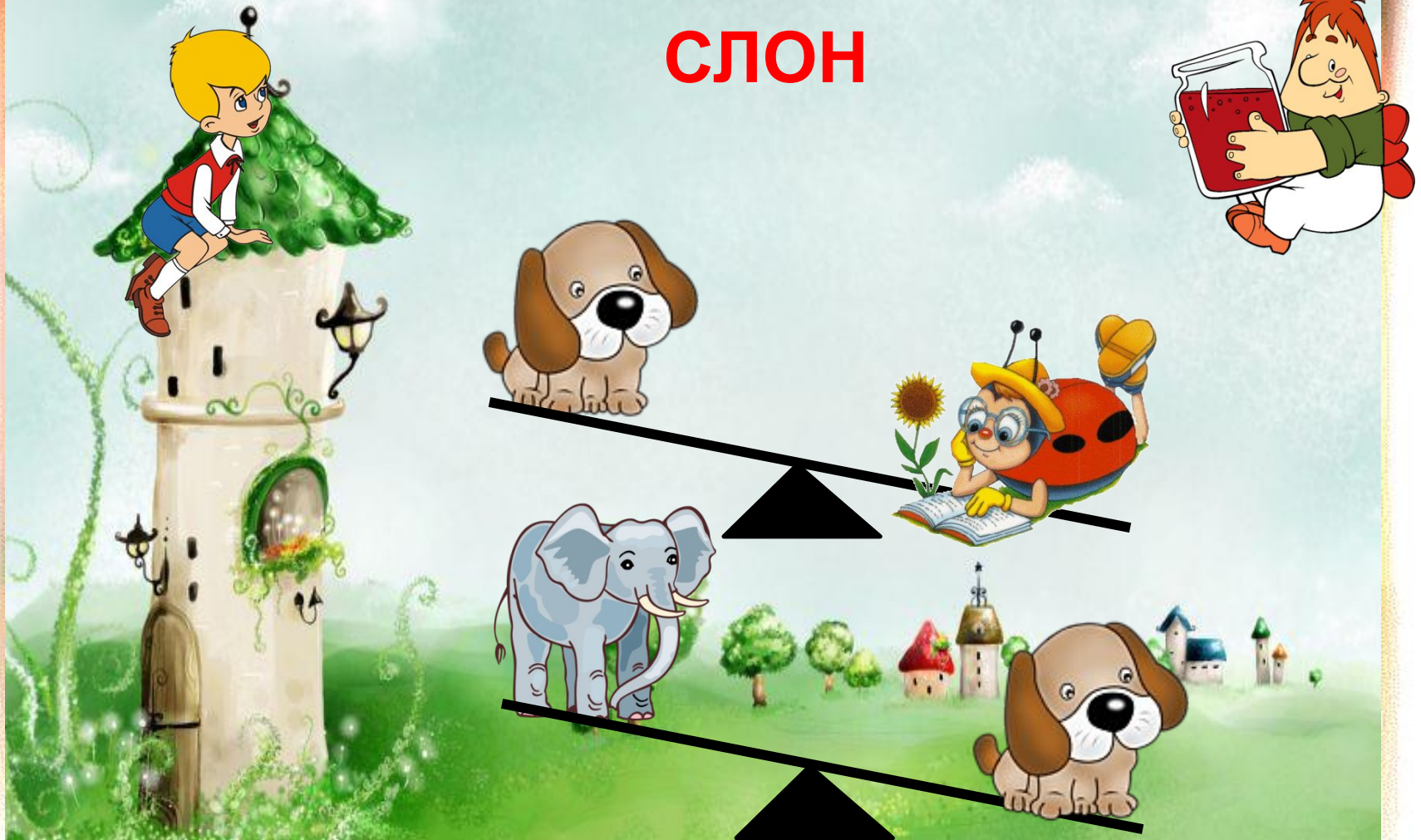
**5 больших и
15 маленьких**



УЧИСЬ РАССУЖДАТЬ

Напиши, кто был бы легче всех, если бы собака была легче жука и тяжелее слона?

СЛОН



УЧИТЬСЯ РАССУЖДАТЬ

Подумай, если бы лошадь была ниже кролика и выше жирафа, то кто был бы выше всех?

КРОЛИК



УЧИТЬСЯ РАССУЖДАТЬ

Миша жил немного ближе к школе, чем Коля, и намного дальше от неё, чем Витя. Напиши, кто жил от школы дальше всех?



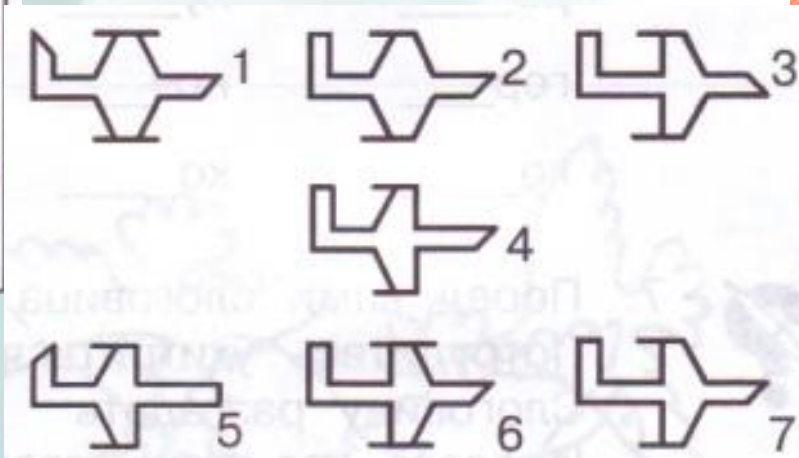
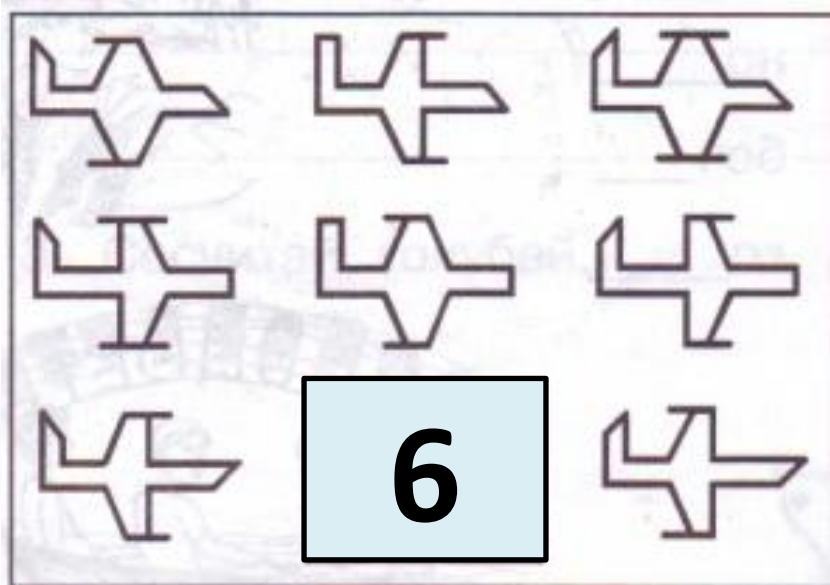
Коля

Миша

Витя



Выбери нужную фигуру из 7 пронумерованных.



МОЛОДЦЫ!

СПАСИБО ЗА УРОК!

