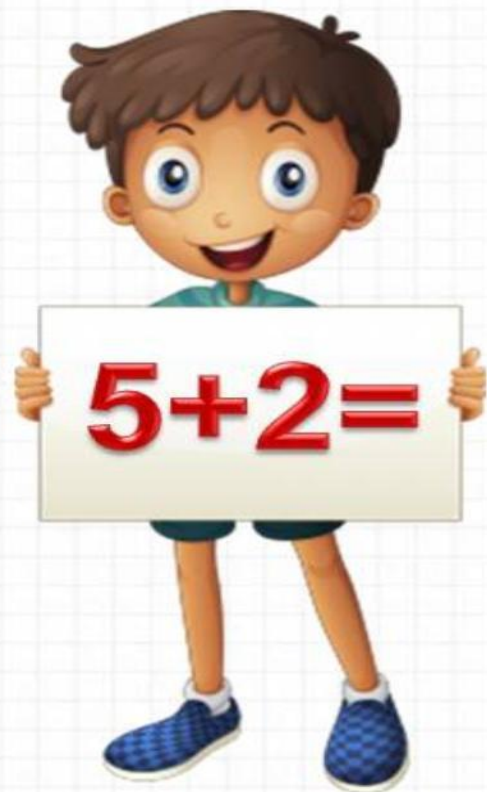


Равенство. Неравенст во




*Школа России
Математика 1 класс*






Устный счёт

2 хорошеньких утёнка
За мячом бегут вдогонку.
3 хотят кота поймать,
А утят всего здесь – ...!



5



Какое число предшествует числу:



Поставь числа в порядке уменьшения:

4

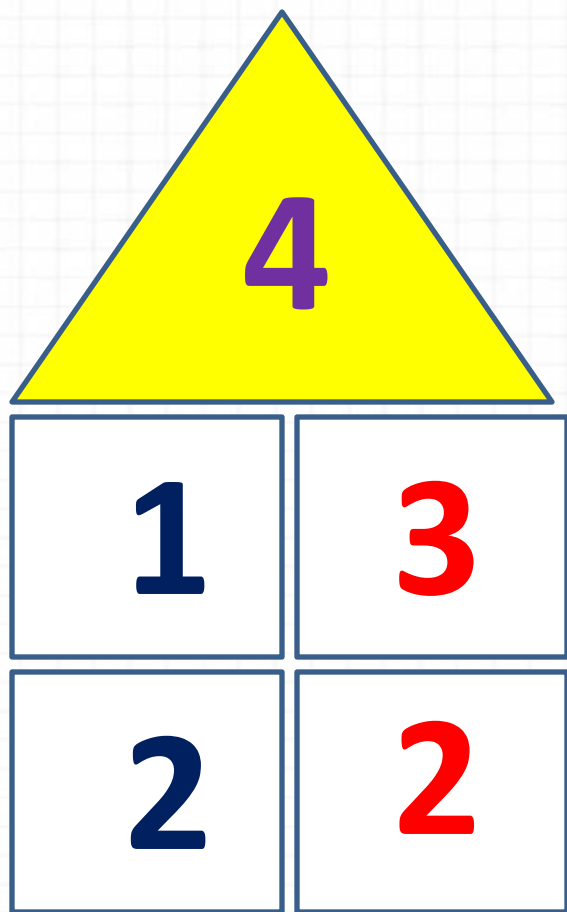
1

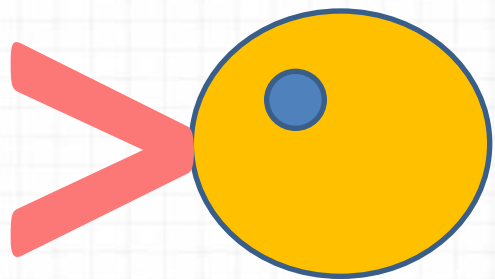
5

3

2

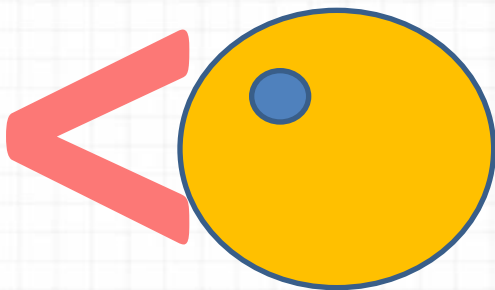
Заселяем дома.





БОЛЬШ

е



МЕНЬШ

е



Найди ошибки.

$$7 > 6$$

$$3 < 8$$

~~$$1 > 3$$~~

~~$$4 < 1$$~~

~~$$5 > 9$$~~

$$7 = 7$$




Физкультминут

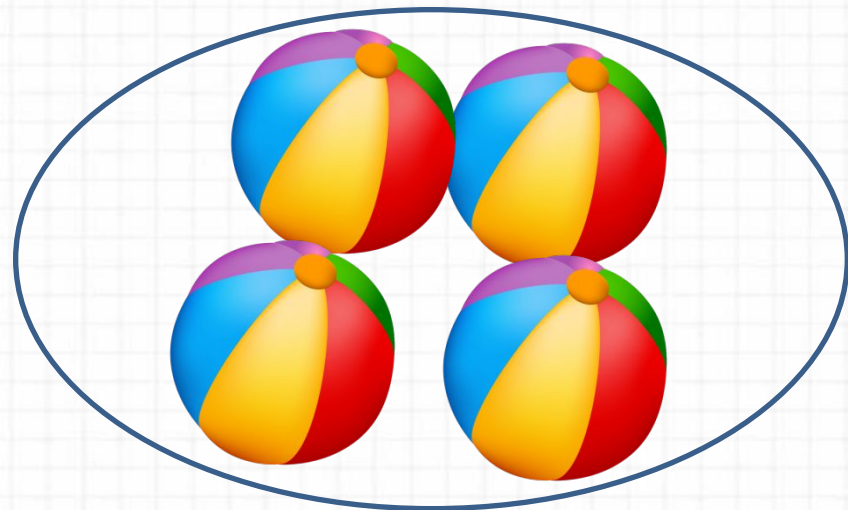
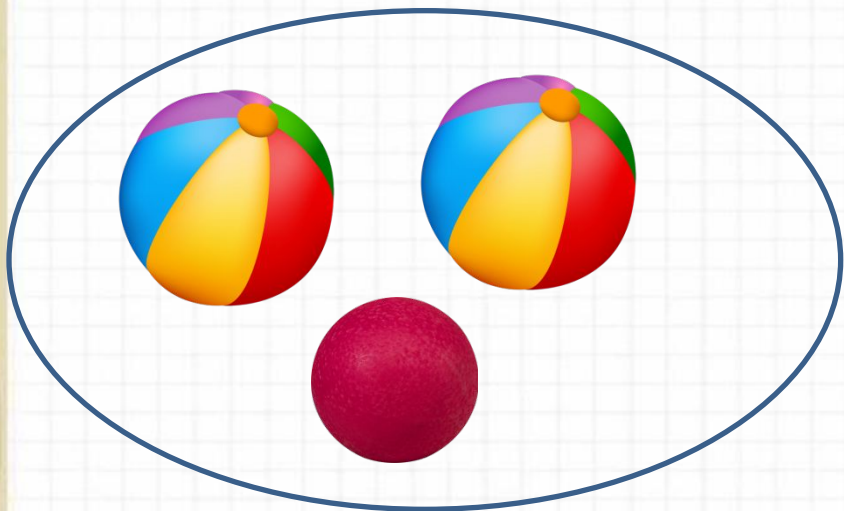
Мы топаем ногами,
Мы хлопаем руками,
Киваем головой.
Мы руки поднимаем,
Мы руки опускаем
И вновь считать начнём.



Новый материал

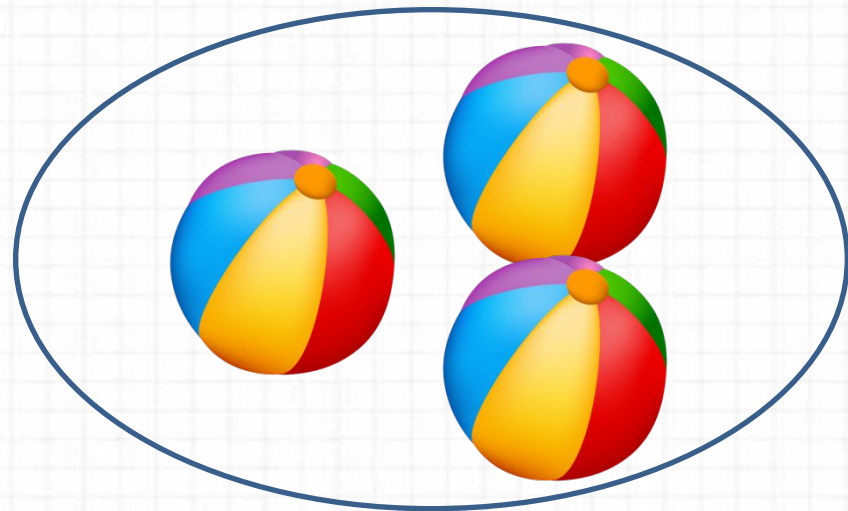
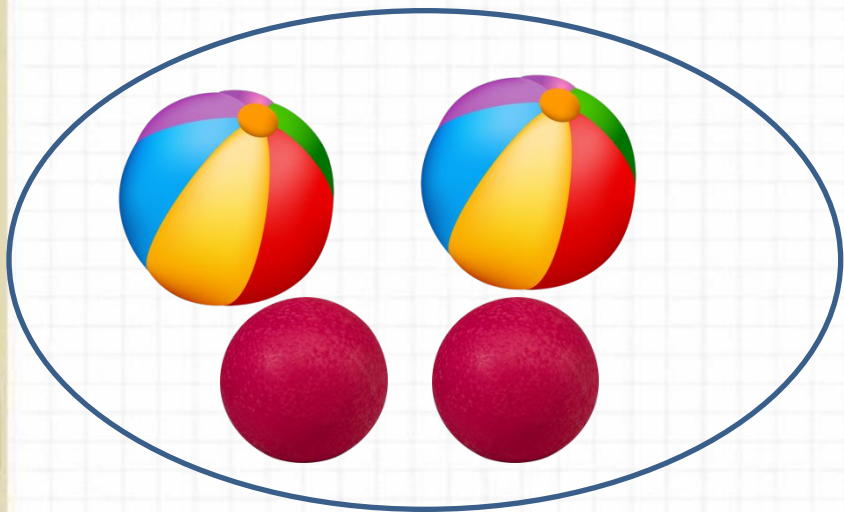


Чему будем учиться сегодня на уроке?



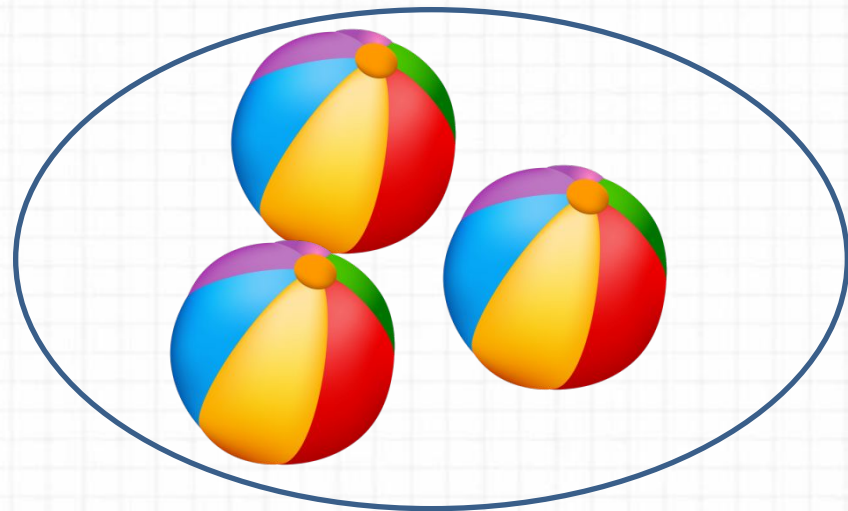
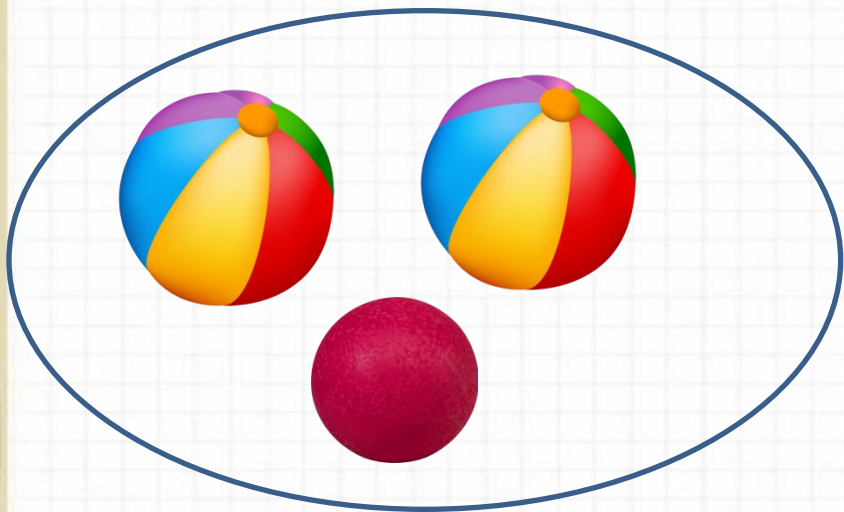
$$1 + 2 < 4$$

Чему будем учиться сегодня на уроке?



$$2 + 2 > 3$$

Чему будем учиться сегодня на уроке?



$$1 + 2 = 3$$

$$3 = 3$$



равенство

$$5 > 1$$

$$2 < 5$$



неравенство

Прочитай равенства и неравенства.

$$3 - 1 = 2$$

$$4 - 1 >$$

$$5 - 1 < 5$$

$$4 + 1 = 5$$

$$3 + 1 > 2$$

$$1 + 1 = 2$$

Найдите ошибки.

$$4 + 1 = 5$$

$$3 - \cancel{1} <$$

$$4 \cancel{<} 2$$

$$3 \cancel{>} 4$$

$$5 - 1 \cancel{=} 3$$

$$2 + 1 = 3$$

Физкультминут

Во дворе щенок играл,
Прыгал, бегал и считал:
«Раз – прыжок и три кивка,
Два – направо голова,
Три – налево поворот» –
И помчался до ворот,
А потом вздохнул и сел:
Он устал и присмирел.



Работа по учебнику



стр. 48 - 49

Равенство. Неравенство

Будем учиться распознавать и составлять числовые равенства и неравенства.



Равенства:

$$4 = 4$$

$$4 + 1 = 5$$

Неравенства:

$$4 > 3$$

$$4 - 1 < 4$$

Прочитай сначала равенства, а затем неравенства.

$$3 - 1 = 2 \quad 5 - 1 < 5 \quad 3 + 1 > 2$$

$$4 - 1 > 1 \quad 4 + 1 = 5 \quad 1 + 1 = 2$$

$$4 \bigcirc 3 \quad 5 \bigcirc 2 \quad 1 + 2 \bigcirc 3 \quad \square > \square$$

$$3 \bigcirc 4 \quad 3 \bigcirc 5 \quad 5 - 3 \bigcirc 2 \quad \square < \square$$

Найди неверные равенства и неравенства.

$$4 + 1 = 5 \quad 4 < 2 \quad 5 - 1 = 3$$

$$3 - 1 < 1 \quad 3 > 4 \quad 2 + 1 = 3$$

Замени в них одно число и запиши верные равенства и неравенства.

Возьми такие карточки и составь из них 3 верных равенства и 3 верных неравенства.

$3 + 1$	4	4	3	5	1	1	4
$5 - 1$	4	2	4	3	2	5	3



У Миши такая монета:



У Коли такие монеты:

У кого из них больше монет?
У кого из них больше рублей?



Сколько всего кукол у Лены и у Веры?

Выбери для каждого рисунка подходящую запись.




$$4 + 1$$

$$4 - 1$$

$$5 - 1$$

$$3 + 1$$

$$3 + 2$$



Расскажи, какие числа надо записать в окошки домов.

ЗАСЕЛЯЕМ ДОМА



Сравните

3 + 1	4	4	3	5	1	1	4
5 - 1	4	2	4	3	2	5	3

У Миши такая монета:




У Коли такие монеты:



У кого из них больше монет?

У кого из них больше рублей?



У Лены



У Веры



Сколько всего кукол у Лены и у Веры?

Выбери для каждого рисунка подходящую запись.



$$4 + 1$$

$$4 - 1$$


$$5 - 1$$

$$3 + 1$$

$$3 + 2$$



Рефлексия



Мне было
Мне трудно!

поработать!
Я всё
понял!



