

Викторина "Знаешь ли ты свою страну?"

ЦЕНТРАЛЬНЫЙ
ЭКОНОМИЧЕСКИЙ РАЙОН


9 класс

Автор: учитель географии МБОУ СШ № 4
г. Калача-на-Дону
Волгоградской обл.
Бондаренко Кристина Николаевна



1 тур

«Укажите правильный ответ»




Этот экономический район
состоит из 5-ти субъектов РФ:

1. Центральный экономический р-он
2. Центрально-Черноземный
экономический р-он
3. Волго-Вятский экономический р-он




Найдите ошибку в перечне соседей
Центрально-Чернозёмного р-на:

1. Украина
2. Волго-Вятский р-он
3. Центральный р-он



Проблема, Нехарактерная для Центрального р-на:

1. Сложная экологическая ситуация
2. Слабая транспортная освоенность территории
3. Истощение природных ресурсов



Крупнейший центр нефтехимии Волго-Вятского р-на:

1. Киров
2. Кстово
3. Дзержинск
4. Чебоксары
5. Саранск



В состав Центрального района НЕ
входит область:

1. Смоленская
2. Курская
3. Владимирская
4. Калининградская
5. Костромская
6. Брянская




«Золотая хохлома» - это
народный художественный
промысел:

1. г. Кирова
2. с. Городец
3. г. Семенова
4. с. Богородского
5. г. Углич
6. с. Федоскино




Самым крупным городом Центрально-Чернозёмного р-на является:

1. Ростов-на-Дону
2. Воронеж
3. Белгород
4. Борисоглебск
5. Липецк
6. Томбов



В ВВЭР является наиболее развитым
в промышленном отношении ...



1. Нижегородская область
2. Чувашская Республика
3. Республика Мордовия
4. Республика Марий Эл



В г. Ростове Ярославской обл. изготавливают:

1. подносы
2. хрусталь
3. елецкое кружево
4. дымковскую игрушку
5. матрёшку
6. лаковую миниатюру
7. керамику
8. финифть



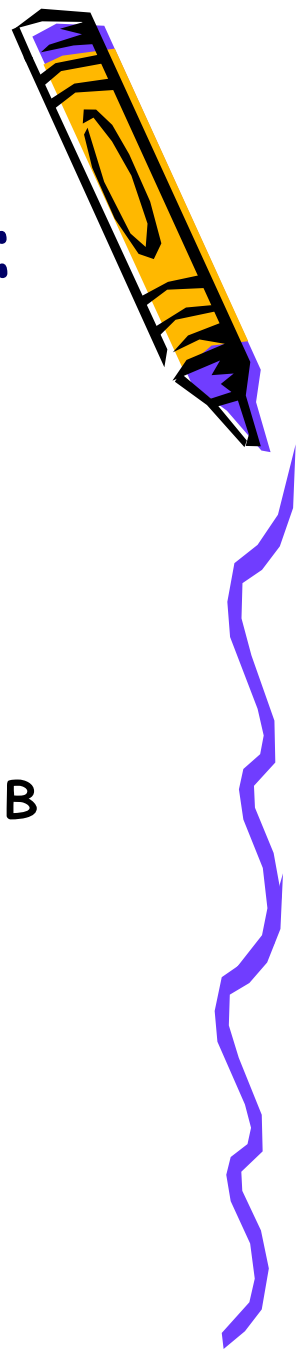
Центрами чёрной металлургии в
ЦЧР являются города:

1. Липецк и Старый Оскол
2. Курск и Воронеж
3. Воронеж и Липецк




Отрасли специализации ВВЭР:

1. машиностроение
2. черная металлургия
3. химическая промышленность
4. лесная промышленность
5. промышленность стройматериалов
6. стекольная промышленность




Древнейший город Центрального р-на:

1. Воронеж
2. Дубна
3. Орехово-Зуево
4. Арзамас
5. Новгород




Москву называют портом пяти морей.
Выхода к какому морю нет?

1. Каспийскому
2. Балтийскому
3. Белому
4. Баренцеву
5. Азовскому
6. Черному




Найдите ошибку в перечне отраслей
специализации с/х ЦЧР:

1. выращивание подсолнечника
2. выращивание зерновых
3. овцеводство



Вид природных ресурсов, запасы
которого в ЦЧР незначительны:


1. почвенные
2. железные руды
3. водные





2 тур

«Найдите город по указанным
координатам»




1. 55° с.ш. 37° в.д.


2. 51° с.ш. 39° в.д.

3. 54° с.ш. 37° в.д.

4. 57° с.ш. 39° в. д.


5. 54° с.ш. 39° в.д.





3 тур

«Где - какой город живёт?»




1. Московская область
2. Республика Марий Эл
3. Тверская область
4. Ярославская область
5. Республика Мордовия
6. Нижегородская область
7. Чувашская республика
8. Ивановская область
9. Воронежская область



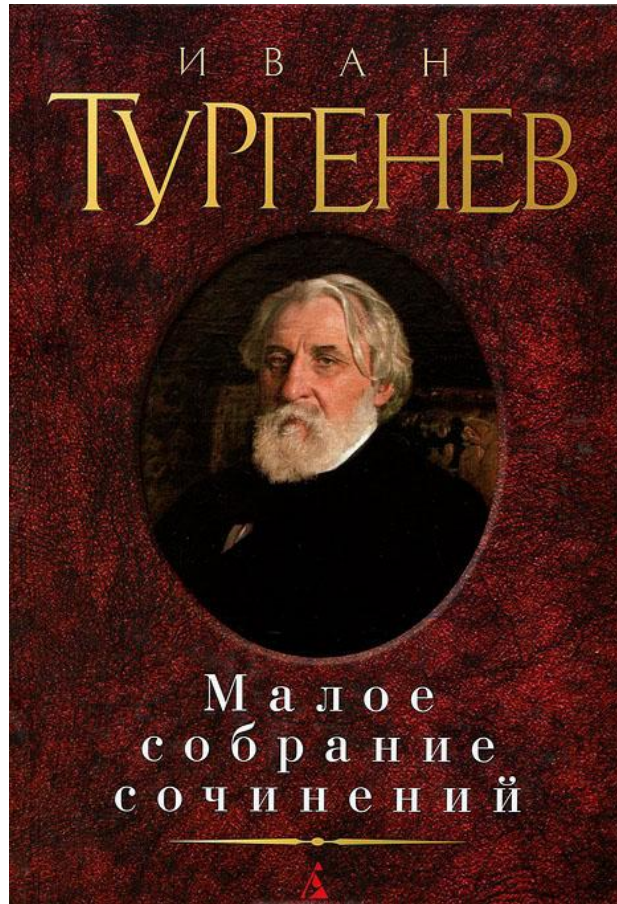


4 тур

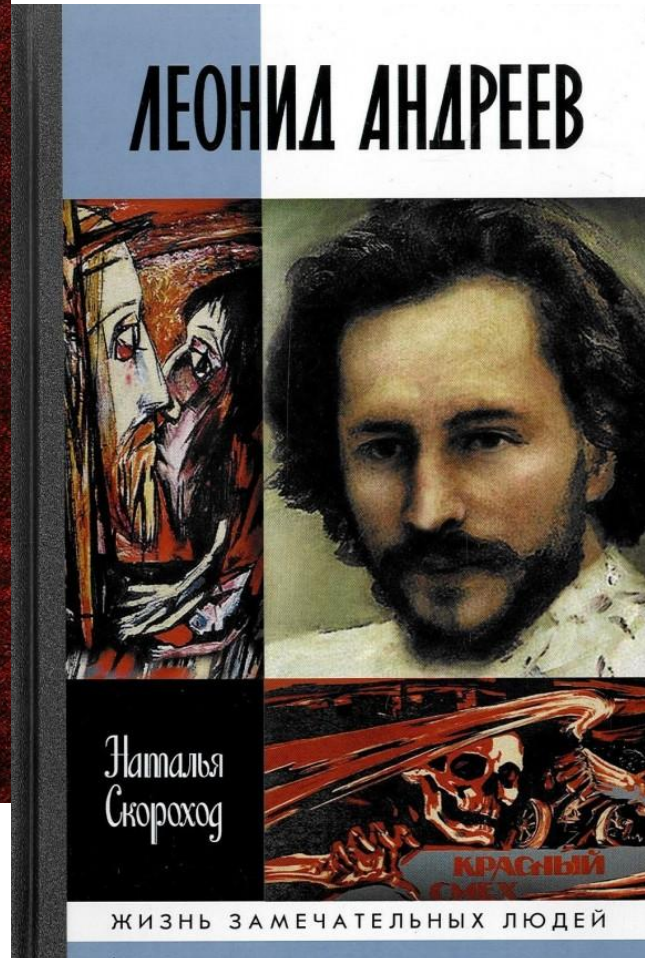
«Найди лишнее, объясни
почему»



1.



2.



3.



1. Оружие

2. Самовары

3. Пряники



1. Нижний Новгород



2. Псков



3. Белгород





5 тур

«Узнай субъект Центральной
России по описанию»

