

A desert landscape featuring rolling sand dunes in the background, a cluster of palm trees and lush greenery in the middle ground, and a calm body of water in the foreground. The scene is bathed in a warm, golden light, suggesting a sunset or sunrise.

А Ф Р И К А

**Географическое
положение.**

Исследования

Африки

Красноярск - 2013

Цель урока: формирование знаний о физико-географическом положении Африки и истории исследования материка.

Задачи:

- 1) Охарактеризовать по плану географическое положение Африки;**
- 2) Нанести на карту географические объекты, характеризующие географическое положение Африки;**
- 3) Познакомиться с исследователями материка.**

План изучения географического положения материка

- 1. Определите, как расположен материк относительно экватора, тропиков (полярных кругов) и нулевого меридиана.**
- 2. Найдите крайние точки материка, определите их координаты и протяженность материка с севера на юг и с запада на восток.**
- 3. В каких климатических поясах расположен материк?**
- 4. Определите, какие океаны и моря омывают материк.**
- 5. Как расположен материк относительно других материков?**

Практическая работа

«Нанесение на контурную карту объектов, характеризующих географическое положение Африки».

Задание:

нанести на контурную карту следующие географические объекты:

Мысы: Бен-Секка, Игольный, Альмади, Рас-Хафун

Проливы: Гибралтарский, Баб-эль-Мандебский

Канал: Суэцкий.

Полуостров: Сомали.

Остров: Мадагаскар.

Заливы: Гвинейский.


Моря: Красное, Средиземное.

Океаны: Атлантический, Индийский


ИССЛЕДОВАНИЯ АФРИКИ




Васко да Гама.



Василий Юнкер



Давид Ливингстон



Егор Ковалевский

Задание: Заполните таблицу «История исследования Африки»

Имя исследователя	Время (дата)	Результаты исследований
Васко да Гама		
Давид Ливингстон		
Егор Ковалевский		
Василий Юнкер		

Проблемные вопросы:

- Почему Африка – самый жаркий материк?
- Как изменился бы климат материка, если бы на северо-востоке она омывалась океаном?



A photograph of a prehistoric cave wall covered in red ochre paintings. The artwork includes several stylized human figures in various poses, some appearing to be dancing or in motion. There are also depictions of animals, including a large bull or bison in the center-right and a long, spotted animal, possibly a deer or gazelle, at the bottom. The background is a textured, light brown rock surface.

Домашнее задание:

§24 , заполнить таблицу в тетради.

Спасибо за внимание!

