



# Приёмы устных вычислений вида

$$180 \bullet 4 \quad 900 : 3$$

**СТР. 82**



*К уроку № 115*

**«Школа России» 3 класс**

# Устный счёт



1. Найти разность чисел **540** и **90**.
2. Сумму чисел **320** и **650**.
3. Уменьшаемое **700**, вычитаемое **350**. Найдите разность.
4. К какому числу прибавили **60** и получили **300**?
5. Из какого числа отняли **80** и получили **220**.
6. Из суммы чисел **200** и **300** отнять **50**.
7. На сколько **310** меньше, чем **400** ?
8. **180** увеличили на **130**. Какое число получилось?
9. Из **500** вычесть произведение чисел **30** и **10**.
0. Из **600** вычесть сумму чисел **200** и **150**.
1. Какое число вычли из **900** и получили **450**?

Решите примеры на порядок действий.



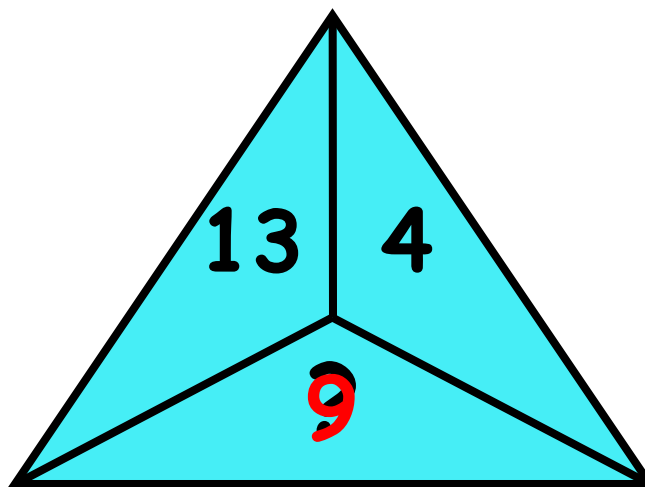
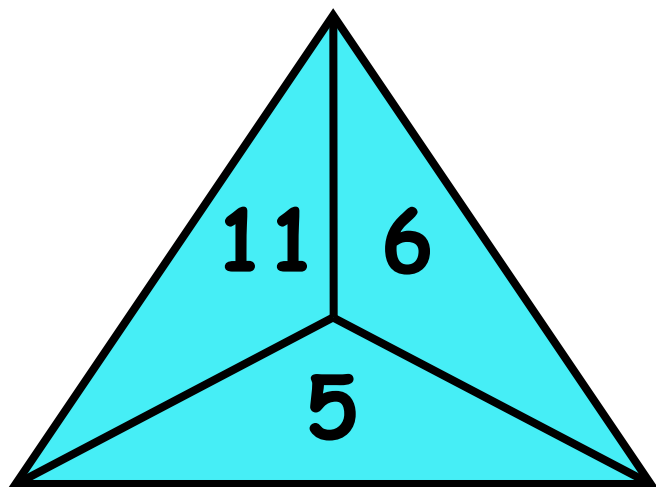
$$72 : 36 + 20 \cdot 10 + 60 \cdot 3 =$$

$$750 - 400 + 15 \cdot 10 + 30 \cdot 4 =$$

$$(900 - 780) : 2 + 13 \cdot 10 - 90 =$$

Какое число должно стоять вместо

«?»



Приём у врача длится **4 часа 45 минут**. Сколько  
всего  
минут длится приём?



Длина Таниной косы **5 дм 4 см**. Какова длина  
Таниной косы  
в сантиметрах?



ertyozka  
пирозка

Масса арбуза **8 кг 4 г**. Сколько граммов весит арбуз?



**8 кг 4**

**г**

Для приготовления **4** тортов необходимо **48** ложек  
муки.

Сколько тортов сможет приготовить кондитер из **84**  
ложек  
муки?





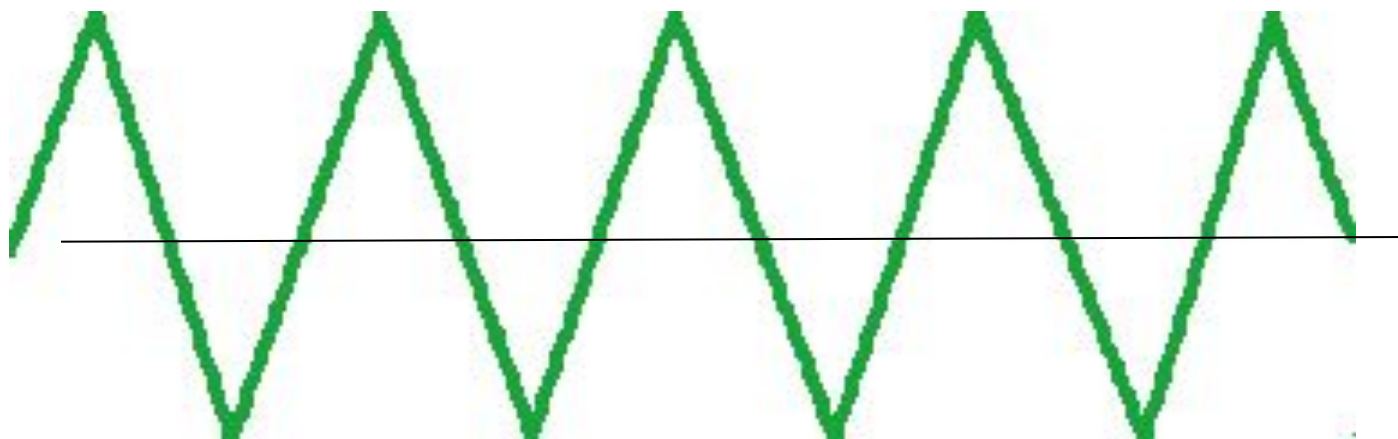
# Задания на смекалку



От числа разбойников, врагов Али-бабы, отнять  
число богатырей, братьев царевны - Лебедь.



Проведите одну линию так, чтобы получилось девять треугольников.



***конец***