

Государственное бюджетное общеобразовательное учреждение Самарской области
средняя общеобразовательная школа № 22
городского округа Чапаевск Самарской области
структурное подразделение - детский сад №28 «Елочка»

Веселый


Мультимедийное пособие по математике
для детей старшего дошкольного
возраста

Воспитатель Хоруженко С.
Н.

2020 г., Чапаевск

Какие числа пропущены? Расставьте их по местам.

3 5 8 9



Какое из данных чисел является наибольшим, а какое наименьшим?

9 > 2 <



Сложение, вычитание, больше, меньше, равно



Сложение, вычитание, больше, меньше, равно



4



5



>



<



=



Геометрические фигуры



Какая геометрическая фигура имеет количество углов, равное сумме чисел 1 и 2?

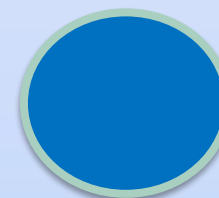
$$1+2=$$

проверь



Геометрические фигуры

Определи геометрическую фигуру и назови ее.



треугольн
ик

прямоугольн
ик


квадра
т

кру
г



Геометрические фигуры

Определи предметы геометрической формы





Какой паровоз отправляется первым?

15.00



12.15





Молодц
ы!

