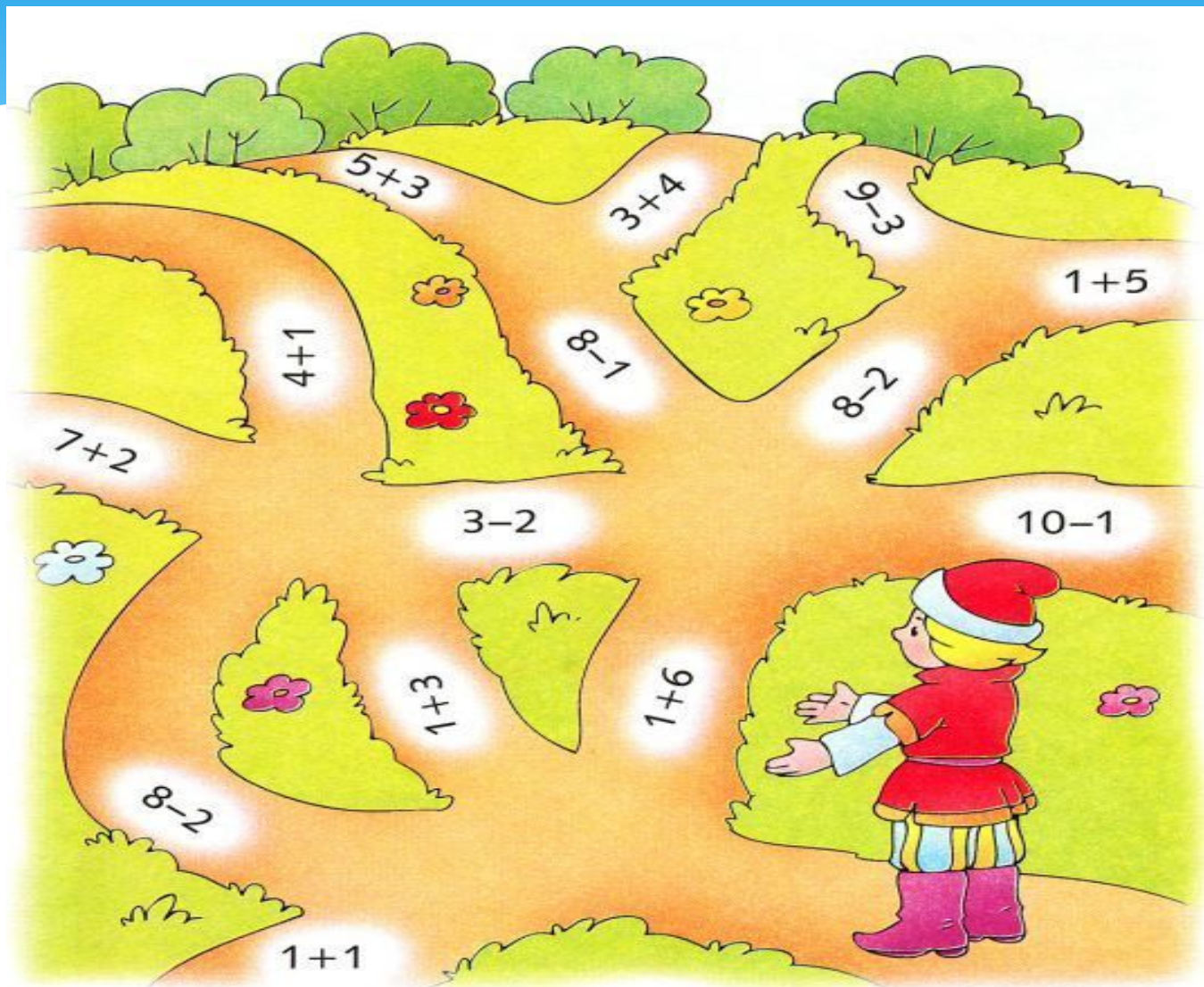


Детско-юношеский центр
«Оберег»


Смысл действия умножения
Заборы «Реши-Пиши» от «Банды
умников»
Поп-ит

Подготовила
Педагог дополнительного образования
Родионова И.С.

Помоги Иванушке выбрать тропинку.
Он сможет пройти только там, где ответ примера 7.



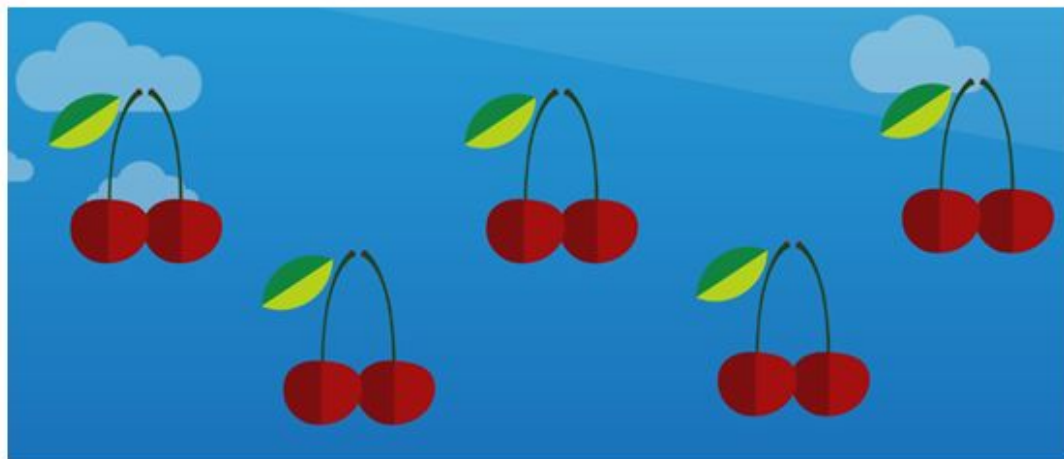
Как нам узнать,
сколько всего вишен?



Заменим действие сложения
умножением.

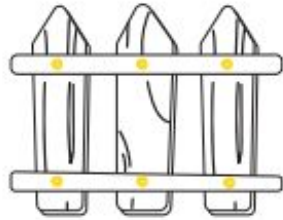
$$2+2+2+2+2=10$$

$$2 \times 5 = 10$$



Сколько гвоздей понадобится, чтобы построить
каждый участок забора?

Пример:



$$\begin{array}{c} \boxed{3} \\ \text{доски} \end{array} \times \begin{array}{c} \boxed{2} \\ \text{перекладины} \end{array} = \begin{array}{c} \text{Нужно} \\ \boxed{6} \\ \text{гвоздей} \end{array}$$

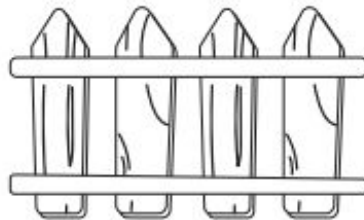


1.



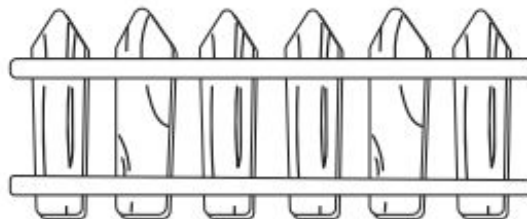
$$\begin{array}{c} \square \\ \text{доски} \end{array} \times \begin{array}{c} \square \\ \text{перекладины} \end{array} = \begin{array}{c} \text{Нужно} \\ \square \\ \text{гвоздя} \end{array}$$

2.



$$\begin{array}{c} \square \\ \text{доски} \end{array} \times \begin{array}{c} \square \\ \text{перекладины} \end{array} = \begin{array}{c} \text{Нужно} \\ \square \\ \text{гвоздей} \end{array}$$

3.



$$\begin{array}{c} \square \\ \text{досок} \end{array} \times \begin{array}{c} \square \\ \text{перекладины} \end{array} = \begin{array}{c} \text{Нужно} \\ \square \\ \text{гвоздей} \end{array}$$

Сколько гвоздей понадобится, чтобы построить каждый участок забора?

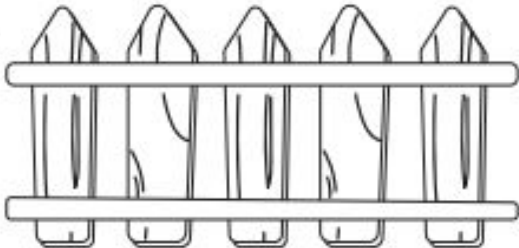
1.



$\square \times \square = \square$

доски перекладины Нужно
гвоздей

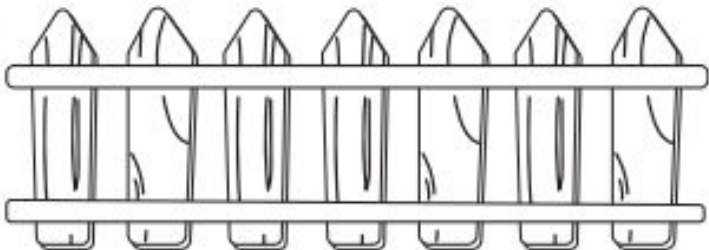
2.



$\square \times \square = \square$

досок перекладины Нужно
гвоздей

3.



$\square \times \square = \square$

досок перекладины Нужно
гвоздей

Умножение с Поп-ит

$$2 \times 2$$



Поиграем с поп-ит.

Решите пример

$$2 \times 3 =$$

Для этого
нажми по **2** пузырька на **3** рядах своего поп-ит.
Сколько всего пузырьков ты нажал, посчитай?

Теперь попробуйте сами

$$3 \times 4 =$$



Молодцы!

