

МАТЕМАТИКА



Задания на лето.
Иду во 2 класс.



Заполни таблицу:



| | Первое слагаемое | Второе слагаемое | Сумма | Сумма или значение суммы |
|---|----------------------|----------------------|----------------------|--------------------------|
| $3+2=5$ | 3 | 2 | $3+2$ | 5 |
| $6+4=$ <input type="text"/> | <input type="text"/> | <input type="text"/> | <input type="text"/> | <input type="text"/> |
| $5+3=$ <input type="text"/> | <input type="text"/> | <input type="text"/> | <input type="text"/> | <input type="text"/> |
| <input type="text"/> = <input type="text"/> | 7 | 2 | <input type="text"/> | <input type="text"/> |
| <input type="text"/> = <input type="text"/> | 9 | 1 | <input type="text"/> | <input type="text"/> |

$5+3$

$9-1$

$6+4$

$7+2$

$9+1$

$2+7$

$1+9$

1

2

3

4

5

6

7

8

9

10

Заполни таблицу:



| | Первое слагаемое | Второе слагаемое | Сумма | Сумма или значение суммы |
|---|----------------------|----------------------|----------------------|--------------------------|
| $3+2=5$ | 3 | 2 | $3+2$ | 5 |
| $6+4=10$ | <input type="text"/> | <input type="text"/> | <input type="text"/> | <input type="text"/> |
| $5+3=$ <input type="text"/> | <input type="text"/> | <input type="text"/> | <input type="text"/> | <input type="text"/> |
| <input type="text"/> = <input type="text"/> | 7 | 2 | <input type="text"/> | <input type="text"/> |
| <input type="text"/> = <input type="text"/> | 9 | 1 | <input type="text"/> | <input type="text"/> |

$5+3$

$9-1$

$6+4$

$7+2$

$9+1$

$2+7$

$1+9$

1

2

3

4

5

6

7

8

9

10

Заполни таблицу:



| | Первое слагаемое | Второе слагаемое | Сумма | Сумма или значение суммы |
|---|----------------------|----------------------|----------------------|--------------------------|
| $3+2=5$ | 3 | 2 | $3+2$ | 5 |
| $6+4=10$ | 6 | <input type="text"/> | <input type="text"/> | <input type="text"/> |
| $5+3=$ <input type="text"/> | <input type="text"/> | <input type="text"/> | <input type="text"/> | <input type="text"/> |
| <input type="text"/> = <input type="text"/> | 7 | 2 | <input type="text"/> | <input type="text"/> |
| <input type="text"/> = <input type="text"/> | 9 | 1 | <input type="text"/> | <input type="text"/> |

$5+3$

$9-1$

$6+4$

$7+2$

$9+1$

$2+7$

$1+9$

1

2

3

4

5

6

7

8

9

10

Заполни таблицу:



| | Первое слагаемое | Второе слагаемое | Сумма | Сумма или значение суммы |
|---|----------------------|----------------------|----------------------|--------------------------|
| $3+2=5$ | 3 | 2 | $3+2$ | 5 |
| $6+4=10$ | 6 | 4 | <input type="text"/> | <input type="text"/> |
| $5+3=$ <input type="text"/> | <input type="text"/> | <input type="text"/> | <input type="text"/> | <input type="text"/> |
| <input type="text"/> = <input type="text"/> | 7 | 2 | <input type="text"/> | <input type="text"/> |
| <input type="text"/> = <input type="text"/> | 9 | 1 | <input type="text"/> | <input type="text"/> |

$5+3$

$9-1$

$6+4$

$7+2$

$9+1$

$2+7$

$1+9$

1

2

3

4

5

6

7

8

9

10

Заполни таблицу:



| | Первое слагаемое | Второе слагаемое | Сумма | Сумма или значение суммы |
|---|----------------------|----------------------|----------------------|--------------------------|
| $3+2=5$ | 3 | 2 | $3+2$ | 5 |
| $6+4=10$ | 6 | 4 | $6+4$ | <input type="text"/> |
| $5+3=$ <input type="text"/> | <input type="text"/> | <input type="text"/> | <input type="text"/> | <input type="text"/> |
| <input type="text"/> = <input type="text"/> | 7 | 2 | <input type="text"/> | <input type="text"/> |
| <input type="text"/> = <input type="text"/> | 9 | 1 | <input type="text"/> | <input type="text"/> |

$5+3$

$9-1$

$6+4$

$7+2$

$9+1$

$2+7$

$1+9$

1

2

3

4

5

6

7

8

9

10

Заполни таблицу:



| | Первое слагаемое | Второе слагаемое | Сумма | Сумма или значение суммы |
|---|----------------------|----------------------|----------------------|--------------------------|
| $3+2=5$ | 3 | 2 | $3+2$ | 5 |
| $6+4=10$ | 6 | 4 | $6+4$ | 10 |
| $5+3=$ <input type="text"/> | <input type="text"/> | <input type="text"/> | <input type="text"/> | <input type="text"/> |
| <input type="text"/> = <input type="text"/> | 7 | 2 | <input type="text"/> | <input type="text"/> |
| <input type="text"/> = <input type="text"/> | 9 | 1 | <input type="text"/> | <input type="text"/> |

$5+3$

$9-1$

$6+4$

$7+2$

$9+1$

$2+7$

$1+9$

1

2

3

4

5

6

7

8

9

10

Заполни таблицу:



| | Первое слагаемое | Второе слагаемое | Сумма | Сумма или значение суммы |
|---------------------|------------------|------------------|-------|--------------------------|
| $3+2=5$ | 3 | 2 | $3+2$ | 5 |
| $6+4=10$ | 6 | 4 | $6+4$ | 10 |
| $5+3=8$ | | | | |
| $\square = \square$ | 7 | 2 | | |
| $\square = \square$ | 9 | 1 | | |

$5+3$

$9-1$

$6+4$

$7+2$

$9+1$

$2+7$

$1+9$

1

2

3

4

5

6

7

8

9

10

Заполни таблицу:



| | Первое слагаемое | Второе слагаемое | Сумма | Сумма или значение суммы |
|---------------------|------------------|------------------|-------|--------------------------|
| $3+2=5$ | 3 | 2 | $3+2$ | 5 |
| $6+4=10$ | 6 | 4 | $6+4$ | 10 |
| $5+3=8$ | 5 | | | |
| $\square = \square$ | 7 | 2 | | |
| $\square = \square$ | 9 | 1 | | |

$5+3$

$9-1$

$6+4$

$7+2$

$9+1$

$2+7$

$1+9$

1

2

3

4

5

6

7

8

9

10

Заполни таблицу:



| | Первое слагаемое | Второе слагаемое | Сумма | Сумма или значение суммы |
|---------------------|------------------|------------------|-------|--------------------------|
| $3+2=5$ | 3 | 2 | $3+2$ | 5 |
| $6+4=10$ | 6 | 4 | $6+4$ | 10 |
| $5+3=8$ | 5 | 3 | | |
| $\square = \square$ | 7 | 2 | | |
| $\square = \square$ | 9 | 1 | | |

$5+3$

$9-1$

$6+4$

$7+2$

$9+1$

$2+7$

$1+9$

1

2

3

4

5

6

7

8

9

10

Заполни таблицу:



| | Первое слагаемое | Второе слагаемое | Сумма | Сумма или значение суммы |
|---------------------|------------------|------------------|-----------|--------------------------|
| $3+2=5$ | 3 | 2 | $3+2$ | 5 |
| $6+4=10$ | 6 | 4 | $6+4$ | 10 |
| $5+3=8$ | 5 | 3 | $5+3$ | |
| $\square = \square$ | 7 | 2 | \square | \square |
| $\square = \square$ | 9 | 1 | \square | \square |

$5+3$

$9-1$

$6+4$

$7+2$

$9+1$

$2+7$

$1+9$

1

2

3

4

5

6

7

8

9

10

Заполни таблицу:



| | Первое слагаемое | Второе слагаемое | Сумма | Сумма или значение суммы |
|---|------------------|------------------|----------------------|--------------------------|
| $3+2=5$ | 3 | 2 | $3+2$ | 5 |
| $6+4=10$ | 6 | 4 | $6+4$ | 10 |
| $5+3=8$ | 5 | 3 | $5+3$ | 8 |
| <input type="text"/> = <input type="text"/> | 7 | 2 | <input type="text"/> | <input type="text"/> |
| <input type="text"/> = <input type="text"/> | 9 | 1 | <input type="text"/> | <input type="text"/> |

$5+3$

$9-1$

$6+4$

$7+2$

$9+1$

$2+7$

$1+9$

1

2

3

4

5

6

7

8

9

10

Заполни таблицу:



| | Первое слагаемое | Второе слагаемое | Сумма | Сумма или значение суммы |
|---------------------|------------------|------------------|-----------|--------------------------|
| $3+2=5$ | 3 | 2 | $3+2$ | 5 |
| $6+4=10$ | 6 | 4 | $6+4$ | 10 |
| $5+3=8$ | 5 | 3 | $5+3$ | 8 |
| $7+2 = \square$ | 7 | 2 | \square | \square |
| $\square = \square$ | 9 | 1 | \square | \square |

$5+3$

$9-1$

$6+4$

$7+2$

$9+1$

$2+7$

$1+9$

1

2

3

4

5

6

7

8

9

10

Заполни таблицу:



| | Первое слагаемое | Второе слагаемое | Сумма | Сумма или значение суммы |
|---------------------|------------------|------------------|-------|--------------------------|
| $3+2=5$ | 3 | 2 | $3+2$ | 5 |
| $6+4=10$ | 6 | 4 | $6+4$ | 10 |
| $5+3=8$ | 5 | 3 | $5+3$ | 8 |
| $7+2=9$ | 7 | 2 | | |
| $\square = \square$ | 9 | 1 | | |

$5+3$

$9-1$

$6+4$

$7+2$

$9+1$

$2+7$

$1+9$

1

2

3

4

5

6

7

8

9

10

Заполни таблицу:



| | Первое слагаемое | Второе слагаемое | Сумма | Сумма или значение суммы |
|---------------------|------------------|------------------|-----------|--------------------------|
| $3+2=5$ | 3 | 2 | $3+2$ | 5 |
| $6+4=10$ | 6 | 4 | $6+4$ | 10 |
| $5+3=8$ | 5 | 3 | $5+3$ | 8 |
| $7+2=9$ | 7 | 2 | $7+2$ | |
| $\square = \square$ | 9 | 1 | \square | \square |

$5+3$

$9-1$

$6+4$

$7+2$

$9+1$

$2+7$

$1+9$

1

2

3

4

5

6

7

8

9

10

Заполни таблицу:



| | Первое слагаемое | Второе слагаемое | Сумма | Сумма или значение суммы |
|---------------------|------------------|------------------|-----------|--------------------------|
| $3+2=5$ | 3 | 2 | $3+2$ | 5 |
| $6+4=10$ | 6 | 4 | $6+4$ | 10 |
| $5+3=8$ | 5 | 3 | $5+3$ | 8 |
| $7+2=9$ | 7 | 2 | $7+2$ | 9 |
| $\square = \square$ | 9 | 1 | \square | \square |

$5+3$

$9-1$

$6+4$

$7+2$

$9+1$

$2+7$

$1+9$

1

2

3

4

5

6

7

8

9

10

Заполни таблицу:



| | Первое слагаемое | Второе слагаемое | Сумма | Сумма или значение суммы |
|----------|------------------|------------------|-------|--------------------------|
| $3+2=5$ | 3 | 2 | $3+2$ | 5 |
| $6+4=10$ | 6 | 4 | $6+4$ | 10 |
| $5+3=8$ | 5 | 3 | $5+3$ | 8 |
| $7+2=9$ | 7 | 2 | $7+2$ | 9 |
| $9+1=$ | 9 | 1 | | |

5+3 9-1 6+4 7+2 9+1 2+7 1+9
1 2 3 4 5 6 7 8 9 10

Заполни таблицу:



| | Первое слагаемое | Второе слагаемое | Сумма | Сумма или значение суммы |
|--|--------------------------------|--------------------------------|----------------------------------|---------------------------------|
| $3+2=5$ | 3 | 2 | $3+2$ | 5 |
| $6+4=$ <input type="text" value="10"/> | <input type="text" value="6"/> | <input type="text" value="4"/> | <input type="text" value="6+4"/> | <input type="text" value="10"/> |
| $5+3=$ <input type="text" value="8"/> | <input type="text" value="5"/> | <input type="text" value="3"/> | <input type="text" value="5+3"/> | <input type="text" value="8"/> |
| <input type="text" value="7+2"/> = <input type="text" value="9"/> | 7 | 2 | <input type="text" value="7+2"/> | <input type="text" value="9"/> |
| <input type="text" value="9+1"/> = <input type="text" value="10"/> | 9 | 1 | <input type="text"/> | <input type="text"/> |

5+3 9-1 6+4 7+2 9+1 2+7 1+9
1 2 3 4 5 6 7 8 9 10

Заполни таблицу:




| | Первое слагаемое | Второе слагаемое | Сумма | Сумма или значение суммы |
|--|--------------------------------|--------------------------------|----------------------------------|---------------------------------|
| $3+2=5$ | 3 | 2 | $3+2$ | 5 |
| $6+4=$ <input type="text" value="10"/> | <input type="text" value="6"/> | <input type="text" value="4"/> | <input type="text" value="6+4"/> | <input type="text" value="10"/> |
| $5+3=$ <input type="text" value="8"/> | <input type="text" value="5"/> | <input type="text" value="3"/> | <input type="text" value="5+3"/> | <input type="text" value="8"/> |
| <input type="text" value="7+2"/> = <input type="text" value="9"/> | 7 | 2 | <input type="text" value="7+2"/> | <input type="text" value="9"/> |
| <input type="text" value="9+1"/> = <input type="text" value="10"/> | 9 | 1 | <input type="text" value="9+1"/> | <input type="text"/> |

5+3 9-1 6+4 7+2 9+1 2+7 1+9
1 2 3 4 5 6 7 8 9 10

Заполни таблицу:



| | Первое слагаемое | Второе слагаемое | Сумма | Сумма или значение суммы |
|----------|------------------|------------------|-------|--------------------------|
| $3+2=5$ | 3 | 2 | $3+2$ | 5 |
| $6+4=10$ | 6 | 4 | $6+4$ | 10 |
| $5+3=8$ | 5 | 3 | $5+3$ | 8 |
| $7+2=9$ | 7 | 2 | $7+2$ | 9 |
| $9+1=10$ | 9 | 1 | $9+1$ | 10 |



Заполни таблицу:



| Слагаемое | Слагаемое | Значение суммы |
|----------------------|----------------------|----------------------|
| 4 | 3 | <input type="text"/> |
| 2 | <input type="text"/> | 9 |
| 5 | 4 | <input type="text"/> |
| <input type="text"/> | 6 | 8 |

1 2 3 4 5 6 7 8 9 10

Заполни таблицу:



| Слагаемое | Слагаемое | Значение суммы |
|----------------------|----------------------|----------------------|
| 4 | 3 | 7 |
| 2 | <input type="text"/> | 9 |
| 5 | 4 | <input type="text"/> |
| <input type="text"/> | 6 | 8 |

1 2 3 4 5 6 7 8 9 10

Заполни таблицу:



| Слагаемое | Слагаемое | Значение суммы |
|----------------------|-----------|----------------------|
| 4 | 3 | 7 |
| 2 | 7 | 9 |
| 5 | 4 | <input type="text"/> |
| <input type="text"/> | 6 | 8 |

1 2 3 4 5 6 7 8 9 10

Заполни таблицу:



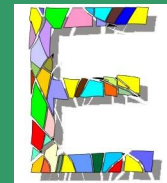
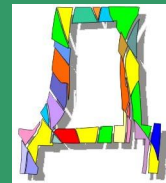
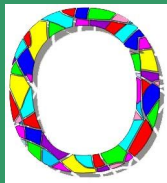
| Слагаемое | Слагаемое | Значение суммы |
|----------------------|-----------|-------------------|
| 4 | 3 | 7 |
| 2 | 7 | 9 |
| 5 | 4 | 9 |
| <input type="text"/> | 6 | 8 |

1 2 3 4 5 6 7 8 9 10

Заполни таблицу:



| Слагаемое | Слагаемое | Значение суммы |
|-----------|-----------|-------------------|
| 4 | 3 | 7 |
| 2 | 7 | 9 |
| 5 | 4 | 9 |
| 2 | 6 | 8 |



Заполни таблицу:

| | Уменьшаемое | Вычитаемое | Разность | Разность или значение разности |
|---|----------------------|----------------------|----------------------|--------------------------------|
| $8-2=6$ | 8 | 2 | $8-2$ | 6 |
| $10-4=$ <input type="text"/> | <input type="text"/> | <input type="text"/> | <input type="text"/> | <input type="text"/> |
| $9-5=$ <input type="text"/> | <input type="text"/> | <input type="text"/> | <input type="text"/> | <input type="text"/> |
| <input type="text"/> = <input type="text"/> | 7 | 5 | <input type="text"/> | <input type="text"/> |
| <input type="text"/> = <input type="text"/> | 8 | 5 | <input type="text"/> | <input type="text"/> |

$7-5$

$9-5$

$10-4$

$8-5$

$7+5$

1

2

3

4

5

6

7

8

9

10

Заполни таблицу:

| | Уменьшаемое | Вычитаемое | Разность | Разность или значение разности |
|---|----------------------|----------------------|----------------------|--------------------------------|
| $8-2=6$ | 8 | 2 | $8-2$ | 6 |
| $10-4=6$ | <input type="text"/> | <input type="text"/> | <input type="text"/> | <input type="text"/> |
| $9-5=$ <input type="text"/> | <input type="text"/> | <input type="text"/> | <input type="text"/> | <input type="text"/> |
| <input type="text"/> = <input type="text"/> | 7 | 5 | <input type="text"/> | <input type="text"/> |
| <input type="text"/> = <input type="text"/> | 8 | 5 | <input type="text"/> | <input type="text"/> |

$7-5$

$9-5$

$10-4$

$8-5$

$7+5$

1

2

3

4

5

6

7

8

9

10

Заполни таблицу:

| | Уменьшаемое | Вычитаемое | Разность | Разность или значение разности |
|---|----------------------|----------------------|----------------------|--------------------------------|
| $8-2=6$ | 8 | 2 | $8-2$ | 6 |
| $10-4=6$ | 10 | <input type="text"/> | <input type="text"/> | <input type="text"/> |
| $9-5=$ <input type="text"/> | <input type="text"/> | <input type="text"/> | <input type="text"/> | <input type="text"/> |
| <input type="text"/> = <input type="text"/> | 7 | 5 | <input type="text"/> | <input type="text"/> |
| <input type="text"/> = <input type="text"/> | 8 | 5 | <input type="text"/> | <input type="text"/> |

$7-5$

$9-5$

$10-4$

$8-5$

$7+5$

1

2

3

4

5

6

7

8

9

10

Заполни таблицу:

| | Уменьшаемое | Вычитаемое | Разность | Разность или значение разности |
|---|----------------------|----------------------|----------------------|--------------------------------|
| $8-2=6$ | 8 | 2 | $8-2$ | 6 |
| $10-4=6$ | 10 | 4 | <input type="text"/> | <input type="text"/> |
| $9-5=$ <input type="text"/> | <input type="text"/> | <input type="text"/> | <input type="text"/> | <input type="text"/> |
| <input type="text"/> = <input type="text"/> | 7 | 5 | <input type="text"/> | <input type="text"/> |
| <input type="text"/> = <input type="text"/> | 8 | 5 | <input type="text"/> | <input type="text"/> |

$7-5$

$9-5$

$10-4$

$8-5$

$7+5$

1

2

3

4

5

6

7

8

9

10

Заполни таблицу:

| | Уменьшаемое | Вычитаемое | Разность | Разность или значение разности |
|---|----------------------|----------------------|----------------------|--------------------------------|
| $8-2=6$ | 8 | 2 | $8-2$ | 6 |
| $10-4=6$ | 10 | 4 | $10-4$ | <input type="text"/> |
| $9-5=$ <input type="text"/> | <input type="text"/> | <input type="text"/> | <input type="text"/> | <input type="text"/> |
| <input type="text"/> = <input type="text"/> | 7 | 5 | <input type="text"/> | <input type="text"/> |
| <input type="text"/> = <input type="text"/> | 8 | 5 | <input type="text"/> | <input type="text"/> |

$7-5$

$9-5$

$10-4$

$8-5$

$7+5$

1

2

3

4

5

6

7

8

9

10

Заполни таблицу:

| | Уменьшаемое | Вычитаемое | Разность | Разность или значение разности |
|---|----------------------|----------------------|----------------------|--------------------------------|
| $8-2=6$ | 8 | 2 | $8-2$ | 6 |
| $10-4=6$ | 10 | 4 | $10-4$ | 6 |
| $9-5=$ <input type="text"/> | <input type="text"/> | <input type="text"/> | <input type="text"/> | <input type="text"/> |
| <input type="text"/> = <input type="text"/> | 7 | 5 | <input type="text"/> | <input type="text"/> |
| <input type="text"/> = <input type="text"/> | 8 | 5 | <input type="text"/> | <input type="text"/> |

7-5

9-5

10-4

8-5

7+5

1

2

3

4

5

6

7

8

9

10

Заполни таблицу:

| | Уменьшаемое | Вычитаемое | Разность | Разность или значение разности |
|---------------------|-------------|------------|----------|--------------------------------|
| $8-2=6$ | 8 | 2 | $8-2$ | 6 |
| $10-4=6$ | 10 | 4 | $10-4$ | 6 |
| $9-5=4$ | | | | |
| $\square = \square$ | 7 | 5 | | |
| $\square = \square$ | 8 | 5 | | |

$7-5$

$9-5$

$10-4$

$8-5$

$7+5$

1

2

3

4

5

6

7

8

9

10

Заполни таблицу:

| | Уменьшаемое | Вычитаемое | Разность | Разность или значение разности |
|---------------------|-------------|------------|----------|--------------------------------|
| $8-2=6$ | 8 | 2 | $8-2$ | 6 |
| $10-4=6$ | 10 | 4 | $10-4$ | 6 |
| $9-5=4$ | 9 | | | |
| $\square = \square$ | 7 | 5 | | |
| $\square = \square$ | 8 | 5 | | |

$7-5$

$9-5$

$10-4$

$8-5$

$7+5$

1

2

3

4

5

6

7

8

9

10

Заполни таблицу:

| | Уменьшаемое | Вычитаемое | Разность | Разность или значение разности |
|---------------------|-------------|------------|----------|--------------------------------|
| $8-2=6$ | 8 | 2 | $8-2$ | 6 |
| $10-4=6$ | 10 | 4 | $10-4$ | 6 |
| $9-5=4$ | 9 | 5 | | |
| $\square = \square$ | 7 | 5 | | |
| $\square = \square$ | 8 | 5 | | |

$7-5$

$9-5$

$10-4$

$8-5$

$7+5$

1

2

3

4

5

6

7

8

9

10

Заполни таблицу:

| | Уменьшаемое | Вычитаемое | Разность | Разность или значение разности |
|---------------------|-------------|------------|-----------|--------------------------------|
| $8-2=6$ | 8 | 2 | $8-2$ | 6 |
| $10-4=6$ | 10 | 4 | $10-4$ | 6 |
| $9-5=4$ | 9 | 5 | $9-5$ | |
| $\square = \square$ | 7 | 5 | \square | \square |
| $\square = \square$ | 8 | 5 | \square | \square |

$7-5$

$9-5$

$10-4$

$8-5$

$7+5$

1

2

3

4

5

6

7

8

9

10

Заполни таблицу:

| | Уменьшаемое | Вычитаемое | Разность | Разность или значение разности |
|---------------------|-------------|------------|-----------|--------------------------------|
| $8-2=6$ | 8 | 2 | $8-2$ | 6 |
| $10-4=6$ | 10 | 4 | $10-4$ | 6 |
| $9-5=4$ | 9 | 5 | $9-5$ | 4 |
| $\square = \square$ | 7 | 5 | \square | \square |
| $\square = \square$ | 8 | 5 | \square | \square |

$7-5$

$9-5$

$10-4$

$8-5$

$7+5$

1

2

3

4

5

6

7

8

9

10

Заполни таблицу:

| | Уменьшаемое | Вычитаемое | Разность | Разность или значение разности |
|---|-------------|------------|----------------------|--------------------------------|
| $8-2=6$ | 8 | 2 | $8-2$ | 6 |
| $10-4=6$ | 10 | 4 | $10-4$ | 6 |
| $9-5=4$ | 9 | 5 | $9-5$ | 4 |
| $7-5=$ <input type="text"/> | 7 | 5 | <input type="text"/> | <input type="text"/> |
| <input type="text"/> = <input type="text"/> | 8 | 5 | <input type="text"/> | <input type="text"/> |

$7-5$

$9-5$

$10-4$

$8-5$

$7+5$

1

2

3

4

5

6

7

8

9

10

Заполни таблицу:

| | Уменьшаемое | Вычитаемое | Разность | Разность или значение разности |
|---------------------|-------------|------------|----------|--------------------------------|
| $8-2=6$ | 8 | 2 | $8-2$ | 6 |
| $10-4=6$ | 10 | 4 | $10-4$ | 6 |
| $9-5=4$ | 9 | 5 | $9-5$ | 4 |
| $7-5=2$ | 7 | 5 | | |
| $\square = \square$ | 8 | 5 | | |

$7-5$

$9-5$

$10-4$

$8-5$

$7+5$

1

2

3

4

5

6

7

8

9

10

Заполни таблицу:

| | Уменьшаемое | Вычитаемое | Разность | Разность или значение разности |
|---------------------|-------------|------------|-----------|--------------------------------|
| $8-2=6$ | 8 | 2 | $8-2$ | 6 |
| $10-4=6$ | 10 | 4 | $10-4$ | 6 |
| $9-5=4$ | 9 | 5 | $9-5$ | 4 |
| $7-5=2$ | 7 | 5 | $7-5$ | |
| $\square = \square$ | 8 | 5 | \square | \square |

7-5

9-5

10-4

8-5

7+5

1

2

3

4

5

6

7

8

9

10

Заполни таблицу:

| | Уменьшаемое | Вычитаемое | Разность | Разность или значение разности |
|---------------------|-------------|------------|-----------|--------------------------------|
| $8-2=6$ | 8 | 2 | $8-2$ | 6 |
| $10-4=6$ | 10 | 4 | $10-4$ | 6 |
| $9-5=4$ | 9 | 5 | $9-5$ | 4 |
| $7-5=2$ | 7 | 5 | $7-5$ | 2 |
| $\square = \square$ | 8 | 5 | \square | \square |

$7-5$

$9-5$

$10-4$

$8-5$

$7+5$

1

2

3

4

5

6

7

8

9

10

Заполни таблицу:

| | Уменьшаемое | Вычитаемое | Разность | Разность или значение разности |
|----------|-------------|------------|----------|--------------------------------|
| $8-2=6$ | 8 | 2 | $8-2$ | 6 |
| $10-4=6$ | 10 | 4 | $10-4$ | 6 |
| $9-5=4$ | 9 | 5 | $9-5$ | 4 |
| $7-5=2$ | 7 | 5 | $7-5$ | 2 |
| $8-5=$ | 8 | 5 | | |

7-5

9-5

10-4

8-5

7+5

1

2

3

4

5

6

7

8

9

10

Заполни таблицу:

| | Уменьшаемое | Вычитаемое | Разность | Разность или значение разности |
|----------|-------------|------------|----------|--------------------------------|
| $8-2=6$ | 8 | 2 | $8-2$ | 6 |
| $10-4=6$ | 10 | 4 | $10-4$ | 6 |
| $9-5=4$ | 9 | 5 | $9-5$ | 4 |
| $7-5=2$ | 7 | 5 | $7-5$ | 2 |
| $8-5=3$ | 8 | 5 | | |

7-5

9-5

10-4

8-5

7+5

1

2

3

4

5

6

7

8

9

10

Заполни таблицу:

| | Уменьшаемое | Вычитаемое | Разность | Разность или значение разности |
|----------|-------------|------------|----------|--------------------------------|
| $8-2=6$ | 8 | 2 | $8-2$ | 6 |
| $10-4=6$ | 10 | 4 | $10-4$ | 6 |
| $9-5=4$ | 9 | 5 | $9-5$ | 4 |
| $7-5=2$ | 7 | 5 | $7-5$ | 2 |
| $8-5=3$ | 8 | 5 | $8-5$ | |

7-5

9-5

10-4

8-5

7+5

1

2

3

4

5

6

7

8

9

10

Заполни таблицу:

| | Уменьшаемое | Вычитаемое | Разность | Разность или значение разности |
|----------|-------------|------------|----------|--------------------------------|
| $8-2=6$ | 8 | 2 | $8-2$ | 6 |
| $10-4=6$ | 10 | 4 | $10-4$ | 6 |
| $9-5=4$ | 9 | 5 | $9-5$ | 4 |
| $7-5=2$ | 7 | 5 | $7-5$ | 2 |
| $8-5=3$ | 8 | 5 | $8-5$ | 3 |

Задание выполнено успешно!

Заполни таблицу:

| Уменьшаемое | Вычитаемое | Значение разности |
|----------------------|----------------------|----------------------|
| 10 | 2 | <input type="text"/> |
| 6 | 4 | <input type="text"/> |
| 7 | 3 | <input type="text"/> |
| 8 | <input type="text"/> | 4 |
| <input type="text"/> | 3 | 5 |
| 5 | <input type="text"/> | 3 |
| <input type="text"/> | 2 | 4 |

1 2 3 4 5 6 7 8 9 10

Заполни таблицу:

| Уменьшаемое | Вычитаемое | Значение разности |
|-------------|------------|-------------------|
| 10 | 2 | 8 |
| 6 | 4 | |
| 7 | 3 | |
| 8 | | 4 |
| | 3 | 5 |
| 5 | | 3 |
| | 2 | 4 |

1 2 3 4 5 6 7 8 9 10

Заполни таблицу:

| Уменьшаемое | Вычитаемое | Значение разности |
|-------------|------------|-------------------|
| 10 | 2 | 8 |
| 6 | 4 | 2 |
| 7 | 3 | |
| 8 | | 4 |
| | 3 | 5 |
| 5 | | 3 |
| | 2 | 4 |

1 2 3 4 5 6 7 8 9 10

Заполни таблицу:

| Уменьшаемое | Вычитаемое | Значение разности |
|----------------------|----------------------|-------------------|
| 10 | 2 | 8 |
| 6 | 4 | 2 |
| 7 | 3 | 4 |
| 8 | <input type="text"/> | 4 |
| <input type="text"/> | 3 | 5 |
| 5 | <input type="text"/> | 3 |
| <input type="text"/> | 2 | 4 |

1 2 3 4 5 6 7 8 9 10

Заполни таблицу:

| Уменьшаемое | Вычитаемое | Значение разности |
|----------------------|----------------------|-------------------|
| 10 | 2 | 8 |
| 6 | 4 | 2 |
| 7 | 3 | 4 |
| 8 | 4 | 4 |
| <input type="text"/> | 3 | 5 |
| 5 | <input type="text"/> | 3 |
| <input type="text"/> | 2 | 4 |

1 2 3 4 5 6 7 8 9 10

Заполни таблицу:

| Уменьшаемое | Вычитаемое | Значение разности |
|-------------|------------|-------------------|
| 10 | 2 | 8 |
| 6 | 4 | 2 |
| 7 | 3 | 4 |
| 8 | 4 | 4 |
| 8 | 3 | 5 |
| 5 | | 3 |
| | 2 | 4 |

1 2 3 4 5 6 7 8 9 10

Заполни таблицу:

| Уменьшаемое | Вычитаемое | Значение разности |
|-------------|------------|-------------------|
| 10 | 2 | 8 |
| 6 | 4 | 2 |
| 7 | 3 | 4 |
| 8 | 4 | 4 |
| 8 | 3 | 5 |
| 5 | 2 | 3 |
| | 2 | 4 |

1 2 3 4 5 6 7 8 9 10

Заполни таблицу:

| Уменьшаемое | Вычитаемое | Значение разности |
|-------------|------------|-------------------|
| 10 | 2 | 8 |
| 6 | 4 | 2 |
| 7 | 3 | 4 |
| 8 | 4 | 4 |
| 8 | 3 | 5 |
| 5 | 2 | 3 |
| 6 | 2 | 4 |

Задание выполнено успешно!

Конец 4 части

Суркова О. П. Математика. Задания на лето.
Иду во второй класс.

Картинки взяты с сайта:
<http://images.yandex.ru/>

*Презентацию выполнила
учитель начальных классов
МОУ "Новоаннинская гимназия"
Пономарева Л. А.*

Вы скачали эту презентацию на сайте – viki.rdf.ru