

Тес

Т

Геометрия с Дракошей



**Математика, 2
класс**



Прямоугольник, у которого все стороны равны, называется ...



• **квадратом**


• **треугольником**

• **трапецией**

• **овалом**

На рисунке
прямоугольник

В ...



• четыре

• пять

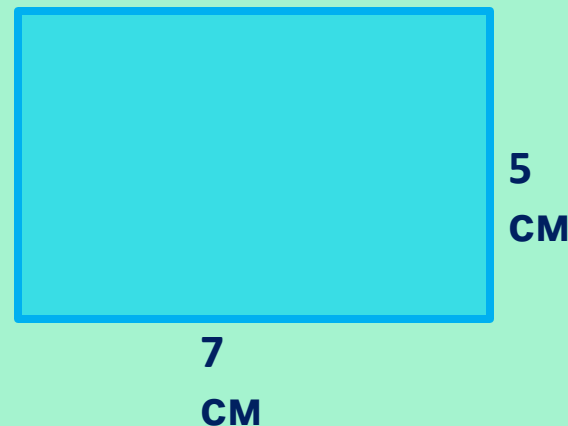
• семь

• девять



Тест

Периметр данного
прямоугольника
равен ...



• 35 см

• 24 см

• 12 см

• 26 см

Выбери пару равных величин



• 50 дм и 50 м


• 20 дм и 2 см

• 6 мм и 60 см

• 7 м и 700 см



В данной
фигуре
углов ...



• **четыре**

• **шесть**

• **восемь**

• **пять**

Через две точки МОЖНО провести ...




• только одну прямую

• две прямых

• три прямых

• много прямых

На рисунке
изображён



...



• прямой угол

• тупой угол

• развёрнутый угол

• острый угол



**Эта
ломаная
состоит из**




• **двух звеньев**

• **трёх звеньев**

• **четырёх звеньев**

• **пяти звеньев**

**Фигуры на
рисунке
называются ...**




• четырёхугольниками

• многоугольниками

• треугольниками

• овалами

Лишняя фигура



• **прямоугольник**

• **трапеция**

• **круг**

• **квадрат**

Тес

Т

Анализ работы с тестом