

1:15 000 000

55°

50°

45°

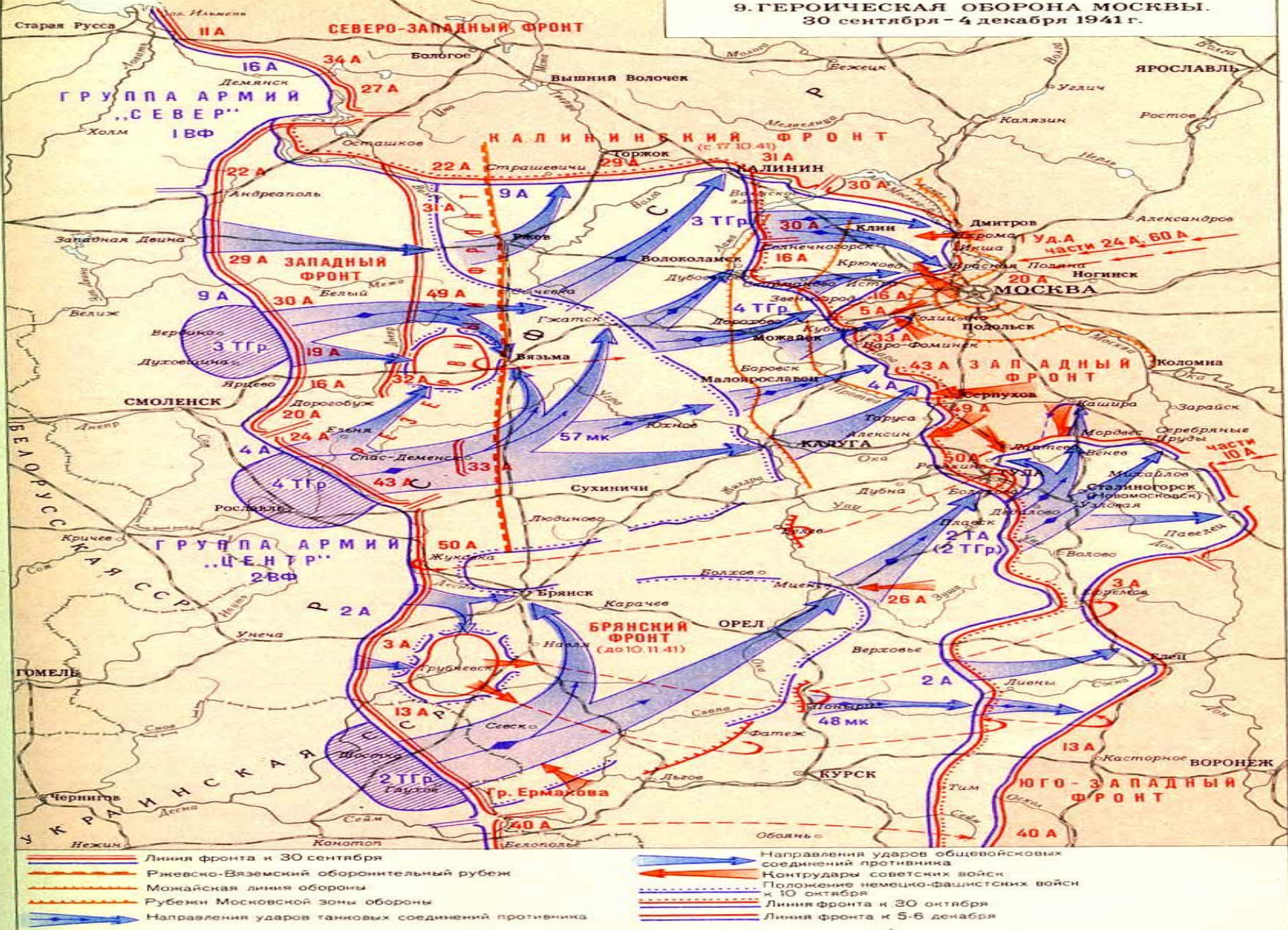
20°

1:8 000 000

100 0 100 200 300 400 км

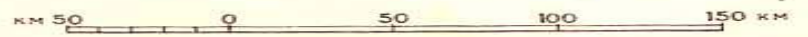
-  Группировка немецко-фашистских войск и войск союзников Германии и 22 июня и положение советских войск
  -  Направления ударов противника с 22 июня до середины июля
  -  Линия фронта на 10-12 июля
  -  Направления ударов противника с середины июля по сентябрь
  -  Линия фронта к концу сентября
  -  Направления ударов противника в октябре-ноябре
  -  Контрудары советских войск
  -  Линия фронта в начале декабря
  -  Районы действия подводных лодок
  -  Эвакуация баз и гарнизонов флотами и флотилиями
- Принятые сокращения:
- ОДР** Одесский оборонительный район
  - СОР** Севастопольский оборонительный район
  - ПОГ** Приморская оперативная группа
  - НАГ** Новгородская армейская группа
  - Прим. А.** Приморская армия

**9. ГЕРОИЧЕСКАЯ ОБОРОНА МОСКВЫ.  
30 сентября - 4 декабря 1941 г.**

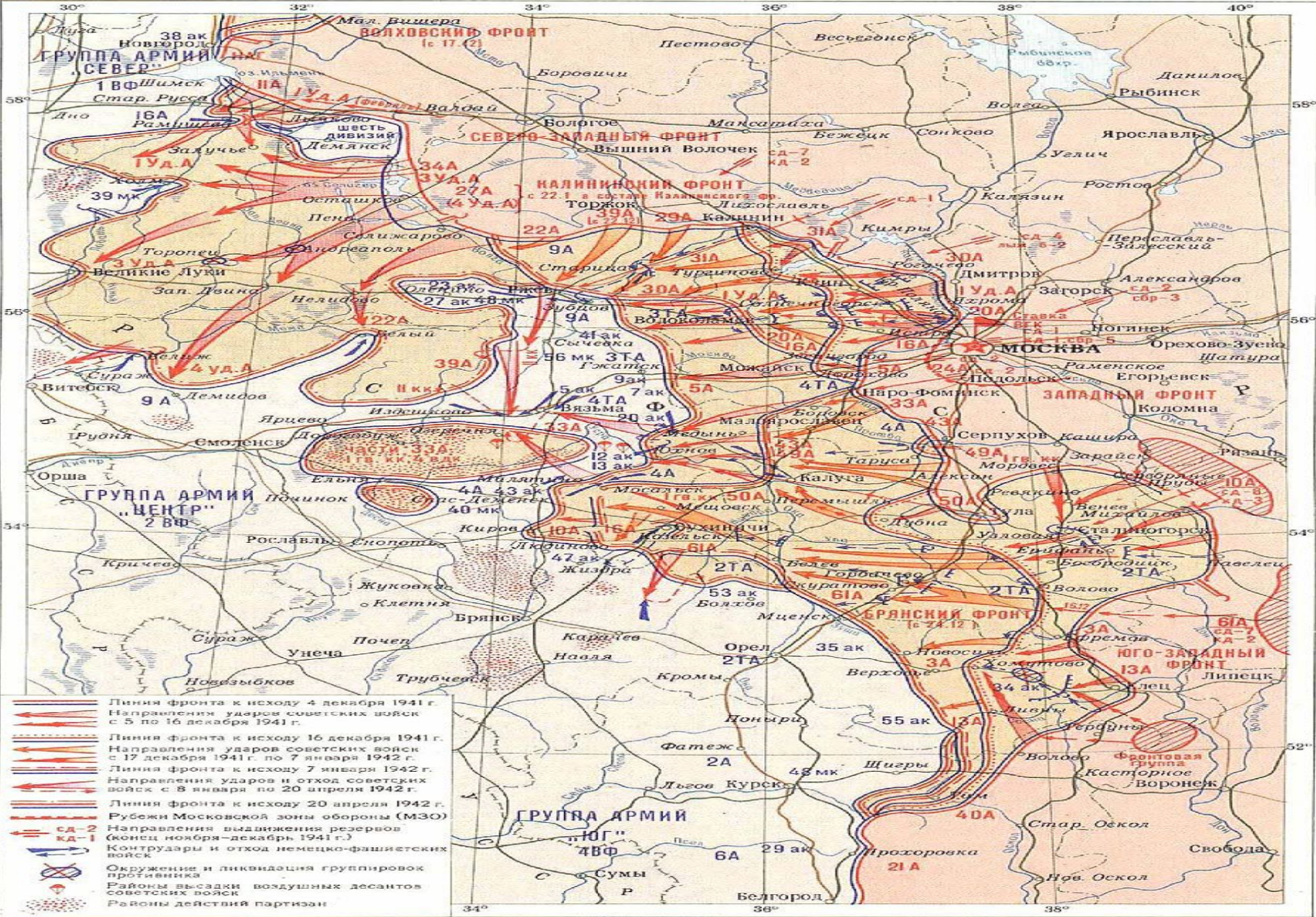


- Линия фронта к 30 сентября
- Ржевско-Вяземский оборонительный рубеж
- Можайская линия обороны
- Рубежи Московской зоны обороны
- Направления ударов танковых соединений противника

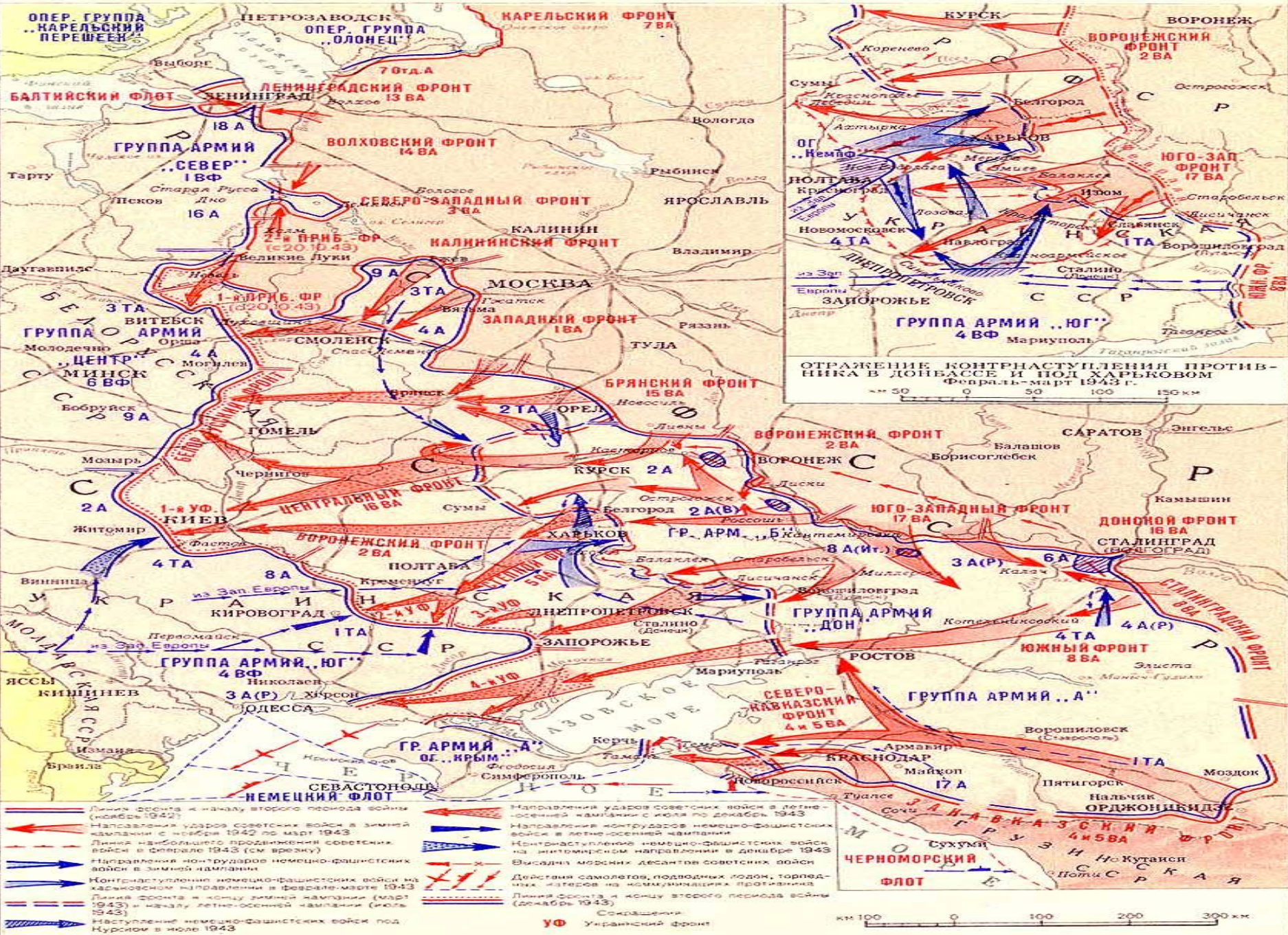
- Направления ударов общевойсковых соединений противника
- Контрудары советских войск
- Положение немецко-фашистских войск к 10 октября
- Линия фронта к 30 октября
- Линия фронта к 5-6 декабря



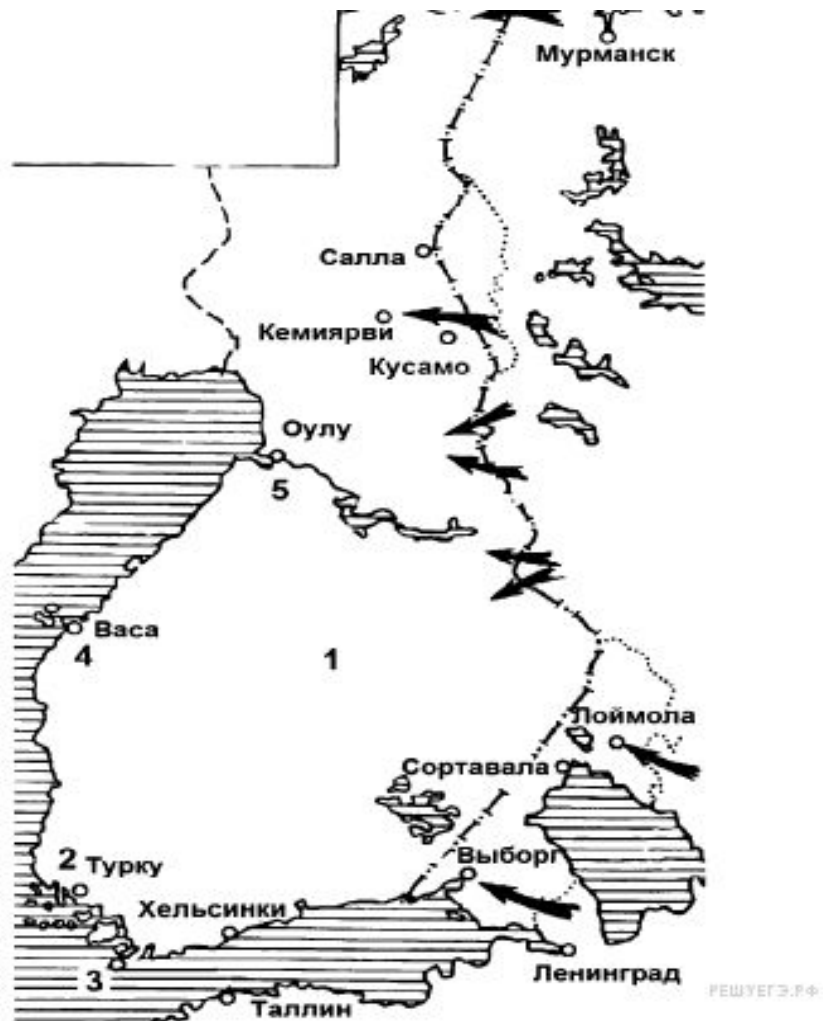
**КОНТРАСТНОЕ ПОНЯТИЕ ПОД МОСКВОЙ И ОБЩЕЕ НАСТУПЛЕНИЕ СОВЕТСКОЙ АРМИИ НА ЗАПАДНОМ НАПРАВЛЕНИИ 5 декабря 1941 г. — 20 апреля 1942 г.**



16. ОБЩИЙ ХОД ВОЕННЫХ ДЕЙСТВИЙ ВО ВТОРОМ ПЕРИОДЕ ВОЙНЫ. Ноябрь 1942 г.-декабрь 1943 г.



Операции войны	События	Дата	Главнокомандующие
Барбаросса	Военная кампания Германии против СССР	22.06.1941	
Тайфун	Немецкая операция, целью которой был захват и уничтожение Москвы	Сентябрь-декабрь 1941 года	фон Бок, Гудериан, Штраус, фон Клюге и др.
Уран	Контрнаступление Советских войск в ходе Сталинградской битвы	19 ноября 1942 – 2 февраля 1943 года	Юго-западный фронт – Ватутин Донской фронт – Ракоцавский Сталинградский фронт – Ерёменко
Кольцо	Окружение и уничтожение остатков фашистских войск во главе с фельдмаршалом Паулюсом в ходе Сталинградской битвы	10 января – 2 февраля 1943 года	Командующий Донским фронтом Ракоцавский
Искра	Прорыв блокады Ленинграда	12-30 января 1943 года	Ленинградский фронт – Говоров Волховский фронт – Мерецков
Цитадель	План немецкого Генштаба, направленный на выравнивание положения после начала коренного перелома (конец 1942 – начало 1943)	Весна – лето 1943 года	
Кутузов	Курская битва и наступление по всему фронту	1 июля – 18 августа 1943 года	Западный фронт – Соколовский Брянский фронт – Попов
Полководец Румянцева	Наступление на Белгородско-Харьковском направлении в ходе Курской битвы	3-30 августа 1943 года	1-й Украинский фронт – Ватутин 2-й Украинский фронт – Конев
Корсунь-Шевченковская	Наступление на Правобережной Украине	24 января – 17 февраля 1944 года	1-й Украинский фронт – Ватутин 2-й Украинский фронт – Конев
Январский гром (Красносельско-Ропшинская)	Снятие блокады Ленинграда	14-30 января 1944 года (27.01 – снятие блокады)	Ленинградский фронт – Говоров
Берлинская операция		16 апреля – 8 мая 1945 года (2.05 – штурм)	И.В. Сталин 1-й Белорусский фронт –



Какие суждения, относящиеся к войне, которой посвящена схема, являются верными? Выберите три суждения из пяти предложенных. Запишите в таблицу цифры, под которыми они указаны.

- 1) начало войны относится к 1939 г.
- 2) союзниками СССР в этой войне были США и Великобритания
- 3) результатом войны стало присоединение к СССР территории с городом Выборгом
- 4) основные военные действия в этой войне пришлось на зимний период
- 5) СССР не получил в результате войны территориальных приобретений
- 6) в ходе войны противник не оказал советским войскам серьезного сопротивления

Заполните пропуски в данных предложениях, используя приведённый ниже список пропущенных элементов: для каждого предложения, обозначенного буквой и содержащего пропуск, выберите номер нужного элемента.

- А) Видным деятелем партизанского движения в годы Великой Отечественной войны был \_\_\_\_\_.
- Б) В 1941—1942 гг. в течение 250 дней держал оборону против фашистских войск город \_\_\_\_\_.
- В) Смоленское сражение относится к \_\_\_\_\_.

Пропущенные элементы:

- 1) Киев
- 2) С. А. Ковпак
- 3) 1941 г.
- 4) Севастополь
- 5) Д. В. Давыдов
- 6) 1942 г.

Запишите в ответ цифры, расположив их в порядке, соответствующем буквам:

Заполните пропуски в данных предложениях, используя приведённый ниже список пропущенных элементов: для каждого предложения, обозначенного буквой и содержащего пропуск, выберите номер нужного элемента.

- А) В \_\_\_\_\_ 1942 г. началось контрнаступление советских войск под Сталинградом.
- Б) Первая встреча руководителей СССР, США и Великобритании состоялась в Тегеране в \_\_\_\_\_ г.
- В) В годы войны сводки Совинформбюро, из которых советские люди узнавали об обстановке на фронте, зачитывал диктор советского радио \_\_\_\_\_.

Пропущенные элементы:

- 1) Ю. Б. Левитан
- 2) ноябрь
- 3) А. Т. Твардовский
- 4) 1943
- 5) апрель
- 6) 1942



Заполните пропуски в данных предложениях, используя приведённый ниже список пропущенных элементов: для каждого предложения, обозначенного буквой и содержащего пропуск, выберите номер нужного элемента.

А) Один из организаторов подпольной антифашистской организации «Молодая гвардия» — \_\_\_\_\_.

Б) США приняли официальное решение о распространении ленд-лиза на СССР в \_\_\_\_\_ 1941 г.

В) Союзницей Германии во Второй мировой войне была \_\_\_\_\_.

Пропущенные элементы:

1) О. В. Кошевой

2) Бельгия

3) июнь

4) ноябрь

5) Италия

6) Ф. И. Толбухин