

**Урок
математики
13.09**



Назови числа

1 дес. 5 ед.

15

5 дес. 9 ед.

59

3 дес. 1 ед.

31

2 дес. 8 ед.

28

9 дес. 6 ед.

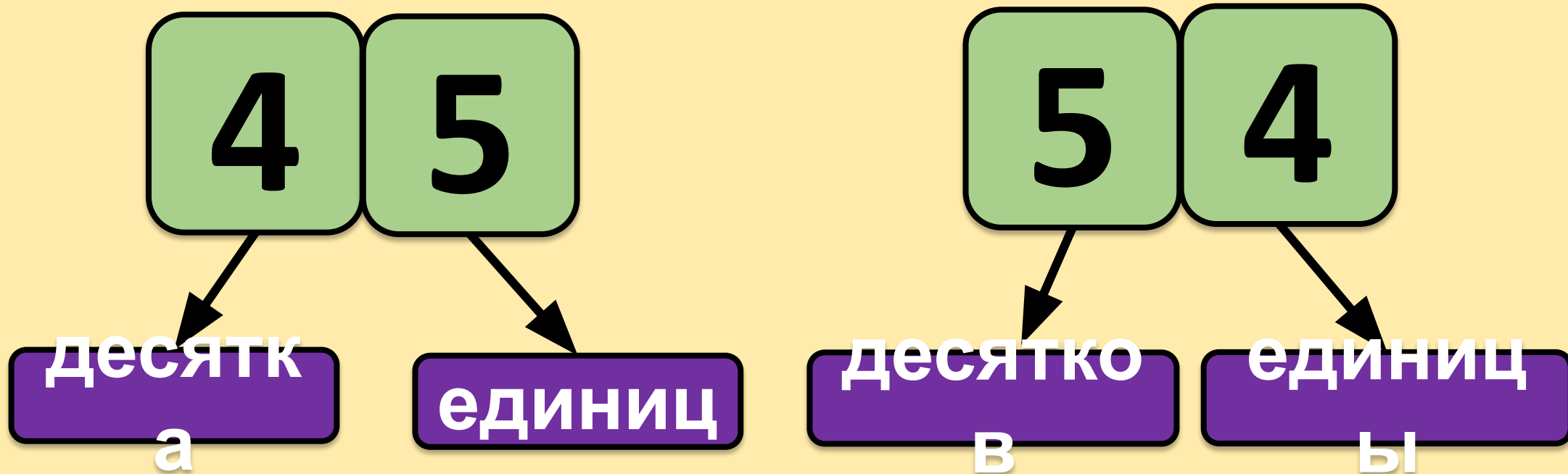
96

7 дес.


70



Назови, сколько десятков и
единиц в каждом из этих чисел



Назови количество десятков, единиц и получившееся число



2

3

десятка

единицы

23



3

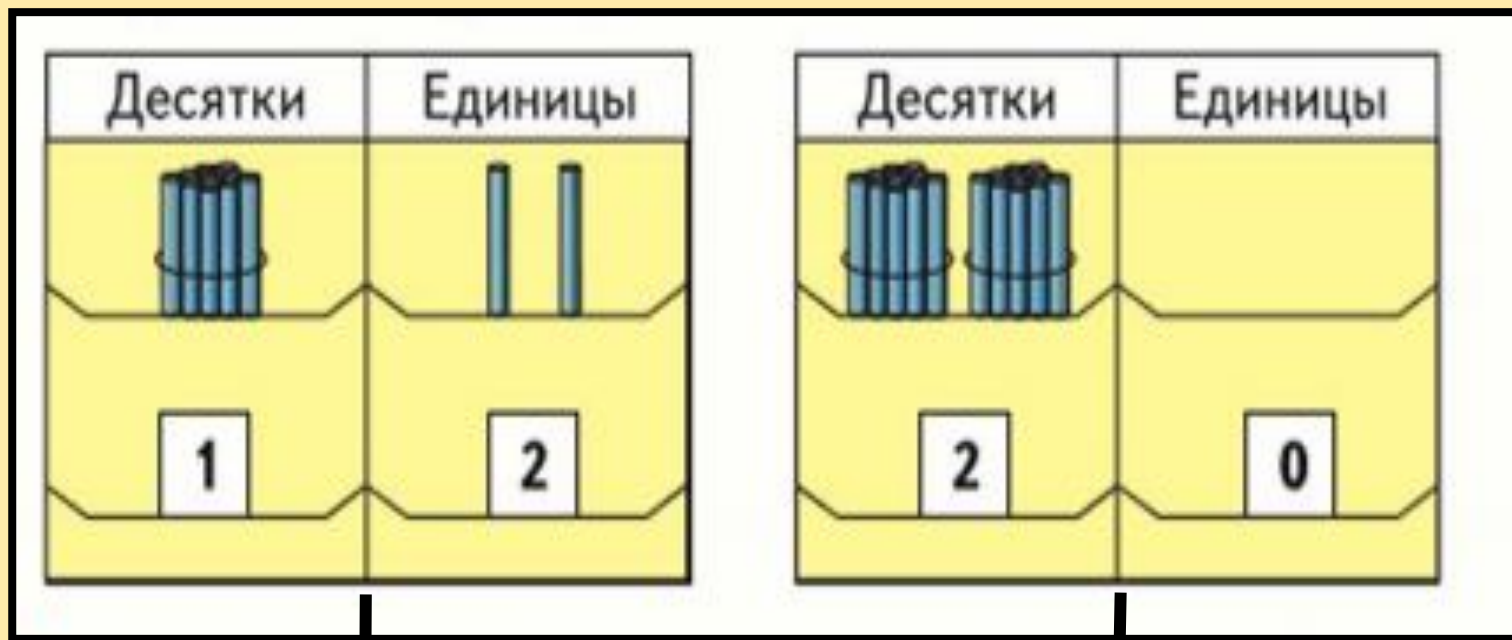
2

десятка

единицы

32

Открой учебник на стр. 8
Назови получившиеся числа



12

20



№1

$$12 + 1 \text{ дес.} = 22$$

$$20 + 1 \text{ дес.} = 30$$



Выполни письменно в
своей тетради №2,
используя памятку по
оформлению записей
в тетради.



13 сентября
↓
№ 1
→ 13, 18, 23, 36, 45
↓
№ 2
→ 10 - 5 = 5 20 - 6 = 14 9 - 3 = 6
→ 13 - 8 = 5 18 - 10 = 8 15 + 4 = 19
↓
14 сентября
Задача № 6
Света - 5 к. ←
Аня - ?, на 2 >]
1) 5 + 2 = 7 (к.)
Ответ: у Ани 7 конфет.
№ 10
3 - 3 = 0 5 + 0 = 5
№ 11
50 дм = 500 см.

Проверяем

27



7 ед.

72



2 ед.



Выполни письменно

№3

Проверяем

11

14

40

44

29

90

99

12

15

41

45

30

91

100



Давай вспомним!

$$1 \text{ дм} = 10 \text{ см}$$

Выполни письменно №4

19 см

<

2 дм

40 см

=

4 дм

1 дм 3 см

<

30 см

1 дм 5 см

<

50 см



Выполни письменно

№5

Начнем со схемы к задаче:

1 строка -

10 ц.

2 строка -

7

1) $10 - 3 = 7$ (ц.)

2) $10 + 7 = 17$ (ц.)

Ответ: 17 цифр написал Юра.



Выполни устно №6

Проверяем

Письменный стол

7 дм

Журнальный
стол -

5 дм

$$1) 7 - 5 = 2 \text{ дм}$$

Ответ: На 2 дм
журнальный стол ниже
письменного.



Выполни устно №7

Проверяем

$$13 - 6 = 7$$

$$9 + 9 = 18$$

$$5 + 9 = 14$$


$$12 - 7 = 5$$

$$8 + 8 = 16$$

$$4 + 7 = 11$$



Выполни самостоятельно задание
с ЭТИМ условным обозначением



Желаю тебе успехов!

Мудрая Сова

