

# Единицы времени

## Час. Минута

### Урок № 24



*Школа России*  
*Математика 2 класс*





*Устный счёт*

Вставь пропущенные  
числа.



$$5 + 8 = 7 + \square$$

$$12 - 7 = 7 - \square$$

$$17 - 9 = 13 - \square$$

**Запиши только ответы.**



$$17 - 3 =$$

$$68 - 8 =$$

$$23 - 3 =$$

$$87 - 80 =$$

$$19 + 2 =$$

$$33 - 30 =$$

$$45 - 5 =$$

$$50 + 9 =$$

Бабушка испекла **12** блинов, после обеда осталось только



**4** блина. Сколько блинов съели за обедом?

$$12 - 4 = 8$$

(бл.) **8 блинов**



**12 бл.**

После того как **7** булочек съели, на блюде осталось **3** булочки. Сколько было булочек сначала?



$$7 + 3 = 10 \text{ (б.)}$$



**10 булочек**

Назови каждую величину с единицами, в которых её измеряют.



**длина**

**сантиметр**

**лит**

**миллиметр**

**р**

**объём**

**час**

**минут**

**а**

**дециметр**

На тесёмке завязали **5** узлов. На сколько частей  
разделилась тесёмка?



**на 6 частей**







**12 часов ночи  
(полночь)**



**1 час ночи**



**2 часа ночи**



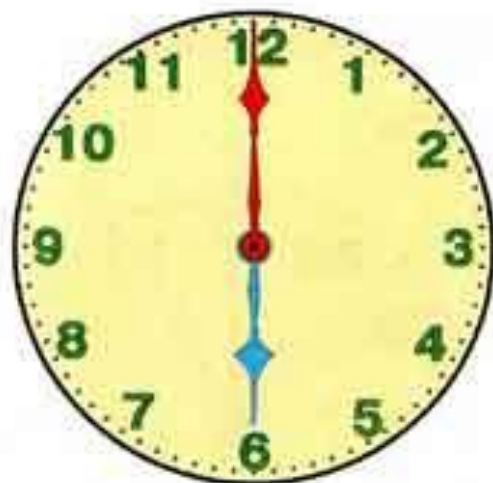
**3 часа ночи**



**4 часа ночи**



**5 часов утра**



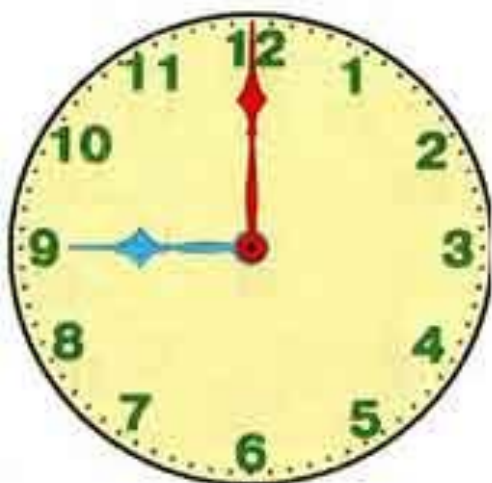
**6 часов утра**



**7 часов утра**



**8 часов утра**



**9 часов утра**



**10 часов утра**



**11 часов утра**

12.30



1.30



2.30



3.30



4.30



5.30




6.30





7.30





Какое время показывают часы?



Какое время показывают часы?

