




Почему европейские христиане-католики организовывали походы против исламских стран?



Чему мы должны научиться на уроке?

7.3.2.7 определять причины и последствия крестовых походов на примере 1-4 походов, обозначая на карте события в их динамике

Критерии оценивания

- ✓ определяет причины и последствия крестовых походов на примере 1-4 крестовых походов
обозначает на карте события 1-4 крестовых походов

В **1095** году на обширной равнине у французского города Клермона перед огромной толпой народа выступил с речью папа римский **Урбан II**. Он призвал собравшихся «опоясаться мечом» и двинуться в Палестину.

Почему?



Pope Urban II Preaches the First Crusade

Каковы же причины крестовых походов?

Давайте их разберем!



*На наш взгляд,
главной причиной
крестовых походов
было....., а
второстепенной....*



политические

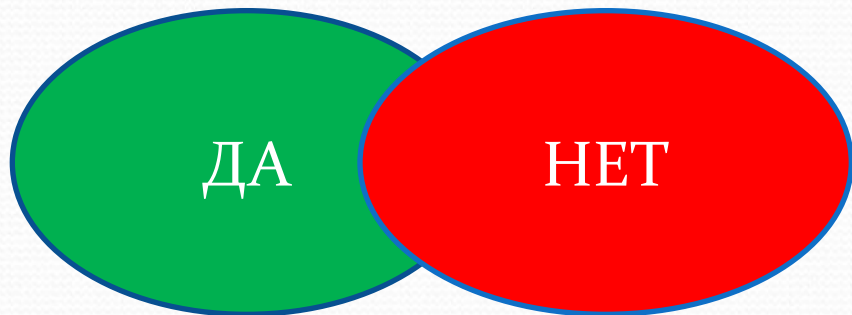
Социально-
экономические

религиозные

***Внимательно посмотрите и
прослушайте видеоролик!***



Группа А




Группа В + В1



Группа С



Прочитайте текст в группах и свои графы в таблице

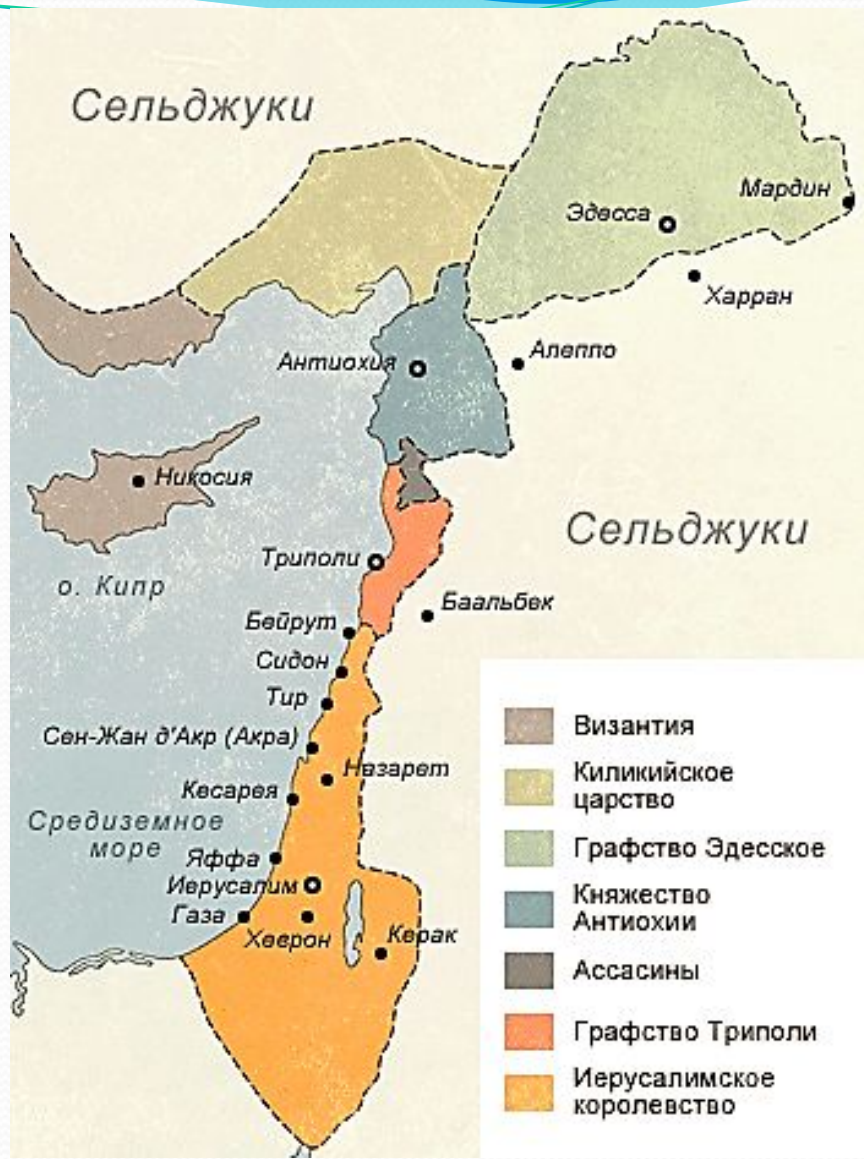


	1 ПОХОД	2 ПОХОД	3 ПОХОД	4 ПОХОД
<i>Дата</i>				
<i>участники</i>				
<i>Результат</i>				



Домашнее задание: по заполненной таблице знать даты крестовых походов, направления крестовых походов по карте, и их результат

По карте записать направления крестовых походов? Знать места расположения важнейших объектов (Византийская империя, город Рим, город Константинополь, Средиземное море, город Иерусалим, владения крестоносцев на востоке) см в презентации.





Филипп II Август



**Ричард I
Львиное Сердце**



**Фридрих I
Барбаросса**

**Тамплиеры
(от франц. «тамбль») -
храм**



Госпитальеры



**Тевтонский
орден**



