

# Таблица сложения стр. 72

## Урок № 112



*Школа России  
Математика 1 класс*




**Смекай, считай, отгадывай  
Пусть победит смекалка.  
Думай, пробуй и ищи,  
Будет трудно – не пищи!**





Устный счёт

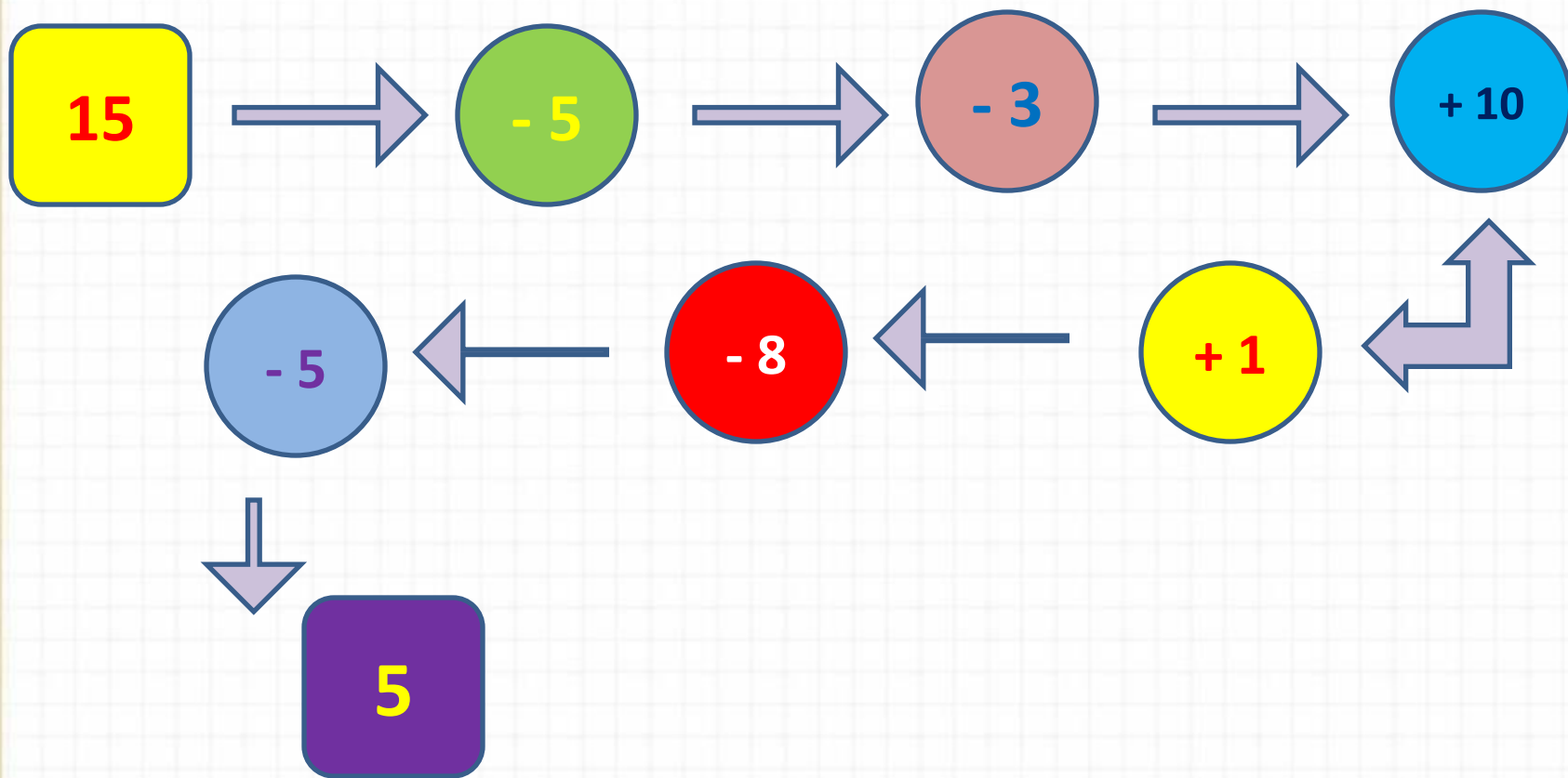
Над рекой летели птицы: голубь, щука, **2** синицы,  
**2** стрижа и **5** угрей. Сколько птиц? Ответ скорей.



**5**

**ПТИЦ**





**Реши цепочку примеров.**

Заполни табличку, которую придумал  
Волшебник

Уменьшаемое	Вычитаемое	Разность
10	2	8
5	5	0
9	7	2
10	6	4
9	1	8





Нажми на звезду!





15

16

17

18

19

20


14

$$7 + 5$$

13

12

11





15

16

17

19

18

20



14

$$9 + 4$$


13

12


11













15

16

17

19

18

20



14

$6 + 7$

13

12

11



# Мультзарядка



<http://www.youtube.com/watch?v=QuqQcy6DsGE>

Мультзарядка

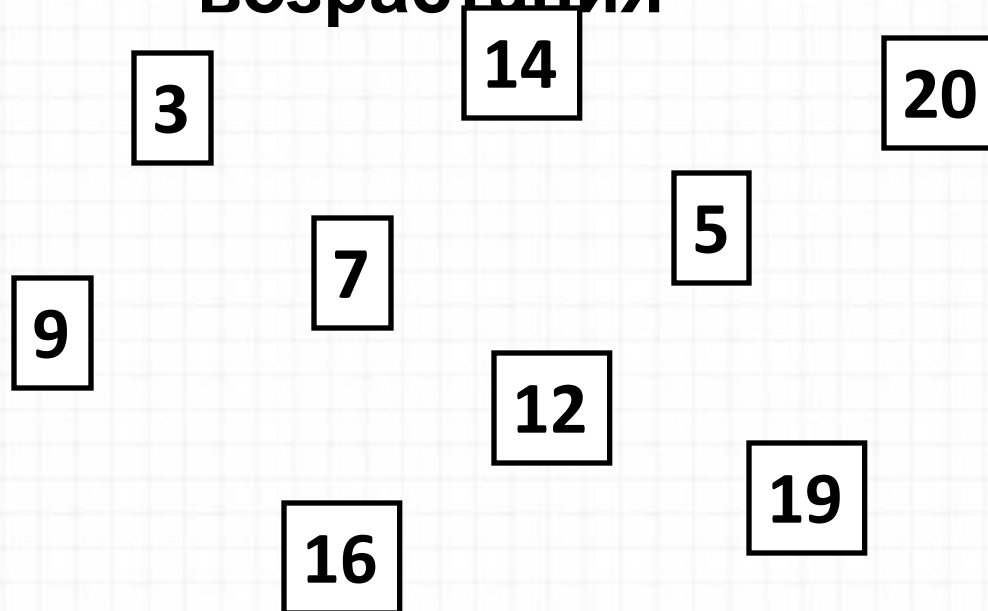
*16 апреля*

**Открой тетрадь,  
запиши число.**




**Напиши числа в порядке**

**возрастания**



**Проверь себя!**

**3, 5, 7, 9, 12, 14, 16, 19, 20**



**Начерти отрезок длиной 8 см.**

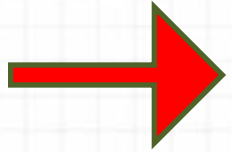


**Помни ! Отрезки черти простым карандашом!**

Найдите и запиши в тетрадь примеры с ответом 14. 

$$8 + 6 =$$

$$9 + 3 =$$



$$9 + 5 =$$

$$8 + 5 =$$


$$7 + 6 =$$



$$7 + 7 =$$

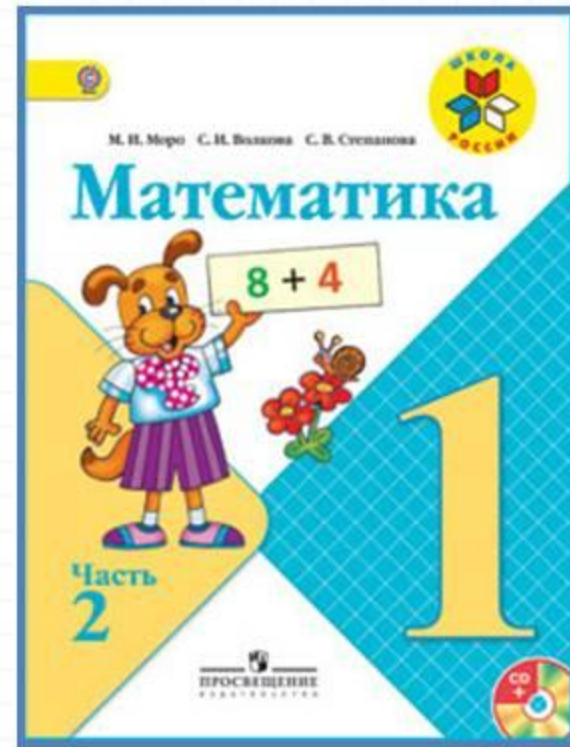
$$10 + 4 =$$

$$17 - 3 =$$





# Работа по учебнику



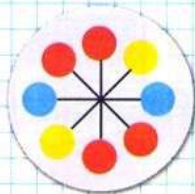
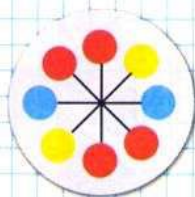
стр. 72

## Таблица сложения

Проследи, как изменяется первое слагаемое; сумма (рассмотри столбцы, строки).

$9+2=11$	$8+3=11$	$7+4=11$	$6+5=11$
$9+3=12$	$8+4=12$	$7+5=12$	$6+6=12$
$9+4=13$	$8+5=13$	$7+6=13$	
$9+5=14$	$8+6=14$	$7+7=14$	
$9+6=15$	$8+7=15$		
$9+7=16$	$8+8=16$		
$9+8=17$			
$9+9=18$			

СРАВНИ:



- 1) Найди по таблице все примеры с ответом 11, 12, 13, 14, 15, 16, 17, 18.  
2) По каждому примеру на сложение составь и реши два примера на вычитание.
2. Весной Даша и Наташа были одинакового роста. За лето Даша выросла на 5 см, а Наташа — на 2 см. На сколько сантиметров одна девочка стала выше другой? Назови её имя.
3. Подбери недостающие числа. Реши задачи.  
1) Высота стула  $\square$  дм, а стола  $\square$  дм. На сколько дециметров стол выше стула?  
2) Миша купил ручку за  $\square$  р. и блокнот за  $\square$  р. Сколько рублей ему должны дать сдачи с 10 р.?
4. Составь верные равенства и неравенства, используя следующие числа:  
13, 8, 7, 15, 9, 6, 5.

«Проверочные работы», с. 44, 45.



## Таблица сложения

Проследи, как изменяется первое слагаемое; сумма (рассмотри столбцы, строки).

$9+2=11$	$8+3=11$	$7+4=11$	$6+5=11$
$9+3=12$	$8+4=12$	$7+5=12$	$6+6=12$
$9+4=13$	$8+5=13$	$7+6=13$	
$9+5=14$	$8+6=14$	$7+7=14$	
$9+6=15$	$8+7=15$		
$9+7=16$	$8+8=16$		
$9+8=17$			
$9+9=18$			

- 1) Найди по таблице все примеры с ответом 11, 12, 13, 14, 15, 16, 17, 18.
- ~~2) По каждому примеру на сложение составь и реши два примера на вычитание.~~

Прочитай  
примеры по  
строкам вслух.

УСТНО



Подумай и заполни состав числа 14

14

9

7

8

5







7

6

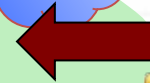





# Физминутка для глаз





**Ребята, берегите зрение!**



2. Весной Даша и Наташа были одинакового роста. За лето Даша выросла на 5 см, а Наташа — на 2 см. На сколько сантиметров одна девочка стала выше другой? Назови её имя.

3. Подбери недостающие числа. Реши задачи.  
1) Высота стула  $\square$  дм, а стола  $\square$  дм. На сколько дециметров стол выше стула?

**Реши № 2 (краткая запись № 7)**

**Реши № 3 (1) (краткая запись № 7)**

**Реши № 4 составь два равенства на сложение и два на вычитание.**

4. Составь верные равенства и ~~неравенства~~, используя следующие числа:  
13, 8, 7, 15, 9, 6, 5.



# Повторение



Реши примеры, записывая промежуточные результаты над первым и вторым действиями примеров .



$$9 + 7 - 4 - 3 =$$

$$8 + 8 + 4 - 10 =$$

$$11 - 2 + 4 - 3 =$$

**Оцени себя в тетради.**





# Задания на смекалку



**Задания выполняются устно, по желанию.**

Летела стая гусей. **Один** гусь впереди, **два** - сзади. **Один** гусь между **двумя** и три гуся рядом. Сколько гусей в стае?



3

Сестра старше брата на **5** лет. На сколько лет она будет старше брата через **7** лет?



на 5




Двое пошли - **3** гвоздя нашли. Следом **четверо** пойдут - много ли гвоздей найдут?



**Скорей всего  
ничего не найдут.**

**Галя** веселее **Оли**, а **Оля** веселее **Иры**. Кто самый веселый?



**Галя**



Шла баба в Москву и повстречала **3** мужиков.  
Каждый из них нес по мешку, в каждом мешке по **1**  
коту. Сколько существ направлялось в Москву?



**МОСКВА**

**Только баба.**



# Рефлексия

**Чему научил вас урок?**

**Какие задания понравились?**

**Что вызвало трудность?**

**Чью работу вам бы хотелось  
отметить?**

**Оцени свою работу на уроке.**

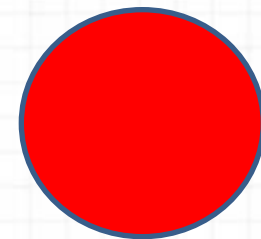

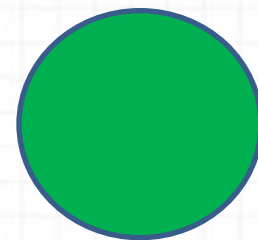


**Оцените себя**

**Зелёный цвет-** всё  
понял, могу идти  
дальше.

**Жёлтый цвет-** ещё  
ошибаюсь.

**Красный цвет-** стоп!  
Мне нужна помощь!



**Радуюсь,**

**глядя**

**на тебе!**





