

ВИКТОРИНА

**Проживают в трудной книжке
Хитроумные братишки.
Десять их, но братья эти
Сосчитают все на свете.**

1, 2, 3, 4, 5, 6, 7, 8, 9, 0

Разгадайте ребусы.

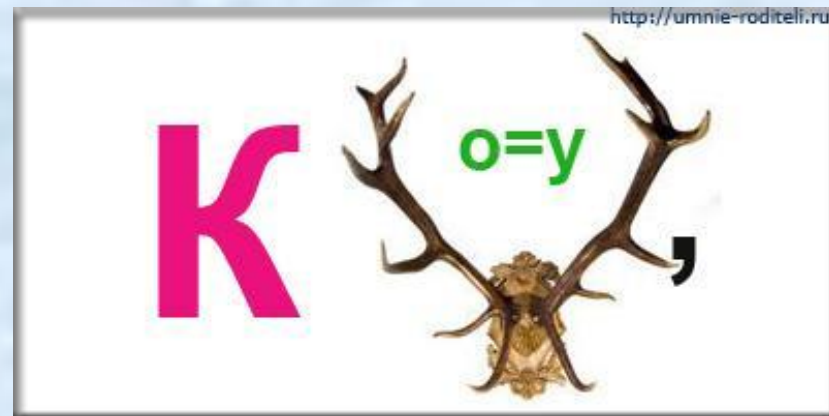

100 лб

По 2 л

40 а

7 я

Разгадайте ребусы.



Задачи-шутки, задачи на смекалку.

1. Что легче 1 кг ваты или 1 кг железа?
2. Ты да я, да мы с тобой. Сколько нас всего?
3. Назовите 5 дней не называя чисел и названий дней.
4. Лестница состоит из 9 ступенек. На какую ступеньку надо встать, чтобы быть как раз на середине лестницы?
5. Две сардельки варятся шесть минут. Сколько времени будут вариться восемь таких сарделек?
1. Когда гусь стоит на двух ногах, то весит четыре килограмма. Сколько будет весить гусь, когда встанет на одну ногу?

Трёх щенков назвали Бобик, Шарик и Тузик.
У Бобика длинные уши. У Шарика длинный
хвост. А Тузик сидит в середине. Кто есть
кто?

Шарик Тузик Бобик



Это Нюся, Пушок и Мурзик.
Нюся и Мурзик не полосатые.
Справа от Нюси сидит Пушок.
Кто есть кто?

Мурзик Нюся Пушок



Подумай!

Жили-были три девочки: Таня, Лена и Даша.
Таня выше Лены, Лена выше Даши.
Кого из них как зовут?




Лена

Даша

Таня

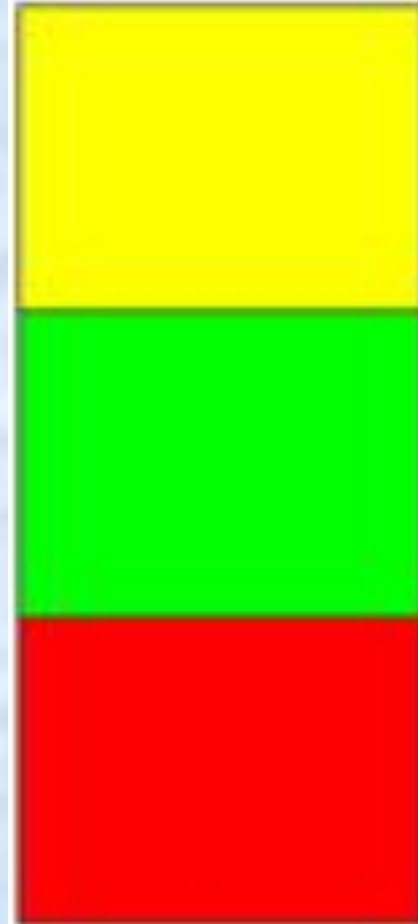
Самый внимательный!

Посмотрите на этот рисунок и найдите две одинаковые фигуры. Чем они отличаются?



Ответ

.



**Хоть у нас четыре ножки,
Мы не мышки и не кошки.
Хоть мы все имеем спинки,
Мы не овцы и не свинки.
Мы не кони, хоть на нас
Вы садились много раз.**

Задача


**Стоит в поле дуб, а на дубе 8 веток.
На каждой ветке по 2 крупные
сладкие сливы. Сколько слив ты
можешь собрать?**

**Пятерка братьев неразлучна,
Им вместе никогда не скучно.
Они работают пером,
Пилою, ложкой, топором.**

Задача

Сколько концов у трёх с половиной палок?

Сколько здесь
треугольников?



**В школе есть такая птица:
Если сядет на страницу,
То с поникшей головой
Возвращаюсь я домой.**

Молодцы!