

МБОУ «ООШ № 100 им. С. Е. Цветкова»

**Проверочные работы по физике
для 7 – 8 класса
(2 часть)**

**Подготовила:
Аксёнова Наталья Петровна**

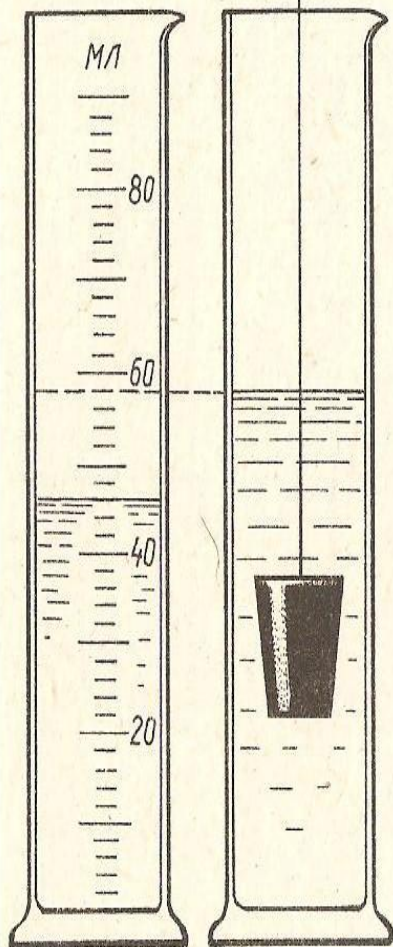
г. Новокузнецк – 2011г.

«МЕНЗУРКИ»

1. Определите цену деления мензурки.
2. Каков объём жидкости в мензурке (начальный и конечный)?
3. Определите предел измерения мензурки.
4. Определите объём тела, находящегося в мензурке.
5. Определите массу тела, находящегося в мензурке (зная его плотность).

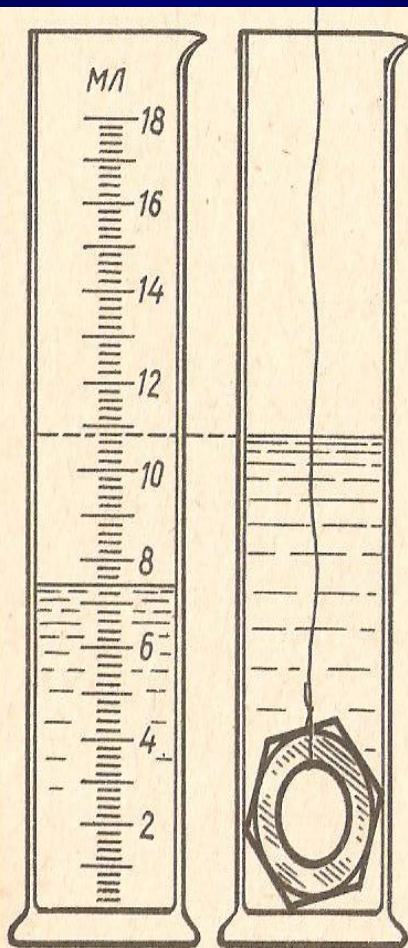
Вариант № 1

«А»



Латунь

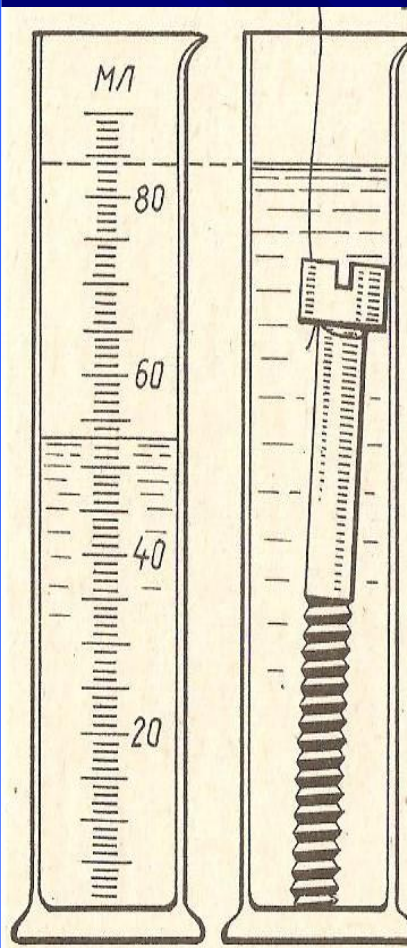
«В»



Железо

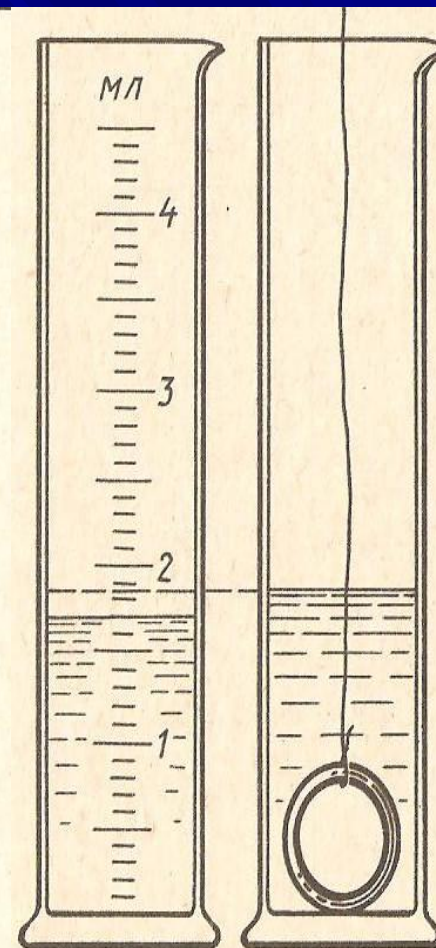
Вариант № 2

«А»



Железо

«В»



Золото

Используемая литература:

Л.И. Скрябин – «Дидактический материал по физике. 7 – 8 класс»
(Москва, «Просвещение», 1989 г.)