

Урок № 36

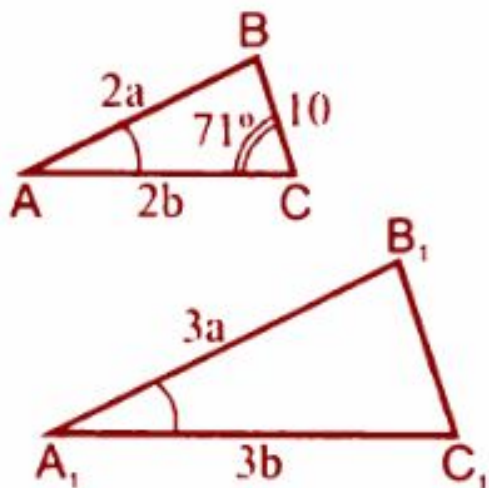
Решение задач на применение
признаков подобия треугольников

*Проверка выполнения домашнего задания:
П. 60, 61, вопросы 6,7 (стр. 160), № 559, 560, 561*

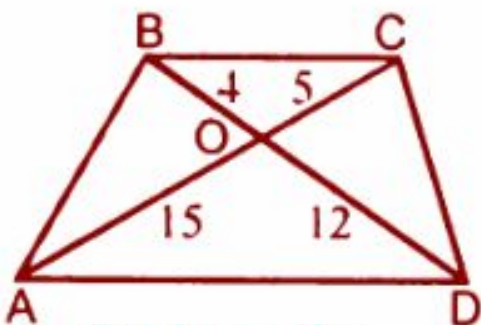
Индивидуальные карточки

**Сформулируйте признаки подобия треугольников.
Докажите теоремы, выражающие второй и третий
признаки равенства треугольников.**

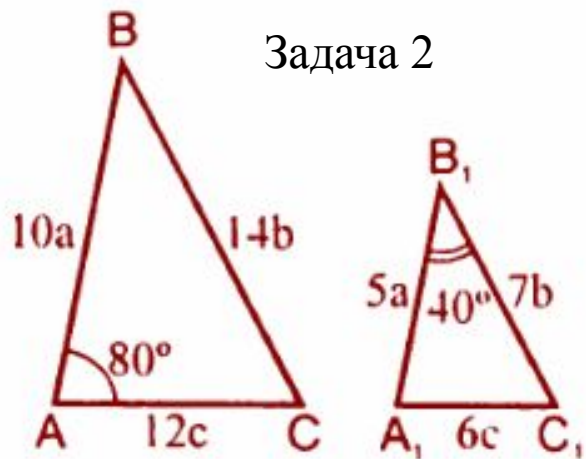
**Решение задач на готовых чертежах.
Работа проводится самостоятельно.**



Найти: $\angle C_1, \angle B_1C_1$.

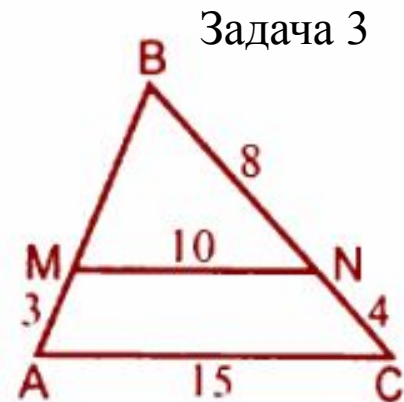


Найти: BC .



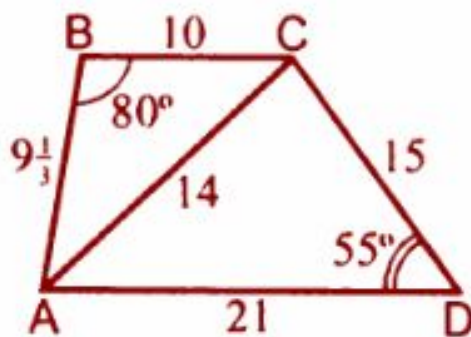
Задача 2

Найти: $\angle C, \angle C_1$.

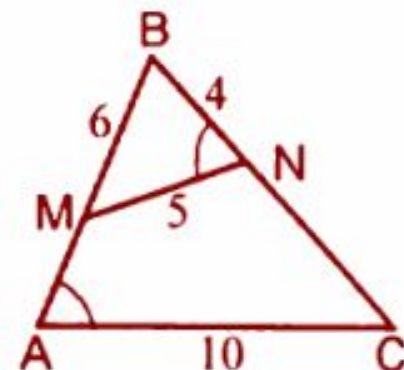


Задача 3

Найти: BM .



Найти: $\angle BDA$.



Найти AB, NC .

**Домашнее задание:
№ 562, 563, 604, 605**
