

**\* Итоговый урок по  
разделу «Планета,  
на которой мы  
живем»»**

1. Где земная кора имеет наибольшую толщину?

1) На Западно-Сибирской равнине;

2) В Гималаях;

3) На дне океана;

4) В Амазонской низменности.

## 2. Сейсмические пояса Земли образуются:

- 1) На границах столкновения литосферных плит;
- 2) На границах столкновений и разрыва литосферных плит;
- 3) В области с наибольшей скоростью перемещения литосферных плит.

3. Определите тип климата по описанию:

Здесь преобладает пониженное атмосферное давление. Вследствие высокого положения Солнца над горизонтом здесь весь год высокие температуры воздуха. В связи с преобладанием восходящих токов в этом климате выпадает большое количество осадков в течение всего года.

На каких материках представлен этот тип климата?

## 4. Образование береговой пустыни Намиб в Африке связано

- а) с горным рельефом на побережье
- б) с влиянием Антарктиды
- в) с холодным Бенгельским течением

## 5. Установите соответствие

*Климатический пояс*

*Особенности климата*

- |                   |   |
|-------------------|---|
| 1. Экваториальный | а) смена ТВМ и УВМ,<br>жаркое сухое лето и влажная зима |
| 2. Тропический    | б) теплый и влажный в течение<br>всего года             |
| 3. Субтропический | в) жаркий, сухой, господство ТВМ                        |



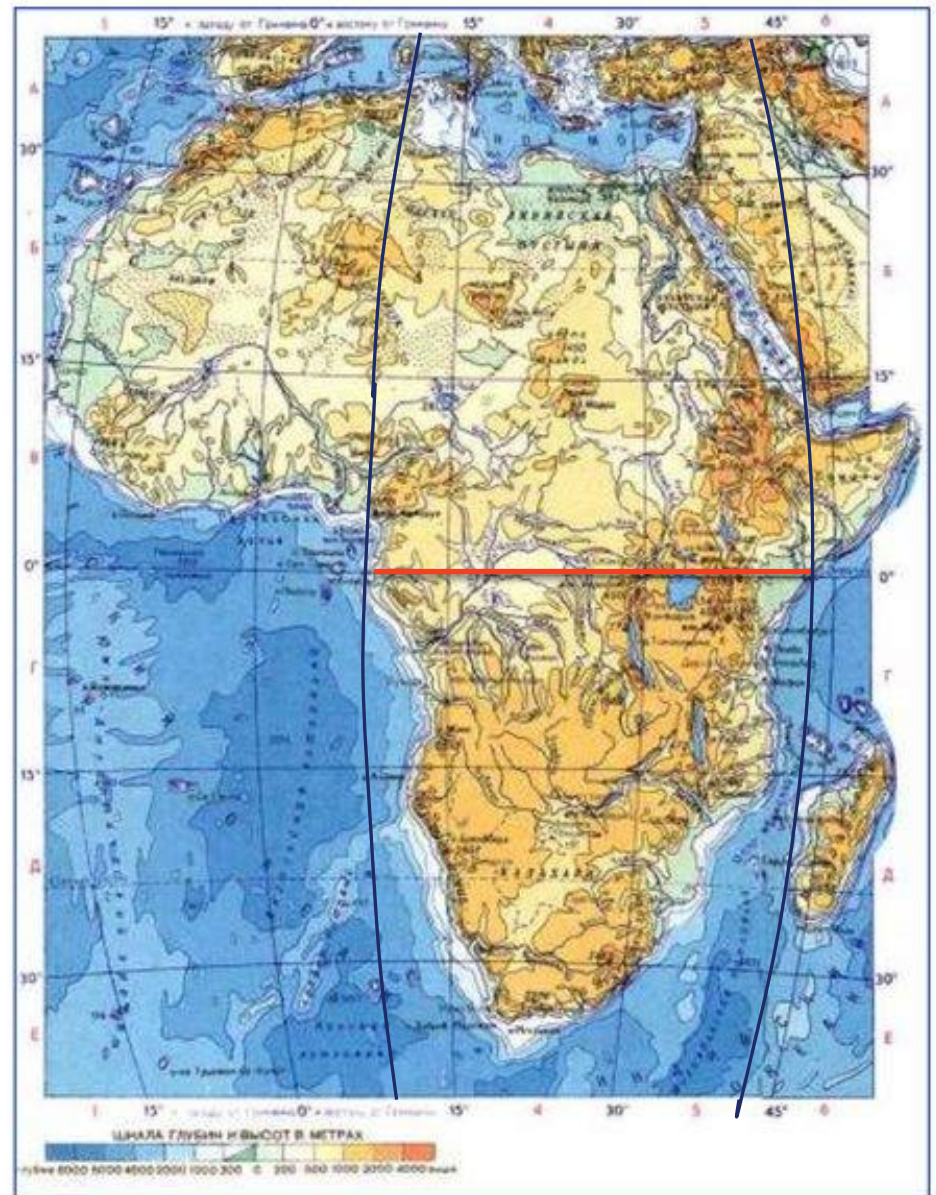
## 6. Определите протяженность Африки с запада на восток по экватору.

1. По рисунку определите, между какими меридианами находится красный отрезок экватора.

2. Определите его длину в градусах (меридианы, ограничивающие протяженность красного отрезка, выделены темными линиями)


3. Определите длину отрезка экватора в километрах:

$$1^{\circ} = 111 \text{ км}$$



Расчеты запишите в тетрадь.

7. Определите представители  
каких рас изображены



**А**



**Б**



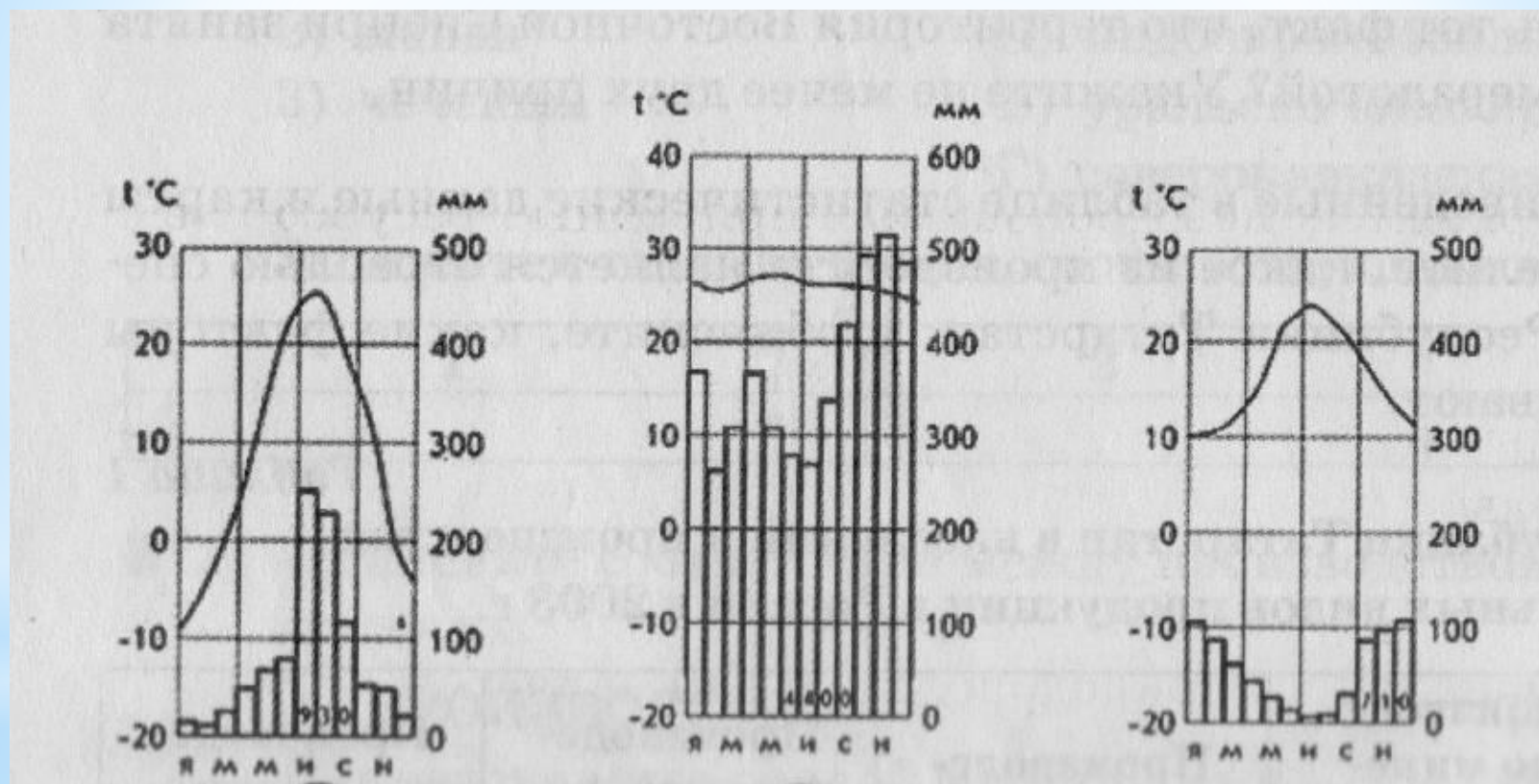
**В**



## 8. Определите природную зону по описанию

« Постоянно высокие температуры в течении года и крайне малое количество осадков не дают развиваться здесь богатой растительности. Тем не менее, жизнь есть и здесь. Животные предпочитают вести ночной образ жизни, а днем прятаться от солнца в норах или в тени саксаула или верблюжьей колючки.»

## 9. Перед вами климатограммы различных климатических поясов



А) Какая из диаграмм соответствует экваториальному климату?

Б) Назовите два признака подтверждающих ваш ответ

\*10. Установите соответствие между страной и названием материка, на котором она расположена.

Страна	Материк
1. Мексика	а) Евразия
2. Судан	б) Африка
3. Вьетнам	в) Сев. Америка
4. Боливия	г) Юж. Америка
	д) Австралия
	е) Антарктида