

Микены и Троя

ЭГЕЙСКИЙ МИР, 2000—1100 гг. до н. э.

- **Кносс** Города-дворцы критского времени 2000—1400 гг. до н. э.
- **Пилос** Города-дворцы микенского времени 1600—1100 гг. до н. э.

Пути переселения греческих племён

- ахейцев, XII в. до н. э.
- дорийцев, XII—XI вв. до н. э.
- ионийцев, XII—XI вв. до н. э.
- золийцев, XII—XI вв. до н. э.

Территории, заселённые греческими племенами к I тыс. до н. э.

- ахейцами
- дорийцами
- ионийцами
- золийцами

→ Поход греков на Трою в 1200 г. до н. э.

■ Памятники истории и культуры

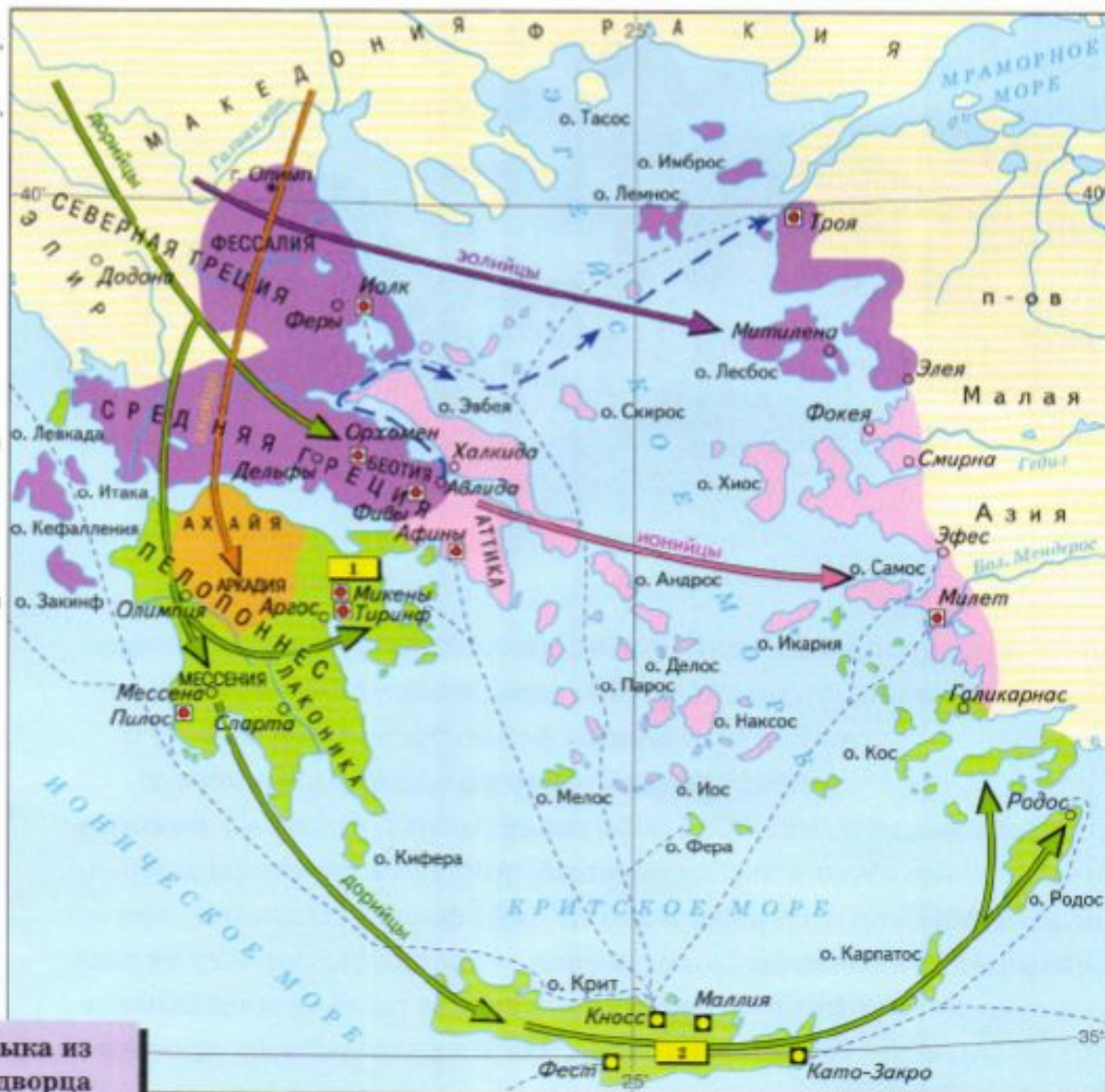
АРКАДИЯ Исторические области

--- Морские торговые пути

Масштаб 1:5 500 000



2 Голова быка из Кносского дворца




Проблемный вопрос:


Почему жители древнейших греческих городов стали воздвигать мощные крепостные стены?

План:

1. Микены
2. Троянская война
3. Миф о Троянской войне



Первые города в Греции появились уже в III тыс. до н. э.



Акрополь – крепость (кремль), обнесенная прочными стенами для защиты от морских пиратов и нападения со стороны других греческих городов-государств



Микены – крепость и город в северной части Пелопоннеса

Первые раскопки в 1876 г. произвел Генрих Шлиман





Львиные ворота, воздвигнутые
в XIV – XIII вв. до н.э.

Троянская война (1200 – 1190 гг. до н.э.)

Причина: желание греков захватит большой и богатый город Троию

Итоги:

- Победа греков
- Разграбление и падение Трои
- Истощение сил греческих городов в ходе войны

1. Выберите их предложенного списка имена героев мифа о Минотавре

Тесей, Персей, Парис, Ариадна, Афродита, Минотавр, Эгей, Эней, кентавр, Дедал, Минос, Афина, Зевс


2. Выберите их предложенного списка имена героев мифа о Троянской войне

Тесей, Персей, Парис, Ариадна, Афродита, Минотавр, Эгей, Эней, кентавр, Дедал, Минос, Афина, Зевс, Гера

3. Установите соответствие

Дедал
Афродита
Ариадна
Минотавр

Тесей
Лабиринт
Парис
Нить



4. В каких мифах упоминаются следующие предметы?

Клубок ниток, яблоко, черные паруса, Лабиринт



5. Как по-другому называли Грецию?

Домашнее задание:

1. Прочитать параграф 25
2. Выполнить контурную карту с. 10 «Эгейский мир. 2000 – 1100 гг. до н.э.»
3. Задание на карточках (следующие слайды)

■ **Задание 1.** Напишите событие, которое связано с этой датой.

Около 1200 года до н.э. — _____

- **Задание 5.** Установите соответствие между именами учёных и любителей истории и их вкладом в изучение истории Древнего мира.

ИМЕНА	ВКЛАД В ИЗУЧЕНИЕ ИСТОРИИ
А) Говард Картер	1) расшифровка египетских иероглифов
Б) Жан Франсуа Шампольон	2) открытие гробницы фараона Тутанхамона
В) Генрих Шлиман	3) копирование клинописной надписи с Бехистунской скалы
Г) Марселино Саутуола	4) открытие первобытных рисунков на стенах пещеры Альтамира
Д) Генри Роулинсон	5) раскопки Трои

Запишите выбранные цифры под соответствующими буквами.

А	Б	В	Г	Д