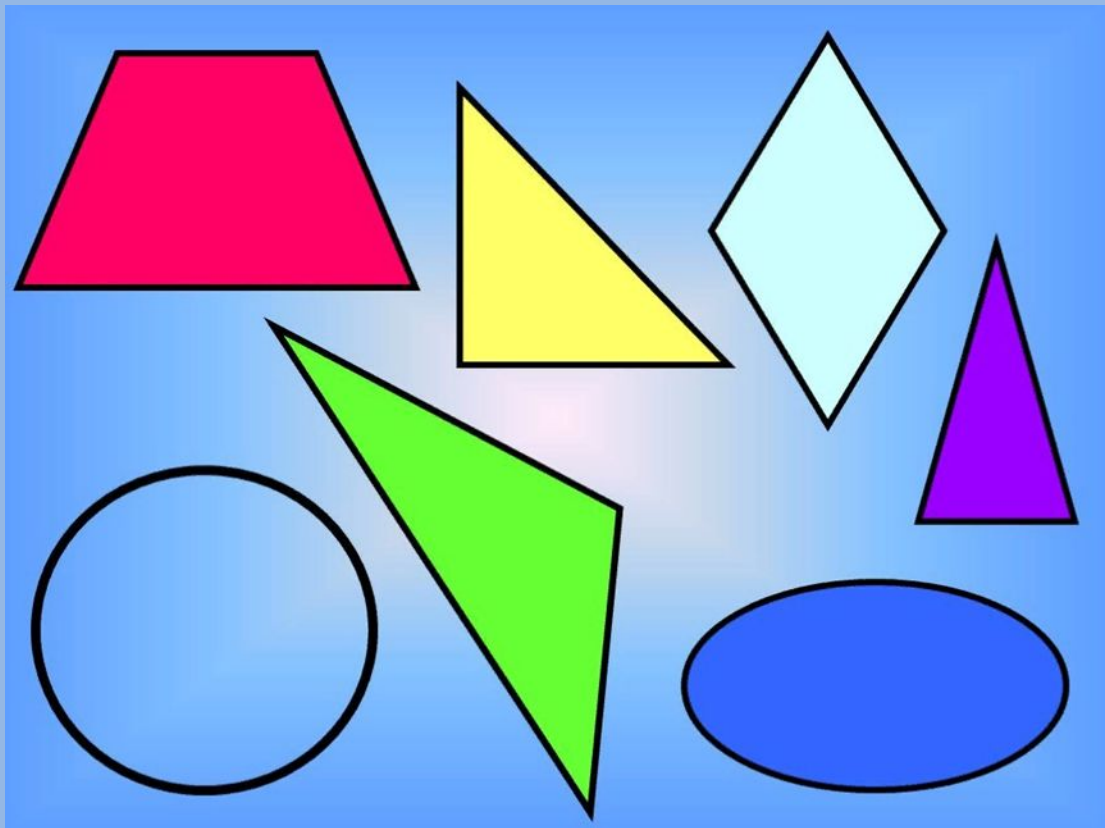


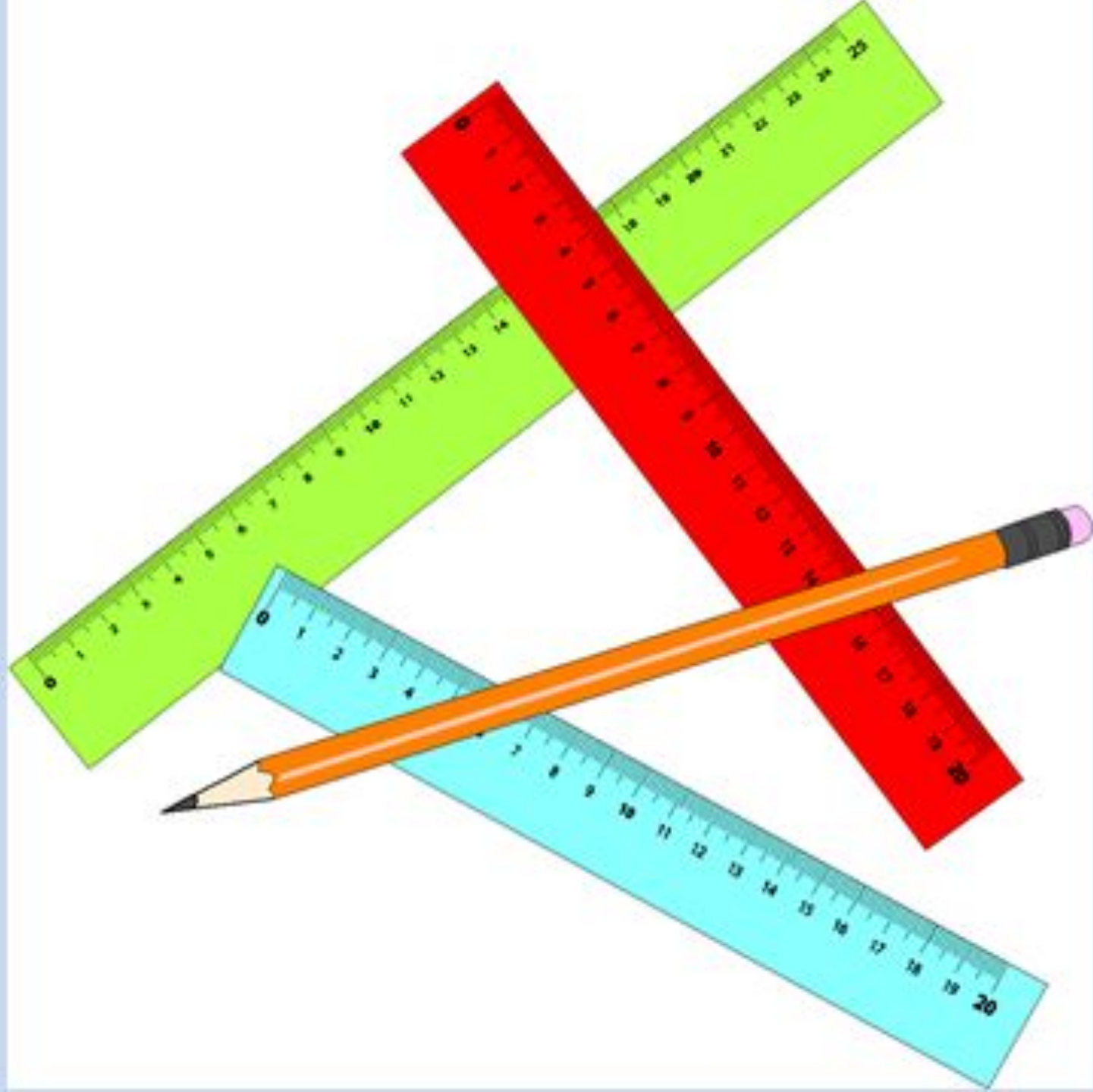
**Волшебная  
страна -**



**Геометрия**

# Шишкина школа







Расположите единицы измерения  
по возрастанию:



метр

дециметр

километр



миллиметр

сантиметр

КМ


М

ДМ

СМ

ММ





## Сантиметр и миллиметр



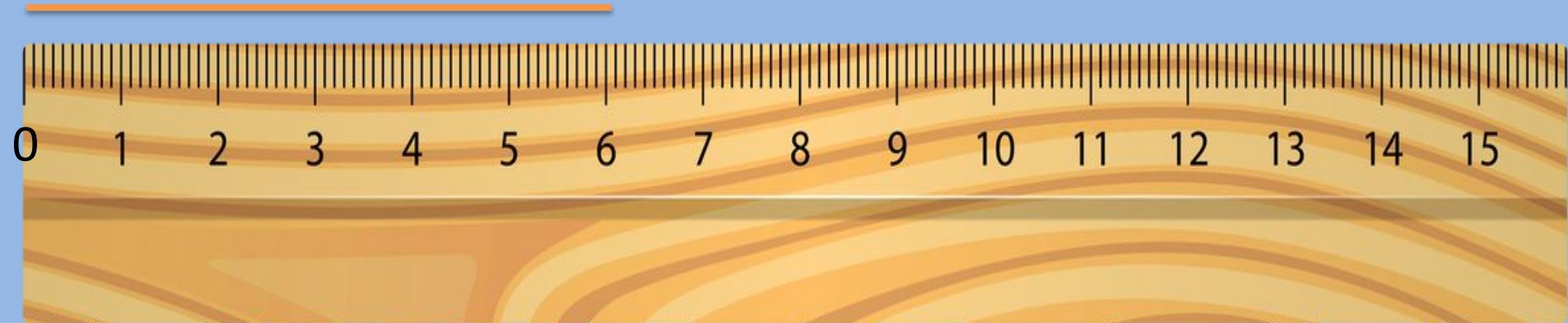
**1 см = 10 мм**



MyShared

The complex block contains a white rectangular area with an orange border. On the left side, there is a vertical ruler with millimeter markings and a small green pencil holder icon at the top. The title "Сантиметр и миллиметр" is centered at the top. Below it is a light blue horizontal ruler with markings at 0, 1, 2, and 3 centimeters. At the bottom, the equation "1 см = 10 мм" is written in large red font. In the bottom right corner, there is a small icon of a computer monitor and the text "MyShared".

# Как правильно измерить длину линии









# Физминутка

## «Весёлая зарядка»

Наклоняемся с хлопком  
И с хлопком потом встаём.  
Вниз и вверх, вниз и вверх,  
Ну – ка, хлопни громче всех!  
На одной ноге мы скачем,  
Как упругий звонкий мячик.  
На другой поскачем тоже,  
Очень долго прыгать можем.  
Головой вращаем плавно,  
Смотрим влево, смотрим вправо.  
И пройдемся мы немного,  
И вернёмся вновь к уроку.







KRANE

## НАПИСАНИЕ ПРОПУЩЕННЫХ ЦИФР

Напиши на каждой линейке пропущенные цифры.

0	1			4		6		8		
---	---	--	--	---	--	---	--	---	--	--

0		2	3		5		7		9
---	--	---	---	--	---	--	---	--	---

		2	3					7	8	
--	--	---	---	--	--	--	--	---	---	--

