
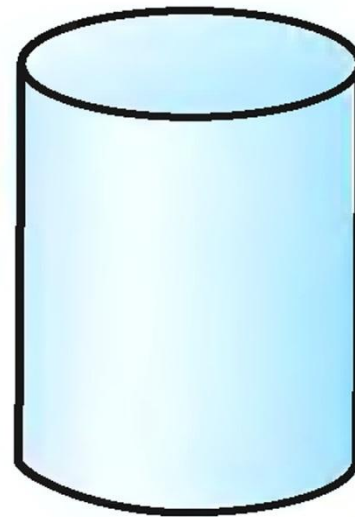




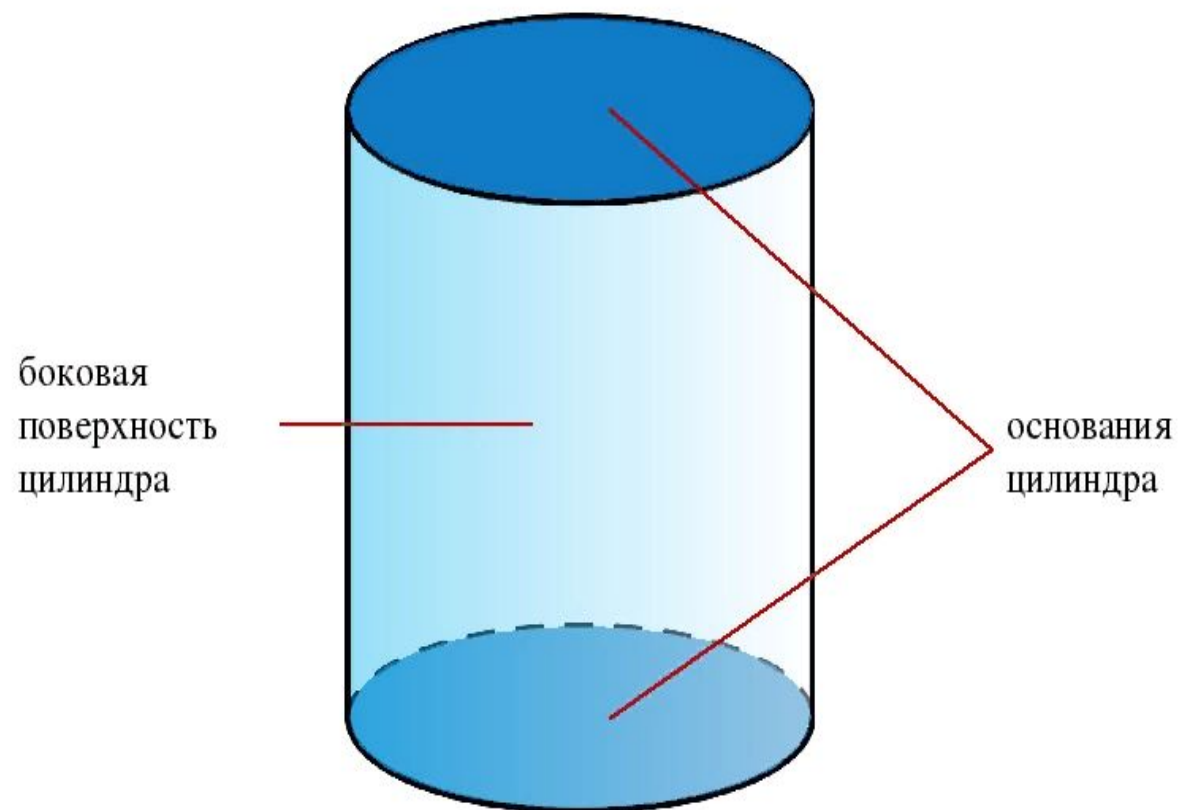
Распределите фигуры на две группы



# Цилиндр



- Цилиндр имеет два основания и боковую поверхность.



# Вывод :

1. Цилиндр — объёмная геометрическая фигура.
2. У цилиндра два основания в виде круга, боковая поверхность.
3. Цилиндр не является многогранником, так как нет рёбер и граней.

# Повторение Реши задачу

За 6 кг моркови заплатили 228  
рублей .Какова стоимость 13 кг  
моркови?

# Реши задачу

Длина прямоугольника 11 см, а ширина 6 см. Вычисли периметр и площадь прямоугольника.

Подсказка:

$$S = a \times b$$

$$P = (a + b) \times 2$$

Домашнее задание по учебнику:  
Стр. 70 № 7 (решить по действиям)

Домашнее задание (по желанию) :

1) нарисовать предмет, используемый в природе или быту, цилиндрической формы;

2) сконструировать цилиндр ( бумага, картон, пластилин, любые подручные средства);

3) сфотографировать предмет цилиндрической формы, встретившийся в окружающем мире.

Удачи!!!