



Российская академия наук
Российская академия образования
Издательство «Просвещение»

П Е Р С П Е К Т И В А

Л. Г. Петерсон

МАТЕМАТИКА



1 класс

У Ч У С Ь У Ч И Т Ь С Я

ЧАСТЬ
ТРЕТЬЯ



Урок 34

Сравнение чисел

Работа в учебнике с. 66

1 Нарисуй графические модели чисел и сравни их. Сделай вывод.

а) $15 =$ _____

$32 =$ _____

$15 \square 32$

б) $41 =$ _____

$6 =$ _____

$41 \square 6$

2

$>, <, =$

$37 > 29$

$56 < 58$

$8 < 42$

$24 < 31$

$45 < 80$

$19 > 16$

$35 > 9$

$76 > 46$

$74 > 14$

$21 < 27$

$0 < 12$

$52 > 7$

$$8 \text{ дм } 3 \text{ см} = \boxed{83} \text{ см}$$

$$6 \text{ дм } 7 \text{ см} = \boxed{67} \text{ см}$$

$$5 \text{ дм } 8 \text{ см} = \boxed{58} \text{ см}$$

$$1 \text{ дм } 5 \text{ см} = \boxed{15} \text{ см}$$

$$49 \text{ см} = \boxed{4} \text{ дм } \boxed{9} \text{ см}$$

$$94 \text{ см} = \boxed{9} \text{ дм } \boxed{4} \text{ см}$$

$$26 \text{ см} = \boxed{2} \text{ дм } \boxed{6} \text{ см}$$


$$34 \text{ см} = \boxed{3} \text{ дм } \boxed{4} \text{ см}$$

№ 4


Составь схему и найди массу мешка: № 6



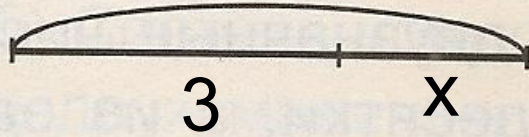
$$5 + 10$$




$$\boxed{13} \text{ кг}$$




$$5 + 5 + 5$$



$$\boxed{12} \text{ кг}$$



$$10 + 10$$



$$\boxed{15} \text{ кг}$$

No 9

+3

+3

+3

+3

2	5	8	11	14
1	4	7	10	13
3	4	5	6	7
3	6	9	12	15

+1

+1

+1

+1

Работа в тетради

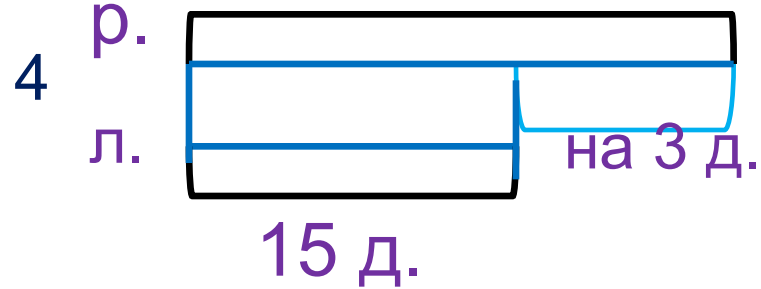
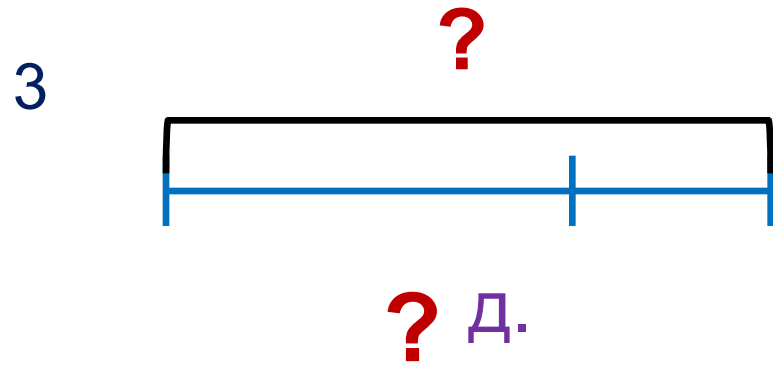
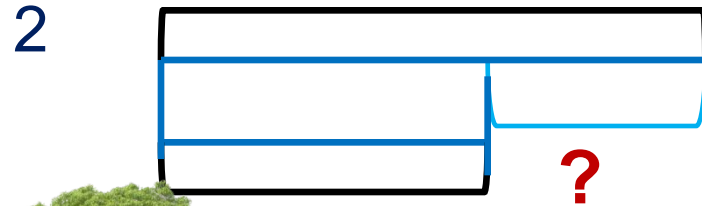
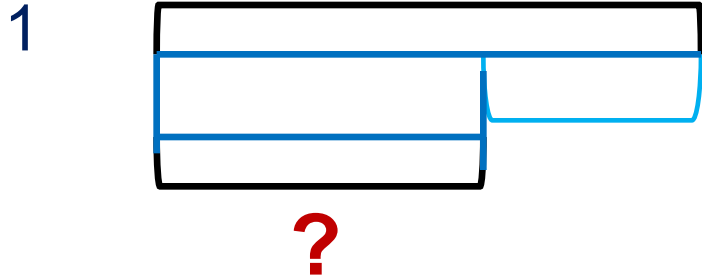
5 мая

Дома

Подберите схему и решите

задачу

В парке посадили 15 лип. Это на 3 дерева меньше. Чем рябин. Сколько посадили рябин?



$$15 + 3 = 18 \text{ (д.)}$$

Ответ: 18 рябин.



Домашние задание

5 Кто это? Каких ещё героев этой сказки ты знаешь?

- | | | | | | |
|---|--------------|-----------------------|---|----------------|-----------------------|
| Д | $1 + 9 - 2$ | <input type="radio"/> | К | $0 + 3 + 7$ | <input type="radio"/> |
| Е | $12 - 2 - 6$ | <input type="radio"/> | И | $14 - 11 + 12$ | <input type="radio"/> |
| Л | $5 + 5 + 8$ | <input type="radio"/> | Р | $18 - 5 - 2$ | <input type="radio"/> |
| А | $6 + 10 - 3$ | <input type="radio"/> | О | $7 + 12 - 12$ | <input type="radio"/> |
| Н | $15 + 4 - 7$ | <input type="radio"/> | Г | $14 - 6 + 6$ | <input type="radio"/> |



10	11	7	10	7	8	15	18

14	4	12	13

✓ Учеб.

6 Составь схему и найди массу мешка:

а) $5 + 10$
 кг

б) кг

в) кг

✓ Тет

7 Купили 10 мотков белой шерсти, 3 мотка синей и 2 мотка красной. На свитер израсходовали 11 мотков. Сколько мотков шерсти ещё осталось?

8 Рассмотрите различные способы размена: а) 10 рублей; б) 50 рублей.

9* Сравни эти 4 ряда чисел и найди среди них лишний ряд. Чем все ряды похожи? Чем отличается лишний ряд от остальных?

2	5	8	11	14
1	4	7	10	13
3	4	5	6	7
3	6	9	12	15