



Математика

1 класс

УМК «Гармония»

Тест

Проверь себя!

Чему ты научился в первом классе?

Задание №1

Выбери сумму, значение которой равно 8

$$8 - 0$$

1

$$5 + 3$$

2

$$7 + 2$$

3



Задание №2

Выбери пару выражений, которые
имеют одинаковые значения

$8 - 2$ и $8 - 3$

1

$5 + 3$ и $4 + 5$

2

$6 + 3$ и $3 + 6$

3



Задание №3

Какое число пропущено в записи:

$$8 - \dots = 2$$

4

6




5



Задание №4

Какие знаки арифметических действий
пропущены в записи



$$7 + 2 \dots 1 = 6 \dots 2 ?$$



Задание №5

Какой знак пропущен в записи

$$7 + 2 \dots 8 - 0 ?$$



Задание №6

На сколько нужно уменьшить число 2,
чтобы получить 7?

на 5

на 4

на 6



Задание №7

**Увеличь число 4 на 3
Какое число получится?**

8

7

9



8



Задание №8

Выбери разность, значение которой
равно 0

$$5 + 0$$

$$5 - 0$$

$$5 - 5$$



Задание №9

**Уменьши число 8 на 4
Какое число получится?**

4

5

3



Задание №10

**На сколько нужно уменьшить число 6,
чтобы получить 2?**

на 3

на 5

на 4



Проверка



1	2	3	4	5	6	7	8	9	10
2	3	6	-, +	>	на5	7	5-5	4	на 4



Л

О

Д

О

Ц

М

Ы

