




Занимательная

математика



Ребусы





чис



сч




1



2



5



8



З

Н

А

К



МИН

ус



ТОЧ



зад

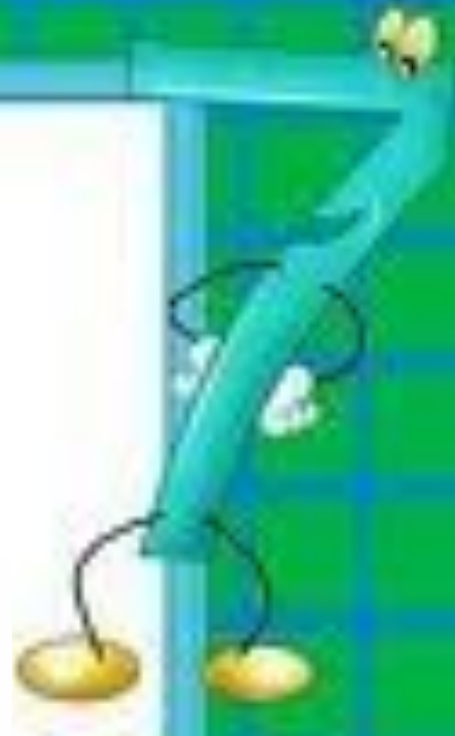


СКВО

рец
1000янк

а **СТОЯ**

Задачи-тесты



Выбери правильный

7 воробьи ответ спустились на
грядки,
Скачут и что - то клюют без
оглядки.

Котик - хитрюга внезапно
подкрался,
Мигом схватил одного и умчался.

Всех как паша клевать, без
оглядки!

Силько репть их ста
грядке:

0

6

5



Выбери правильный

ответ

Дед, баба, внучка, Жучка, кошка и мышка тянули-тянули репку и, наконец, вытянули. Сколько глаз смотрело на репку?

10

12

8



**Выбери правильный
ответ**



**Два щенка-баловника
Бегают, резвятся,
К шалунишкам три щенка
С громким лаем мчатся.
Вместе будет веселей.
Сколько собралось
друзей?**

4

5

6



Выбери правильный
ответ

**Семь листьев Вася сам
собрал,
Два листика Алеша дал.
Скажите, сколько у него
Осенних листиков всего?**

7

9

8



Логические задачи



Свечи.

В комнате горело 50 свечей, 20 из них задули. Сколько останется?



Ответ: останется 20 свечей, остальные сгорят, а задутые свечи не сгорят полностью.

Сидят три барана, против
каждого барана - два барана,
много ль всех?



Ответ: 3 барана.

*Сестре 4 года, брату 6 лет.
Сколько лет будет брату, когда
сестре исполнится 6 лет?*



Ответ: 8 лет.



Ресурсы:

- <http://images.google.ru/imghp?hl=ru&tab=wi> картинки;
- <http://images.yandex.ru/> картинки;
- http://rebus.detsky-mir.com/2871/rebusy_po_matematike/;
- <http://znajka.net/>;
- <http://www.prozagadki.ru/>
- <http://images.yandex.ru/yandsearch?ed=1&text=детские фоны>.

Автор презентации

Картошкина Наталия Юрьевна,

учитель начальных классов

ГОУ ЦО № 656 им. А. С. Макаренко

г. Москвы