

Тема: Персидская держава “царя царей”



Тема

Три великих царства

Лидийское царство

Вавилонское царство

Походы персов

“Царство стран”

Дарий I и Ксеркс

Дом/задание

ТРИ ВЕЛИКИХ ЦАРСТВА



Задание: определите географическое местоположение трёх крупнейших государств Западной Азии в начале VI в. до н.э.

Тема

Три великих царства

Лидийское царство

Вавилонское царство

Походы персов

"Царство стран"

Дарий I и Ксеркс

Дом/задание



ЛИДИЙСКОЕ ЦАРСТВО



Лидийская монета

**Царь Крез и
дельфийский
оракул**



Тема

Три великих
царства

Лидийское
царство

Вавилонское
царство


Походы
персов

"Царство
стран"

Дарий I
и Ксеркс

Дом/задание

ВАВИЛОНСКОЕ ЦАРСТВО



Ворота Иштар и храм Мардука в Вавилоне



Тема

Три великих
царства

Лидийское
царство

Вавилонское
царство

Походы
персов

"Царство
стран"

Дарий I
и Ксеркс

Дом/задание

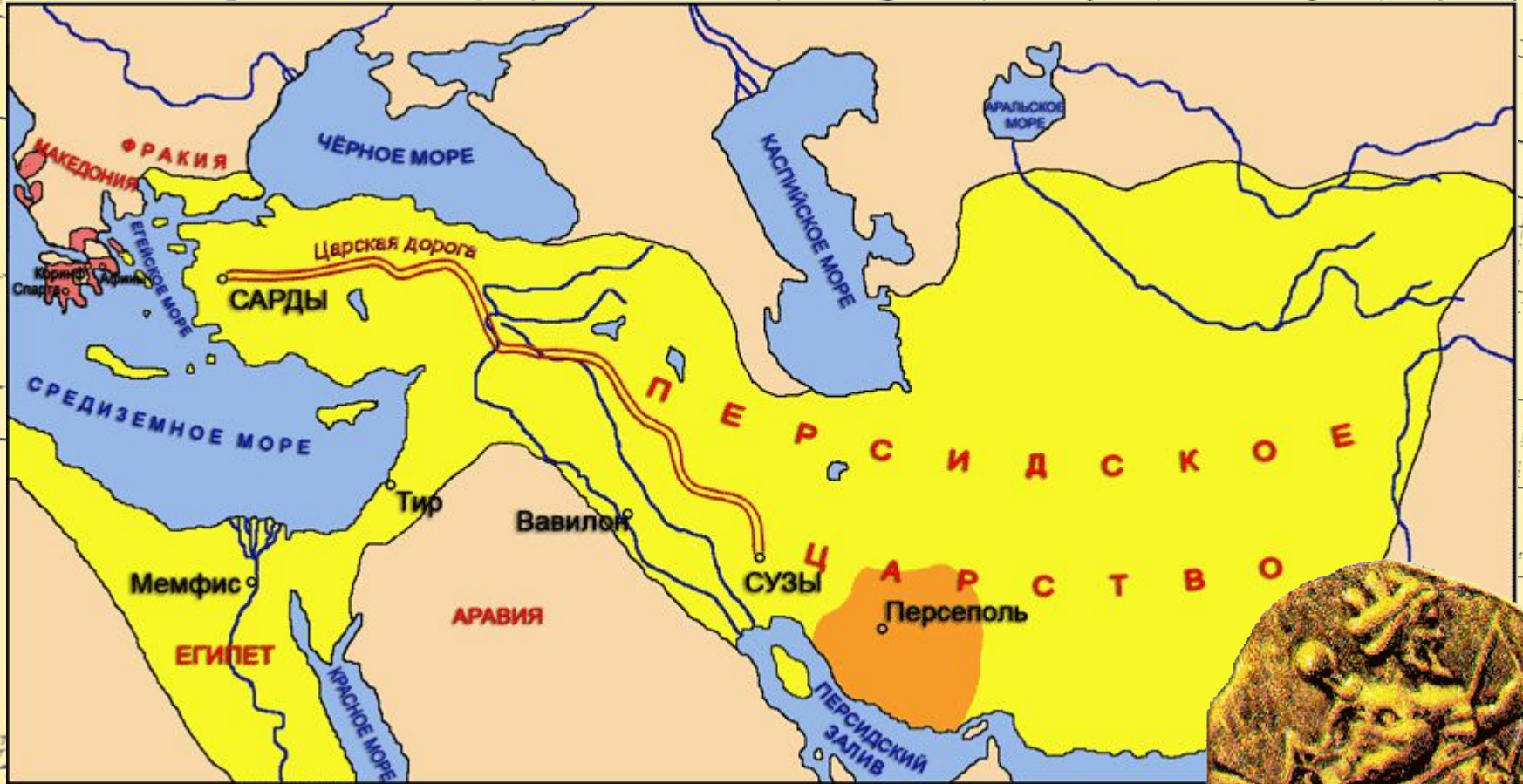
ПОХОДЫ ПЕРСОВ



Персидский золотой кубок




“ЦАРСТВО СТРАН”



Персидская золотая монета

ДАРИЙ ПЕРВЫЙ И КСЕРКС



Тема

Три великих царства

Лидийское царство

Вавилонское царство

Походы персов

“Царство стран”

Дарий I и Ксеркс

Дом/задание

ДОМАШНЕЕ ЗАДАНИЕ

§ 19. – Персидская держава «царя царей».

Тема

Три великих
царства

Лидийское
царство

Вавилонское
царство

Походы
персов

“Царство
стран”

Дарий I
и Ксеркс

Дом/задание