

Случаи вычитания 11-

УСТНЫЙ СЧЁТ



Запиши ответы в тетрадь.



A flower-shaped diagram with a central stem and two leaves. The stem is a vertical line with a small circle at the top. The leaves are two large, rounded shapes. The numbers and symbols are arranged as follows:

- Top petal: 1
- Top-left petal: 8
- Top-right petal: 9
- Left petal: 5
- Center-left: +
- Center-right: -
- Right petal: 12
- Bottom-left petal: 1
- Bottom-middle petal: 7
- Bottom-right petal: 6

There are also two small numbers '1' positioned near the center: one above the '+' sign and one below the '-' sign.



В ящике **15** кг яблок, а в корзине на **10** кг меньше.
Сколько кг яблок в корзине?

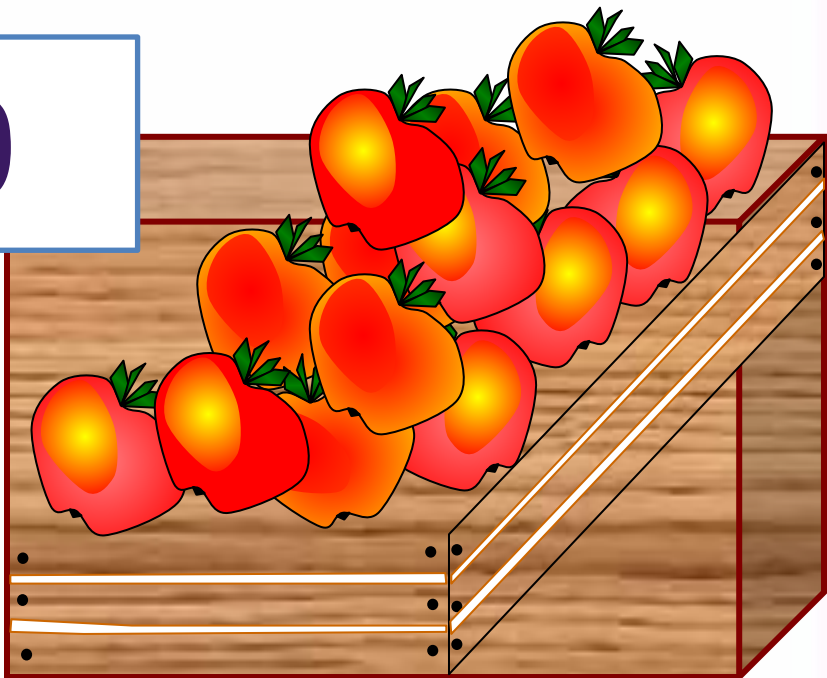

5

$$15 - 10 = 5$$


КГ Сколько всего кг яблок в ящике и корзине
вместе?



$$15 + 5 = 20$$



После того как Петя решил **6** примеров, ему осталось решить **9**. Сколько примеров нужно решить Пете ?





15

$$9 + 6 = 15$$

**Запишите
решения
задач в
тетрадь**

РАБОТА ПО УЧЕБНИКУ




Стр. 82

Объясни, как из числа 11 вычесть 4.

▶

11	
2	
3	
4	
5	



$$\begin{array}{r} 11 - 4 \\ \hline 11 - 1 - 3 \end{array}$$

Вычисли и запомни.

$11 - 2$	$11 - 3$	$11 - 4$	$11 - 5$
$11 - 9$	$11 - 8$	$11 - 7$	$11 - 6$

НОВЫЙ МАТЕРИАЛ

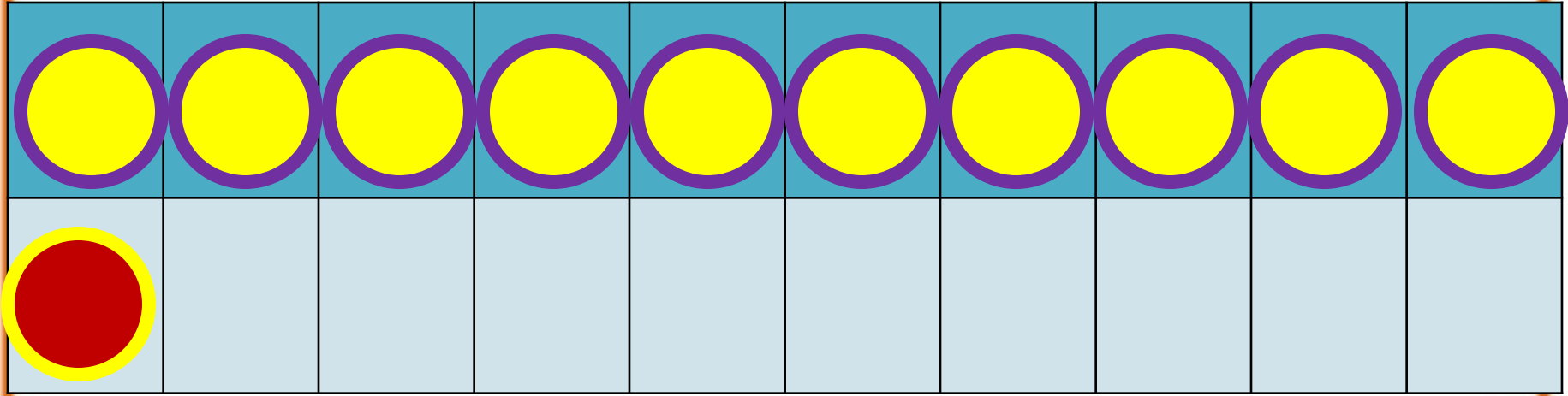


Состав числа

11

	9	8	7	6
11	2	3	4	5

1



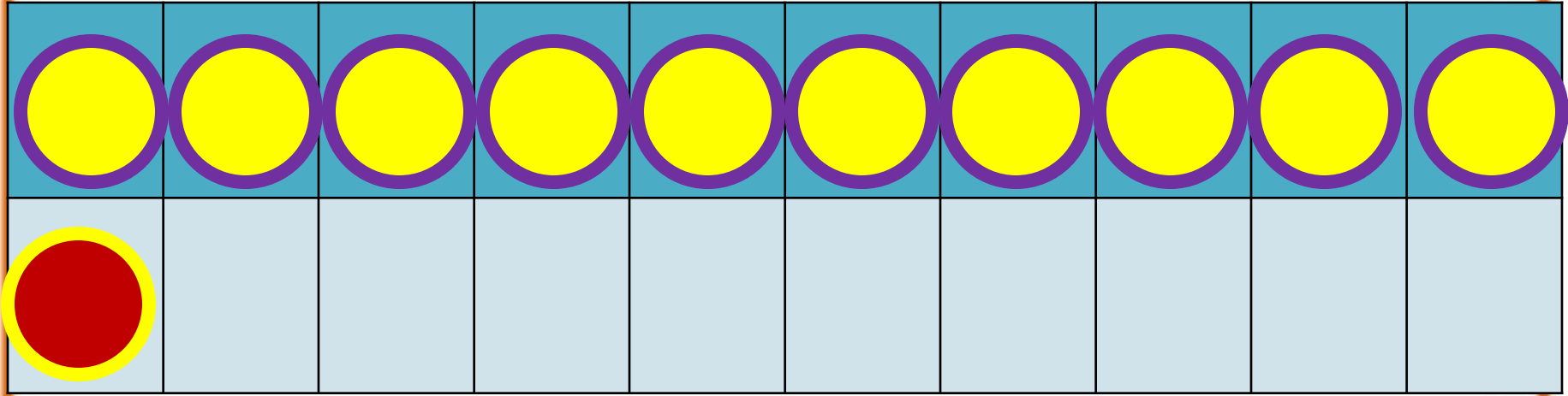
2



способ

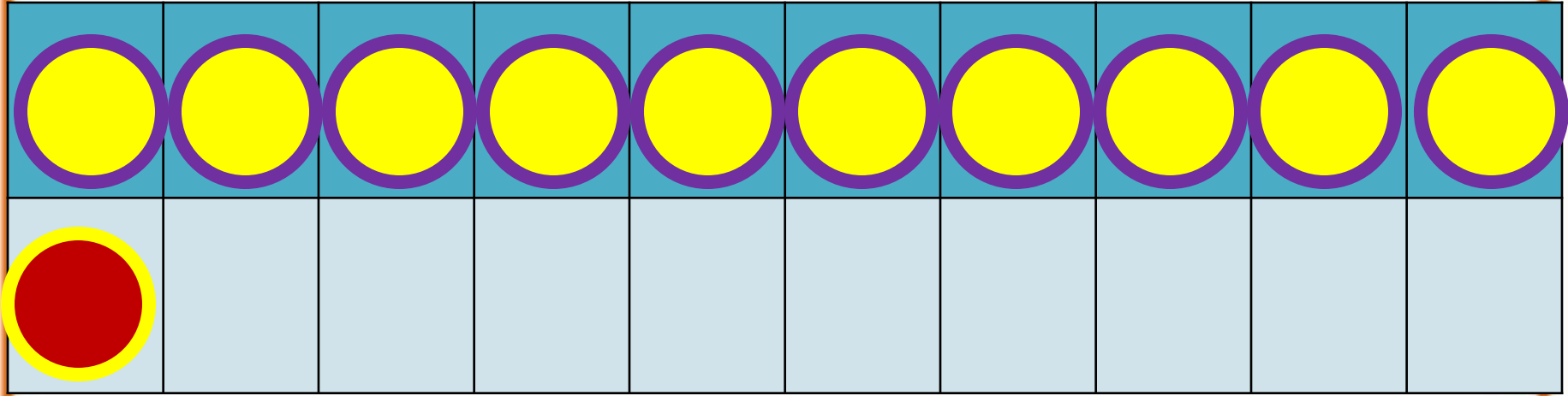
$$11 - 2$$

$$11 - 1 - 1$$



$$11 - 3$$



$$11 - 1 - 2$$



$$11 - 4$$

$$11 - 1 - 3$$

РАБОТА ПО УЧЕБНИКУ



Запомни!

$$11 - 2 = 9$$

$$11 - 3 = 8$$

$$11 - 4 = 7$$

$$11 - 5 = 6$$

$$11 - 6 = 5$$

$$11 - 7 = 4$$

$$11 - 8 = 3$$

$$11 - 9 = 2$$

1. Объясни разные способы решения.

$$11 - 5 = 6$$



$$11 - 5 = 6$$



2. $12 - 2 + 4$

$12 - 2 + 5$

$12 - 2 + 7$

$13 - 3 - 2$

$14 - 4 - 5$

$16 - 6 - 3$

$10 + 5 - 1$

$17 - 7 + 6$

$10 - 8 + 8$

3. Сделай рисунки к задачам и реши их.

1) Петя нарисовал 6 больших квадратов и 4 маленьких. Он раскрасил 7 квадратов. Сколько квадратов осталось нераскрашенными?

2) Саша принёс 6 морковок, а Оля — 4. Они отдали кроликам 8 морковок. Сколько морковок осталось?

КОНЕЦ