


«ЮНЫЙ ГЕНИЙ №4»



ПОСЧИТАЙ! ТРЕУГОЛЬНИКИ

Посмотри внимательно на рисунок и определи, сколько треугольников на нём изображено.

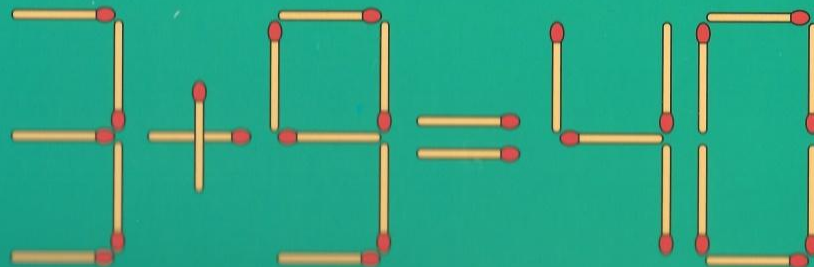


ОТВЕТ: _____

12

ПЕРЕМЕСТИ! СПИЧКИ

Перемести 2 спички так, чтобы получилось верное равенство.



ПРОДОЛЖИ! РЯД

Определи, по какому правилу записаны буквы и продолжи ряд. Составь подобные ряды в полях ниже и загадай друзьям!

1 О, Д, Т, Ч, П, Ш, _____

2 К, О, Ж, З, Г, _____

РЕШИ! ЗАДАЧУ

В комнате находятся 2 мамы, 2 дочери, 1 бабушка и 1 внучка. Сколько всего человек в комнате?

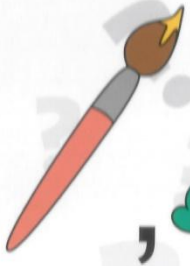


10
РАЗГАДАЙ РЕБУСЫ!

, а = п , я = т



2 3 1



ОТВЕТЬ! НА ВОПРОС!

В каком случае можно получить один, когда к одиннадцати добавляем два?



НАЙДИ! ОБЩЕЕ!

Рассмотри внимательно рисунки и определи, какой признак их объединяет.

