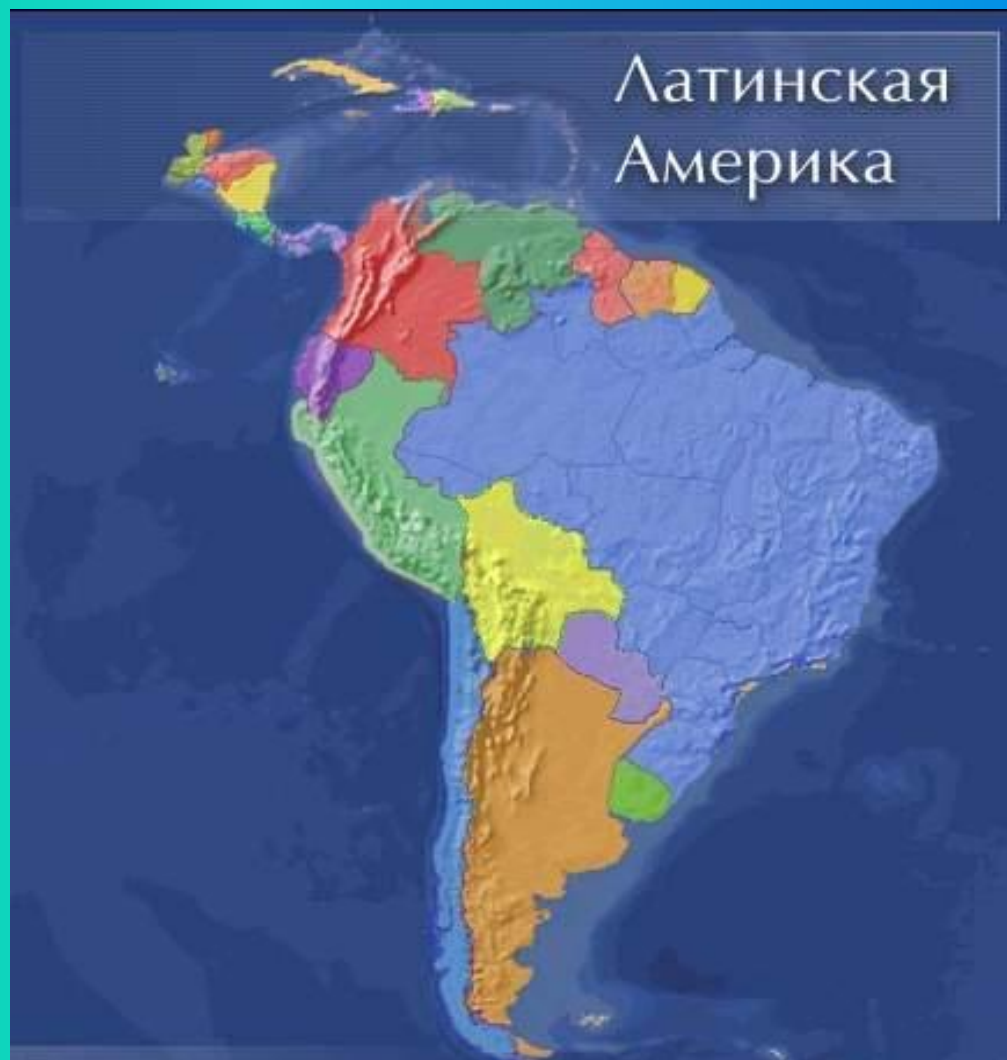



Латинская Америка



Латинская Америка



Латинская Америка – регион, расположенный между США и Антарктидой.

В него входят:


- 1) Мексика
- 2) страны Центральной Америки
- 3) Вест-Индия
- 4) Южная Америка

Площадь – 21 млн.кв.км

Население – 520 млн.человек

Политическая карта

Латинская Америка



33
суверенных
государства

владения
Великобритании
(7) и США (1)

заморские
департаменты
Франции (3)

Заморские части
Королевства
Нидерландов (2)

Свободно
ассоциированное
с США государство
(1)



Страны Южной Америки

- 1) Аргентина
- 2) Бразилия
- 3) Боливия
- 4) Венесуэла
- 5) Гайана
- 6) Гвиана
(Французская)
- 7) Колумбия
- 8) Парагвай
- 9) Перу
- 10) Суринам
- 11) Уругвай
- 12) Чили
- 13) Эквадор



Политическая карта

Мексика и Центральная Америка

- Мексика
- Белиз
- Гватемала
- Гондурас
- Коста-Рика
- Никарагуа
- Панама
- Сальвадор



Политическая карта

Вест-Индия (Карибские страны)

- 1) Багамские острова
- 2) Гаити
- 3) Доминиканская республика
- 4) Куба
- 5) Ямайка



Административно-территориальное устройство

В Латинской Америке преобладают *унитарные государства*, но самые крупные страны - *федерации*



Аргентина



Венесуэла



Мексика

Бразилия



*Сент-Китс
и Невис*

Общая характеристика стран Латинской Америки

Страны Латинской Америки – бывшие колонии Португалии и Испании

Страны Латинской Америки стали независимыми в начале XIX в.

Этнический состав: индейцы, европейские переселенцы (креолы), африканцы

Высокие темпы роста населения, большая доля молодежи



Экономическая зависимость от США

Религиозный состав – в большинстве католики



Природные ресурсы Латинской Америки

Богатые природные ресурсы

Нефть

Венесуэла, Мексика, Эквадор

Железная руда

Бразилия, Венесуэла, Чили, Перу, Мексика

Медная руда

Чили, Перу, Мексика

Бокситы

Ямайка, Суринам, Бразилия

Драг. металлы

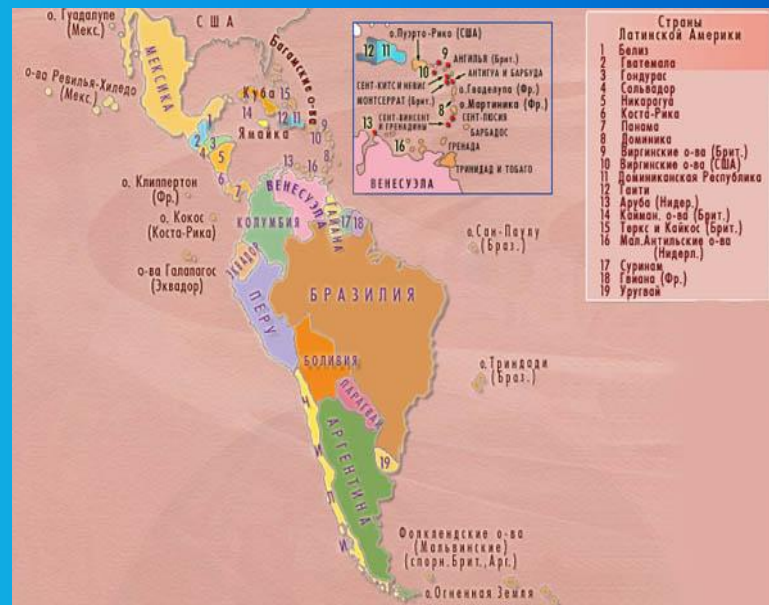
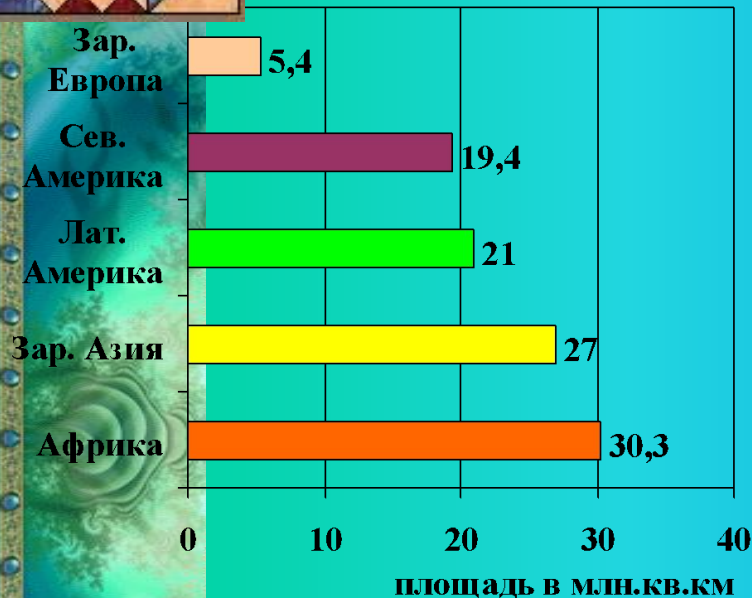
Колумбия, Бразилия, Перу

Значительные гидроресурсы

Тропические леса

Рекреационные ресурсы

Площадь Латинской Америки.



Состав. Политическая карта

Состав субрегионов Латинской Америки.

Мексика	Центральная Америка	Вест-Индия	Андские страны	Страны бассейна Ла-Платы	Бразилия
<i>Мексика</i>	<i>Гватемала Сальвадор Гондурас Белиз Никарагуа Коста-Рика</i>	<i>Куба, Гаити, Доминиканская Республика, Багамские острова, Ямайка,</i>	<i>Венесуэла Колумбия Эквадор Перу Боливия</i>	<i>Парагвай Уругвай Аргентина</i>	<i>Бразилия</i>

Политическая карта региона.

Государство	Форма правления	Форма территориального устройства
Тринидад и Тобаго	Р	У
Колумбия	Р	У
Венесуэла	Р	Ф
Эквадор	Р	У
Перу	Р	У
Боливия	Р	У
Чили	Р	У
Бразилия	Р	Ф
Парагвай	Р	У
Уругвай	Р	У
Аргентина	Р	Ф
Мексика	Р	Ф
Гватемала	Р	У
Гондурас	Р	У
Сальвадор	Р	У
Никарагуа	Р	У
Коста-Рика	Р	У
Панама	Р	У
Куба	Р	У

46

госу
дарств

сувере
нных

Республи
ки

УНИТАРНЫЕ

ФЕДЕРАТИВНЫЕ

Бразилия,
Мексика,
Аргентина,
Венесуэла,
Сент-Китс
и Невис.

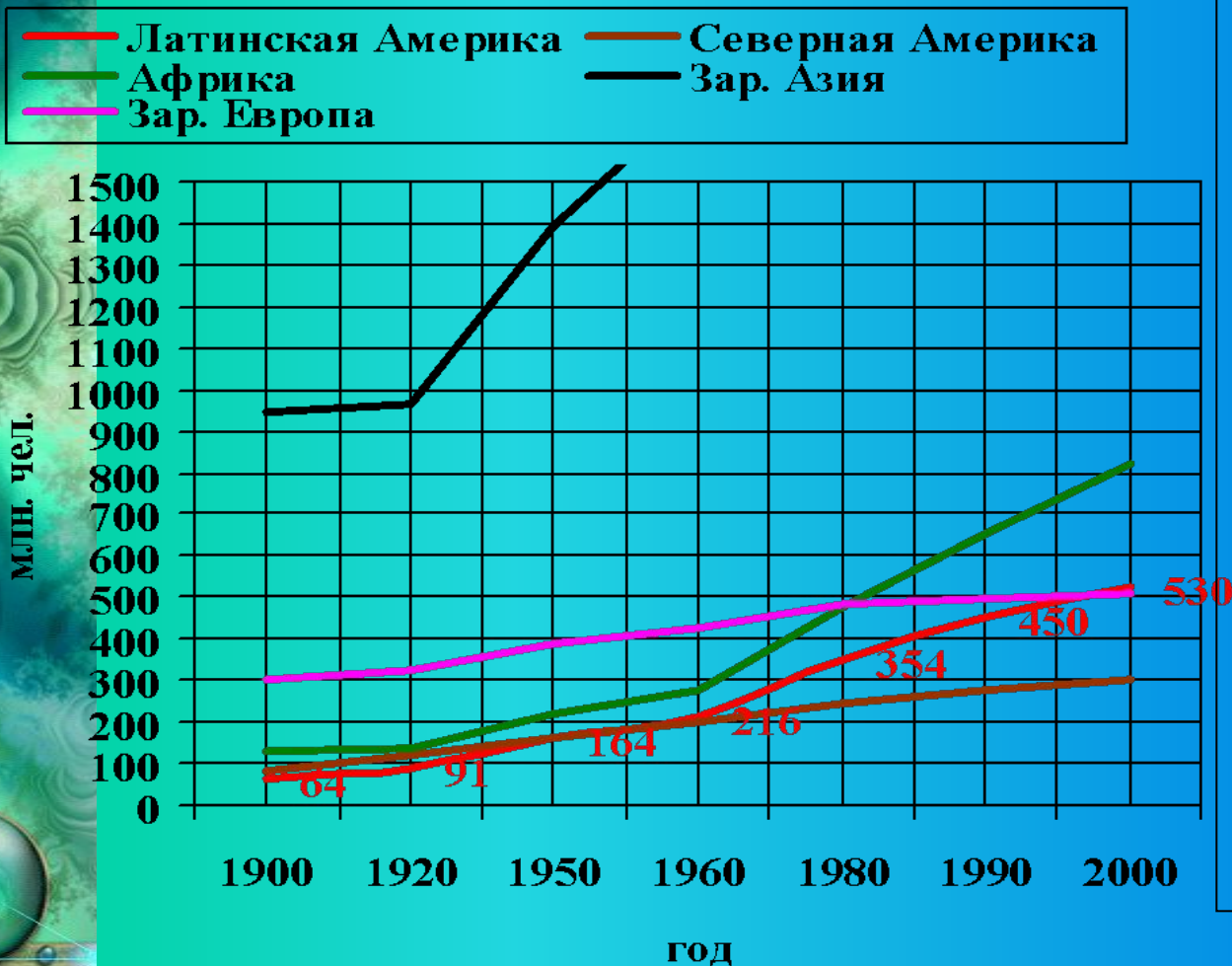
В настоящее время в пределах региона расположено 46 государств и владений некоторых стран Европы и США. Независимых государств в регионе 33.

По форме правления страны Латинской Америки отличаются большей однородностью. Все они являются республиками. Особое место занимает Куба — единственная страна региона, относящаяся к социалистическим государствам.

По форме административно-территориально-го устройства в Латинской Америке преобладают унитарные государства. Четыре самых крупных её страны и одно государство Вест-Индии имеют федеративное устройство.

Население Латинской Америки

Приложение. Динамика роста численности населения Латинской Америки.



ЗАДАНИЕ.

- Проанализируйте график динамики роста численности населения Латинской Америки и ответьте на следующие вопросы:
1. Какова численность населения Латинской Америки?
 2. Во сколько раз возросла численность населения региона с начала XX века?
 3. Сравните динамику роста численности населения Латинской Америки с другими регионами.

Воспроизводство населения и естественный прирост.

лаза стр. 10-11.

«Рождаемость»

«Смертность»

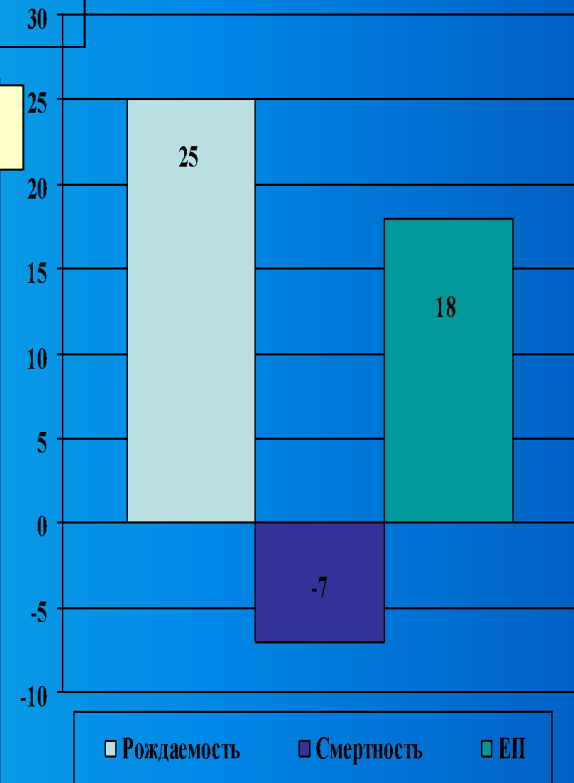
Щелкни мышкой 2 раза.

2. Рассмотрим тематическую карту «Смертность». Как видно, на карте преобладает светло-зелёная окраска, следовательно, число умерших за год на 1000 жителей Лат. Америки составляет в среднем 7 чел.

«Рождаемость». Как видно, на карте преобладающий цвет – желтый, следовательно, число родившихся за год на 1000 жителей Лат. Америки составляет в среднем 25 чел. (Рассмотрев карту, щелкни мышку 2 раза).

Теперь проанализируем, полученные сведения из карт и рассмотрим диаграмму «Естественный прирост». Зелёный столбик показывает количество родившихся за год на 1000 жителей (25), синий столбик – количество умерших за год на 1000 жителей (7). А сиреневый столбик показывает разницу между числом родившихся и умерших ($25 - 7 = 18$). Значит численность населения Лат. Америки растет со скоростью 18 чел. на 1000 жителей в год. («Если тебе не лень?» Рассчитайте, зная численность населения Лат. Америки на 2000 г, сколько жителей стало в это регионе в 2001 и т.д.).


Естественный прирост населения Латинской Америки.



Проанализировав карты и диаграмму, можно сделать вывод, что для Лат. Америки характерен II тип воспроизводства. Это влияет на численность и возрастную структуру населения региона.

РОЖДАЕМОСТЬ

(число родившихся за год на 1000 человек населения)



СМЕРТНОСТЬ

(число умерших за год на 1000 человек населения)



ЭтНИЧЕСКИЙ СОСТАВ НАСЕЛЕНИЯ.



Для этнического расового состава населения Латинской Америки характерна большая сложность, что связано с особенностью её исторического развития. Многие представители крупных этносов образовались в этом регионе уже в новое время. В их формировании участвовали три главных элемента: коренное индейское население, эмигранты из стран Европы и рабы, вывозившиеся из Африки.




Древний храм ацтеков.



Сохранившиеся памятники доколумбового периода свидетельствуют о высоком уровне развития культуры ацтеков, майя и инков.

Эта культура была полностью разрушена испано-португальскими завоевателями.

Эрнандес Кортес в 1521 г. с невероятной жестокостью разрушил государство ацтеков. Франциско Писсаро с такой же жестокостью уничтожил государство инков. В 1532 г. он обманным путем захватил Верховного Инку Атаульпу, который в обмен на свою свободу предложил неслыханный выкуп: заполнить золотом комнату, в которой он был в заключении. Верховный Инка сдержал свое слово, но испанцы, получив золото, казнили его. До прибытия Колумба численность коренного населения составляла 20 млн. чел., а в 1521 г. – 7,3 млн. чел.



Мачу-Пикчу – древний город инков.



ЭТНИЧЕСКИЙ СОСТАВ НАСЕЛЕНИЯ.

Почти полное истребление индейцев поставило перед колонизаторами вопрос о рабочей силе, который был разрешен путем ввоза негров-рабов из Африки. Общая численность привезенных в Америку негров составила 10 млн. чел.

Так сложились три главных расово-этнических элемента.



Языковой состав.



Более однородный. Преобладает испанский и португальский языки. Испанский язык служит государственным в 18 странах (250 млн. чел.). Португальский язык в одной стране Бразилии - 170 млн. чел. В Мексике, Боливии, Парагвае наряду с испанским языком официаль-

ПЛОТНОСТЬ НАСЕЛЕНИЯ ЛАТИНСКОЙ АМЕРИКИ



ХАРАКТЕРНЫЕ ЧЕРТЫ РАЗМЕЩЕНИЯ:

- наименее заселенный регион мира со средней плотностью 25 чел. на км. кв.;
- сильно выражена не-равномерность размещения;
- высока доля высоко-горного населения

ПЛОТНОСТЬ НАСЕЛЕНИЯ на 1 кв.км

5	более 100 человек
4	от 50 до 100 человек
3	от 10 до 50 человек
2	от 1 до 10 человек
1	до 1 человека
□	Незаселенные территории

ЧИСЛО ЖИТЕЛЕЙ В ГОРОДАХ

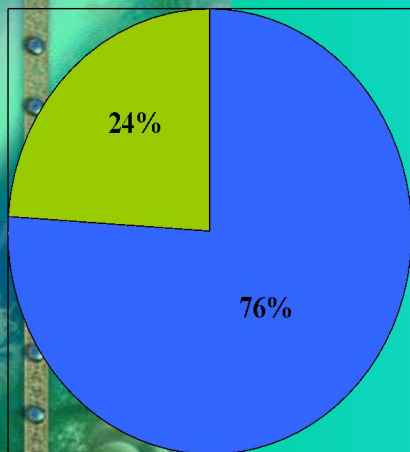
○	свыше 7 млн. человек
○	от 1 до 5 млн. человек
○	от 300 тыс. до 1 млн. человек
○	от 100 тыс. до 300 тыс. человек
•	от 20 тыс. до 100 тыс. человек
Лима	- агломерации

УРБАНИЗАЦИЯ

Характерна ложная ур-банизация.

■ ГОРОД ■ СЕЛО

Формирование трущобных районов, «по-ясов нищеты», в которых живет до 50% населения многих городов.



Крупнейшие города с населением более 10 млн. чел.



Доля городского населения в странах Латинской Америки

Страна	Доля городского населения (%)
Уругвай	91
Аргентина	88
Багамские Острова	87
Венесуэла	86
Чили	84
Бразилия	79
Куба	76
Мексика	74
Колумбия	73
Тринидад и Тобаго	72
Перу	71
Доминиканская Республика	63
Никарагуа	63
Боливия	61
Эквадор	60
Панама	56
Ямайка	54
Парагвай	53
Коста-Рика	50
Суринам	49
Белиз	47
Гондурас	44
Сальвадор	43
Гватемала	39
Гайана	36
Ганти	32



Хозяйство Латинской Америки. Промышленность и сельское хозяйство.


Латинскую Америку можно отнести к промышленно развитым регионам, хотя все его страны, принято относить к группе развивающихся.

Доля региона в мировом валовом продукте составляет 8,5%.

$\frac{4}{5}$ всей промышленной продукции приходится на тройку экономических лидеров – Бразилию, Мексику, Аргентину.

В мировом сельскохозяйственном производстве региону принадлежит видное место.







Хозяйство Латинской Америки. I

ПРОМЫШЛЕННОСТЬ.

Долгое время промышленность региона характеризовалась в первую очередь развитием горнодобывающих отраслей. Однако, в последнее время ведущая роль стала переходить к обрабатывающей промышленности (особенно черная, цветная металлургия, нефтепереработка, а так же электроника и машиностроение).

В Бразилии получили развитие электроника, автомобиле-, судо-, самолетостроение; в Мексике, Аргентине – производство автомобилей, станков.

Первый сектор – это высокотоварное, плантационное хозяйство. Крупнейшие в мире производители бананов – Коста-Рика, Колумбия, Эквадор, Гондурас, Панама. На судах-рефрижераторах весь сбор бананов вывозится в Европу, США, причем по дороге они дозревают. На Кубе $\frac{1}{2}$ всех обрабатываемых земель занята плантациями сахарного тростника. Сахарные заводы производят более 5 млн т сахара в год. Сахарная промышленность – отрасль специализации Кубы.

Второй сектор – это

Хозяйство Латинской Америки. Транспорт.

Транспортная оснащённость Латинской Америки слабая. Недостаточно развиты внутренний водный, трубопроводный транспорт, несмотря на большую протяжённость железных дорог их пропускная способность очень низкая, лучше развит – воздушный и автомо-бильный. Огромную роль играет морской транспорт и морские порты, все дороги в регионе ведут к морскому порту.



Дорога в Анд

Грузовой состав. Бразилия.



Панамский канал.



Речные трам



Вьюжной транспорт.



Особенности экономики стран Латинской Америки

По уровню развития опережают развивающиеся страны Азии и Африки

Снижается доля с/х, растет доля обрабатывающей промышленности

На Бразилию, Мексику, Аргентину приходится 2/3 промышленного производства

В добывающей промышленности 80% - добыча топлива, 20% - рудного сырья

С/х занимает относительно высокую долю в ВВП, особенно в Центральной Америке

В с/х высокотоварные хозяйства сочетаются с мелкотоварным

Ведущая отрасль с/х – растениеводство,
Специализация в с/х:

Кофе – Бразилия, Колумбия, Гватемала

Сахар – Гайана, Куба, Белиз
Бананы – Эквадор, Гондурас, Панама

