



Опишите лист яблони по плану. Используйте при выполнении задания линейку и карандаш.

А. Тип листа

- 1) черешковый
- 2) Сидячий



Б. Жилкование листа



1) параллельное

2) дуговидное

3) пальчатое

4) перисто-сетчатое

В. Тип листа по соотношению длины, ширины и по расположению наиболее широкой части.

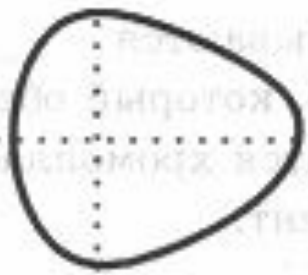
Ответ

5

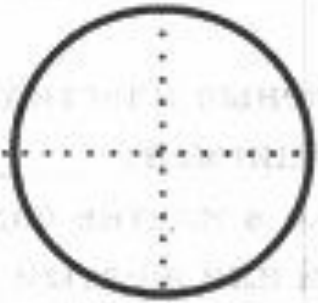


Длина равна ширине или немного её превышает

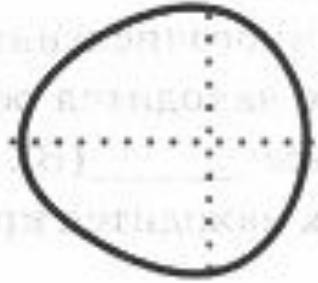
1) широкояйцевидный



2) округлый

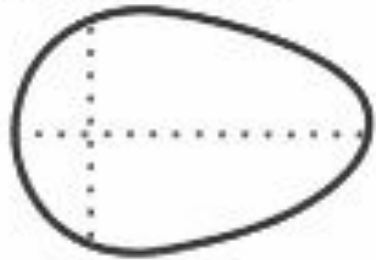


3) обратно-широкояйцевидный

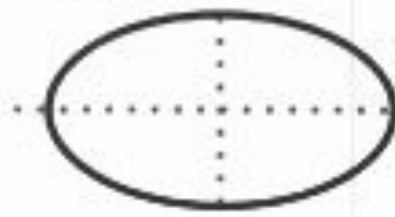


Длина превышает ширину в 1,5–2 раза

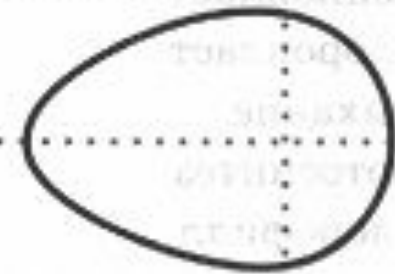
4) яйцевидный



5) овальный



6) обратно-яйцевидный



Опишите лист яблони по плану. Используйте при выполнении задания линейку и карандаш.

А. Тип листа

- 1) черешковый
- 2) Сидячий



Б. Жилкование листа



1) параллельное

2) дуговидное

3) пальчатое

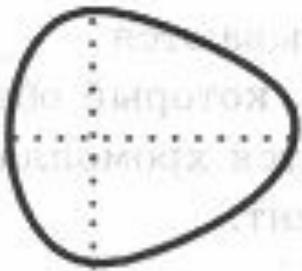
4) перисто-сетчатое

В. Тип листа по соотношению длины, ширины и по расположению наиболее широкой части.



Длина равна ширине или немного её превышает

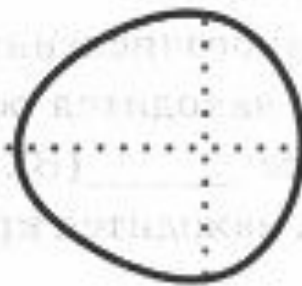
1) широкояйцевидный



2) округлый



3) обратно-широкояйцевидный

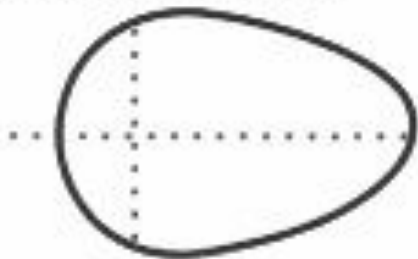


Ответ

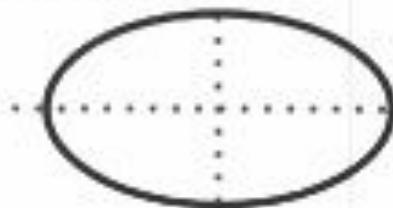
2

Длина превышает ширину в 1,5–2 раза

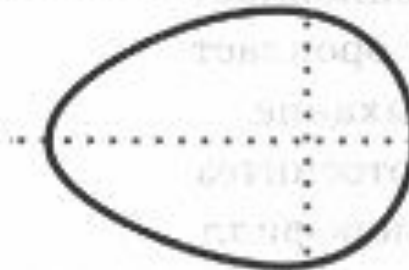
4) яйцевидный



5) овальный



6) обратно-яйцевидный



Опишите лист яблони по плану. Используйте при выполнении задания линейку и карандаш.

А. Тип листа

- 1) черешковый
- 2) Сидячий



Б. Жилкование листа



1) параллельное

2) дуговидное

3) пальчатое

4) перисто-сетчатое

В. Тип листа по соотношению длины, ширины и по расположению наиболее широкой части.

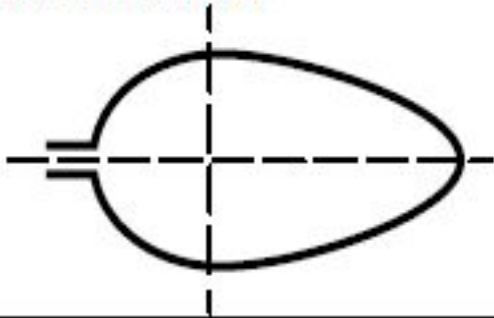


Ответ

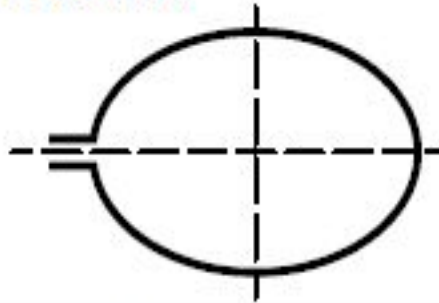
6

Длина превышает ширину в 1,5–2 раза.

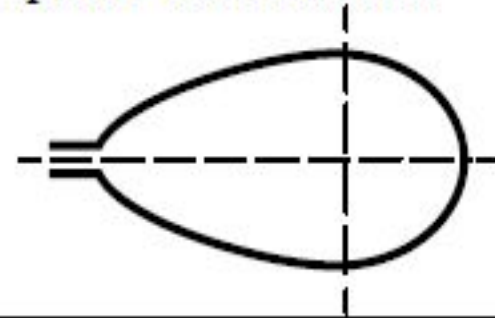
1) яйцевидный



2) овальный

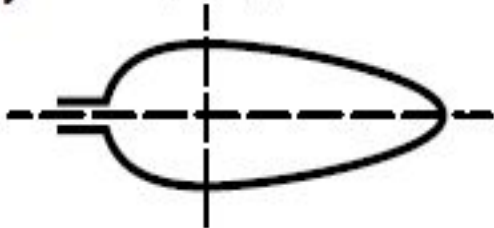


3) обратно-яйцевидный

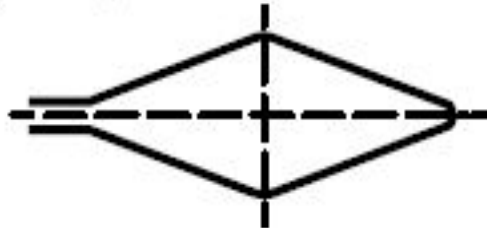


Длина превышает ширину в 2–3 раза и более.

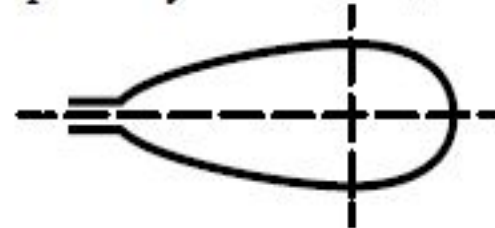
4) узкояйцевидный



5) ланцетный




6) обратно-узкояйцевидный



Опишите лист яблони по плану. Используйте при выполнении задания линейку и карандаш.

А. Тип листа

- 1) черешковый
- 2) Сидячий



Б. Жилкование листа




1) параллельное

2) дуговидное

3) пальчатое

4) перисто-сетчатое


В. Тип листа по соотношению длины, ширины и по расположению наиболее широкой части.




Ответ

1


1) перисто-лопастная



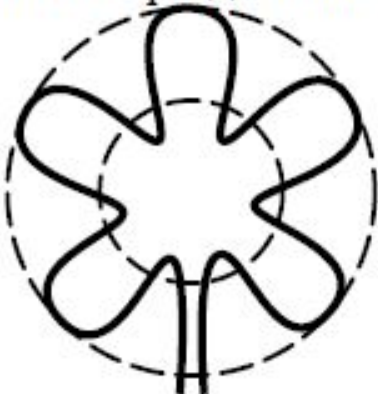
2) перисто-раздельная




3) пальчато-лопастная



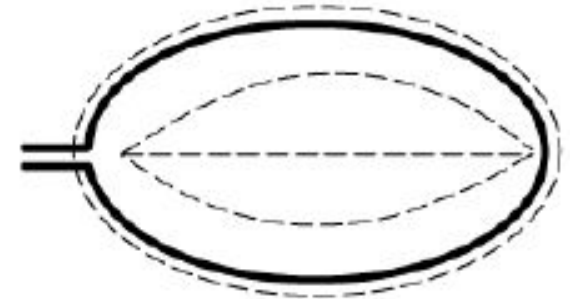
4) пальчато-раздельная



5) трёхлопастная



6) цельная



Опишите лист яблони по плану. Используйте при выполнении задания линейку и карандаш.



А. Тип листа

- 1) черешковый
- 2) Сидячий

Б Жилкование листа



1) параллельное

2) дуговидное

3) пальчатое

4) перисто-сетчатое

В. Тип листа по соотношению длины, ширины и по расположению наиболее широкой части.

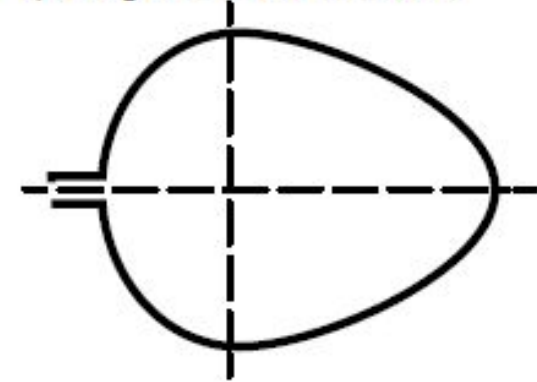
Ответ

1

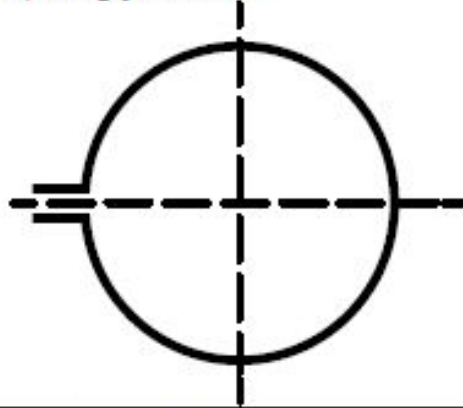


Длина равна ширине или превышает её менее чем в 1,5 раза.

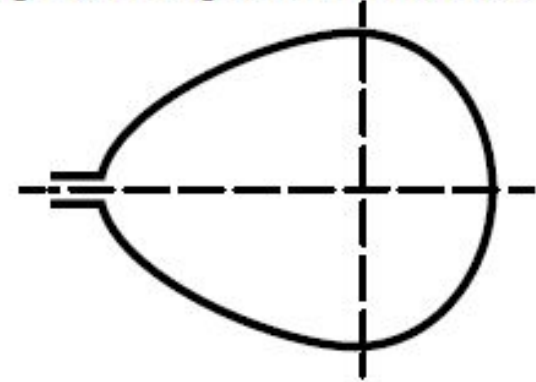
1) широкояйцевидный



2) округлый

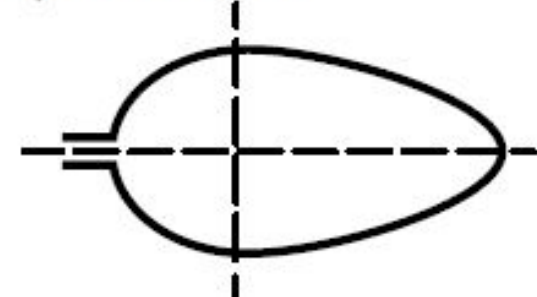


3) обратно-широкояйцевидный

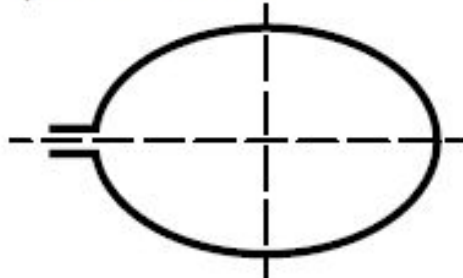


Длина превышает ширину в 1,5–2 раза.

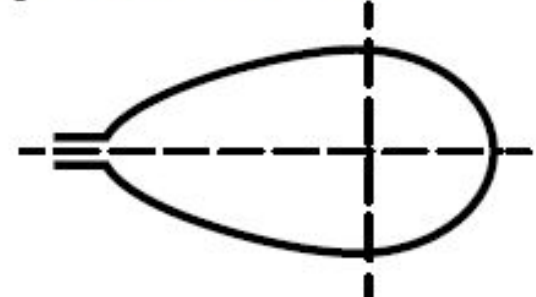
4) яйцевидный



5) овальный



6) обратно-яйцевидный



Рассмотрите изображение и опишите внешнее строение собаки породы боксёр по плану.



А. Окрас

1) однотонный



2) пятнистый (два и более пятна)



ОТВЕТ

3) чепрачный (одно пятно)



4) подпалый



4

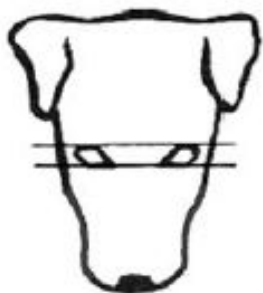
ОТВЕТ

3

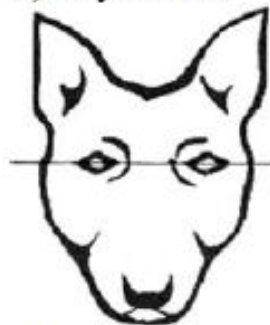


Б. Форма головы

1) клинообразная



2) скуластая



3) грубая с выпуклым лбом, вздёрнутой и короткой мордой



4) легая, с плоским лбом, слабо выраженным переходом ото лба к морде



ОТВЕТ

2



В. Форма ушей

1) стоячие



2) полустоячие



3) развешенные



4) висящие



5) сближенные



6) сильно укороченные



Рассмотрите изображение и опишите внешнее строение собаки породы боксёр по плану.



А. Окрас

1) однотонный



2) пятнистый (два и более пятна)



3) чепрачный (одно пятно)



4) подпалый



ОТВЕТ

1

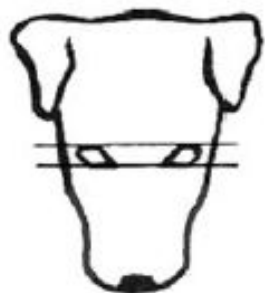
ОТВЕТ

1




Б. Форма головы

1) клинообразная



2) скуластая



3) грубая с выпуклым лбом, вздёрнутой и короткой мордой



4) легая, с плоским лбом, слабо выраженным переходом ото лба к морде



ОТВЕТ

2



В. Форма ушей

1) стоячие



2) полустоячие



3) развешенные



4) висящие



5) сближенные



6) сильно укороченные



Рассмотрите изображение и опишите внешнее строение собаки породы боксёр по плану.



А. Окрас

1) однотонный



2) пятнистый (два и более пятна)



ОТВЕТ

3) чепрачный (одно пятно)



4) подпалый



3

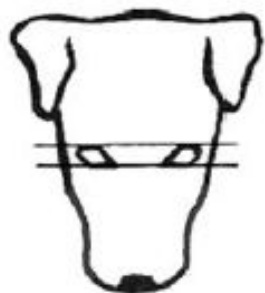
ОТВЕТ

1



Б. Форма головы

1) клинообразная



2) скуластая



3) грубая с выпуклым лбом, вздёрнутой и короткой мордой



4) легая, с плоским лбом, слабо выраженным переходом ото лба к морде



ОТВЕТ

2



В. Форма ушей

1) стоячие



2) полустоячие



3) развешенные



4) висящие



5) сближенные



6) сильно укороченные





А. Окрас

1) однотонный




2) пятнистый (два и более пятна)



ОТВЕТ

3) чепрачный (одно пятно)



4) подпалый



2

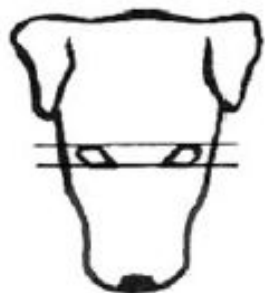
ОТВЕТ

1

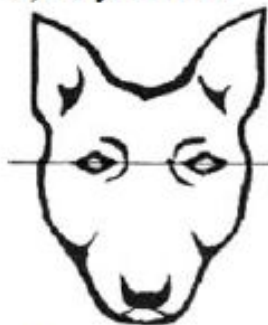


Б. Форма головы

1) клинообразная



2) скуластая



3) грубая с выпуклым лбом, вздёрнутой и короткой мордой



4) легая, с плоским лбом, слабо выраженным переходом ото лба к морде



ОТВЕТ

2



В. Форма ушей

1) стоячие



2) полустоячие



3) развешенные



4) висящие



5) сближенные



6) сильно укороченные

