

5 КЛАСС

06.04.2020

АФИНСКАЯ ДЕМОКРАТИЯ ПРИ ПЕРИКЛЕ

Учитель
истории
Щепеткова Е.В.

Сегодня мы продолжаем изучение истории Древней Греции. Остановимся с Вами на двух заключительных вопросах данного раздела.

- 1) Что такое афинская демократия? Какие позитивные и негативные черты афинской демократии можно выделить?
- 2) Каковы причины покорения Греции армией македонского царя Филиппа? Что из себя представляли войск Александра Македонского?




- Давайте с вами вспомним, что такое афинская демократия? Какой вклад в становление демократии в Афинах внес Солон?
- Для проверки своего ответа откройте стр. 143-146 учебника.

Демократия – власть демоса, т. е. народа

Реформы Солона

Реформа	Основное содержание
Прощение долгов	Люди, имевшие долг, освобождались от его уплаты. Заложенные земледельцами участки снова стали их собственностью
Запрет обращать в рабство за долги	Все рабы-должники были освобождены, а проданных за море следовало разыскать и выкупить за счет государственной казны
Выборность судей	Судьи выбирались из всех афинян независимо от их знатности и богатства
Регулярный созыв народного собрания	В работе народного собрания принимали участие все афинские граждане
Отмена законов Драконта	Были отменены самые жестокие из них
Значение реформ – заложили основы демократии	

- Как же изменилась демократия при Перикле – афинском государственном деятеле в V (5) в. до н.э.?
- Откройте тетради, запишите число и тему занятия: «Афинская демократия при Перикле». Ознакомьтесь с пунктом 1 параграфа 40 и заполните в тетрадях следующую схему.




Перикл

■ **Задание 1.** Заполните схему.




- Прочтите п.2 параграфа 40 и ответьте на вопрос:
- Те изменения, которые внес Перикл в демократическую систему, укрепили её или нет? Почему? Кратко запишите ответ в тетрадь (2-3 предложения)



Народное
собрание в Афинах

- Вся жизнь Перикла была отдана государственным делам. В них помощь ему оказывали его друзья. Чтобы заполнить следующую схему, ознакомьтесь с п.3 параграфа 40.

■ **Задание 3.** Перечислите друзей Перикла. Чем известен каждый из них?



Перикл

- Во времена Перикла Афины стали самым могущественным центром Греции. Но еще при его жизни в Греции начались междоусобные войны. В это время усиливался северный сосед Эллады – Македонское царство.
- Просмотрите видеоурок <https://resh.edu.ru/subject/lesson/434/>
- На основе просмотренного материала и параграфов 41-42 выполнить следующее домашнее задание.



■ **Задание 1.** Заполните схему.



Задание 2. Заполните пропуски в предложениях. Прощенные слова пишем в столбик, предложения переписывать не нужно.

В битве при Херонее в _____ году до н.э. противником царя _____ был оратор _____.

Македоняне превосходили греков численностью войск, но греки отчаянно дрались за свою _____.

Сокрушительный удар по эллинским отрядам нанёс _____.

Задание 3. Таблицу оформить как изображено на картинке с помощью карандаша и линейки. В таблице указать 334 г. до н.э., 331 г. до н.э., 324 г. до н.э.

Походы Александра Македонского

Годы	События
_____	_____
_____	_____
_____	_____
_____	_____
_____	_____

Задание 4. Перепишите предложение, заполнив пропуски.

Целью Александра было _____. Этой цели ему _____
достичь, потому что _____.

Присылаем фото или сканы выполненного классного и домашнего задания до пятницы **10.04.** на почту scheretkovakatya@gmail.com. Не забудьте подписать Фамилию Имя и класс.

СПАСИБО!

