

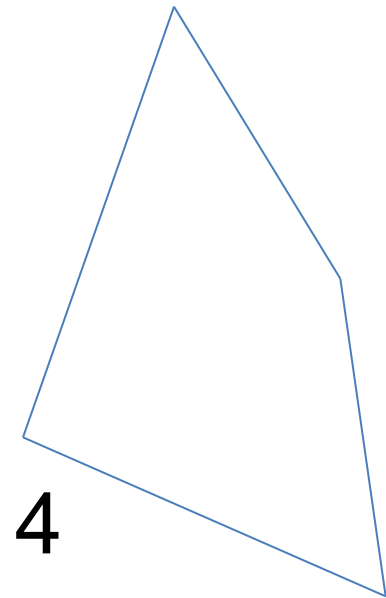


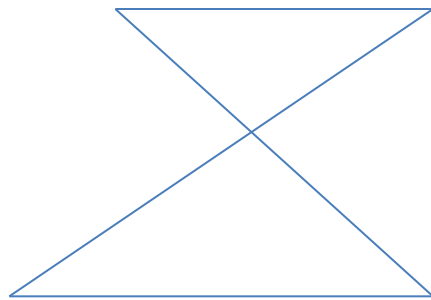
Четырехугольник .
Прямоугольник.
Квадрат.



П 2.8 стр 101

- Как построить любой четырехугольник?
- Назовите элементы четырехугольника.
- Периметр четырехугольника.
- Какой четырехугольник называют прямоугольником?
- Какой прямоугольник называют квадратом?





8 CM




15 CM



6 CM





p cm

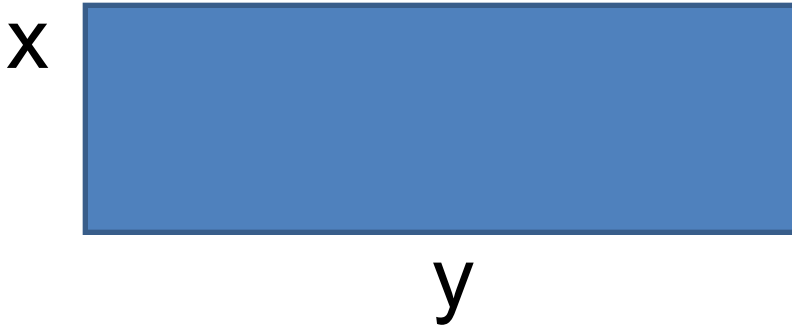
13cm



n cm



$$P=2(x+y) ; P=4m$$



Я

узнал

представил

смог

