



Природа

и

деление



ЦЕЛИ И ЗАДАЧИ

Особенности:

УРОКА:

□ *географического положения,*

Знать: □ *Природно-климатических условий,*

□ *основных занятий жителей*

Древней Греции

НАУЧИТЬСЯ

✓ *Находить страну на исторической карте;*

✓ *Определять особенности развития хозяйства;*


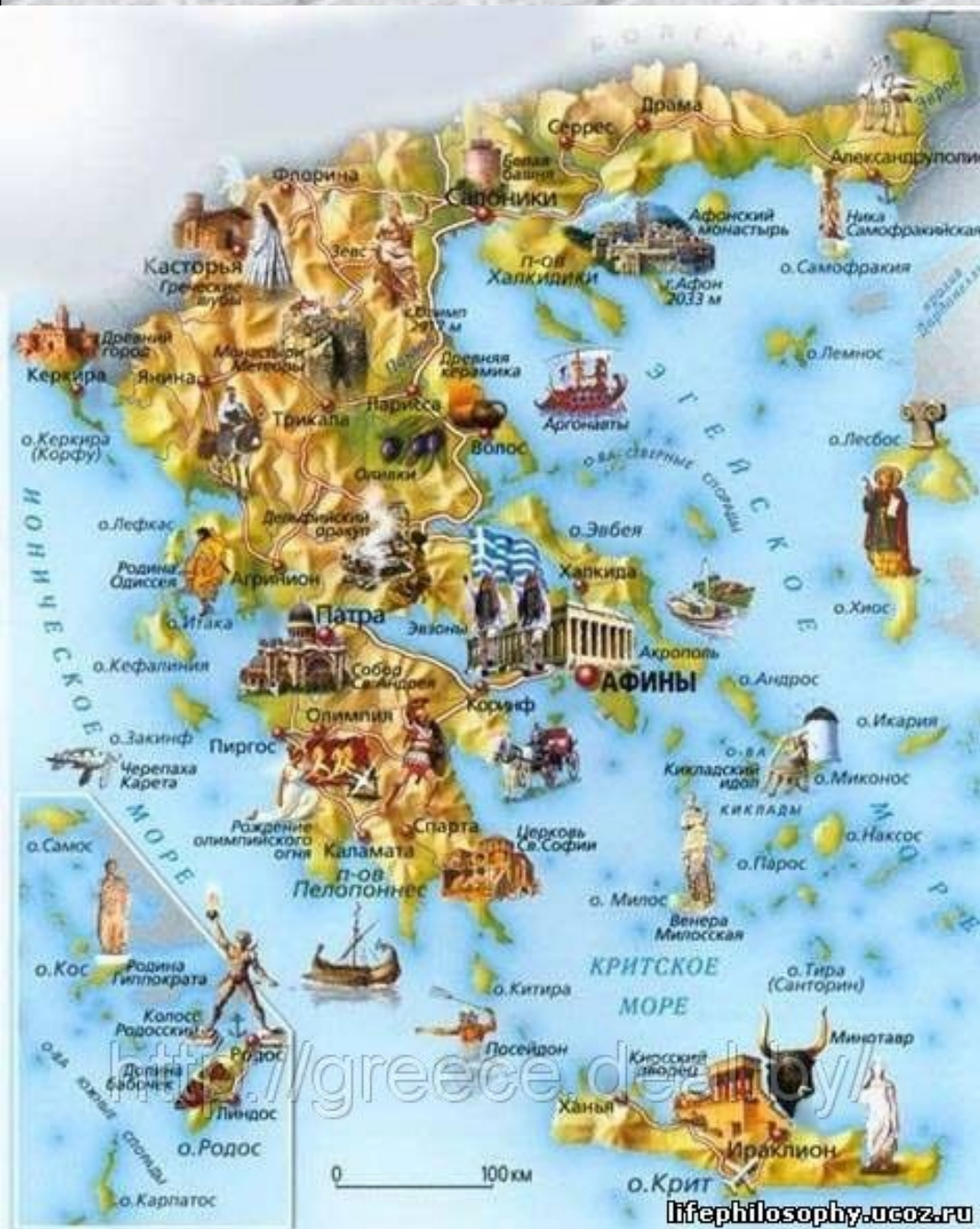
Познавательное

задание!

На основании
карты,
описать
географическ
ое положение
Греции.



Греция расположена на материке Евразия, в южной части Балканского полуострова, омывается Ионическим, Эгейским и Критским морями.



Познавательное

□ **Каково происхождение**

древних греков?

□ **Кто такие ЭЛЛИНЫ?**

□ **Что такое ЭЛЛАДА?**

□ **Как назывались**

племена

первых

ПРОБЛЕМНОЕ

ЗАДАНИЕ!

□ Чем отличается

природа

Греции от природы

стран

Востока?

□ Как это отличие может

повлиять на занятия

**Греция – горная
страна**

**Самая высокая
гора Олимп
расположена в
северо-
восточной части
страны**






Горы разделили Грецию на три части: Северную (Македония), Среднюю (Аттика) и Южную (Пелопоннес)

В Греции нет больших полноводных рек. Маленькие горные реки летом часто пересыхают

В горах много полезных ископаемых: железная и медная руда, серебро, мрамор, строительный камень.



Природный мрамор



Склоны гор покрыты кустарником и низкорослыми деревьями с искривленными стволами, которые являются хорошим кормом для коз и овец



Почвы каменистые, скудные



Природные условия Греции

- **Море, бухты, острова**
- **Горы**
- **полезные ископаемые**
- **Крупных рек нет**
- **Плодородной земли мало**
- **Климат**

Занятия жителей Греции

- **РЕМЕСЛО**
- **МОРЕПЛАВАНИЕ**
- **ТОРГОВЛЯ**
- **Скотоводство (козы, овцы)**
- **Садоводство (оливки, виноград)**
- **Земледелие развито слабо**

**ДРЕВНЕЙШИЕ
ГОРОДА-
ГОСУДАРСТВА
ГРЕЦИИ**

КАРТА ДРЕВНЕЙ ГРЕЦИИ



Найдите на
карте
древнейшие
города
греков:

• КНОСС

• МИКЕНЫ

• ТИРИНФ

• ПИЛОС

• АФИНЫ