

Частное дошкольное образовательное учреждение
«Детский сад №28 открытого акционерного общества
«Российские железные дороги»

«МАГАЗИН ИГРУШЕК»

**Пахомова
Инна Васильевна**



МАГАЗИН ИГРУШЕК

**Тема: «МАГАЗИН ИГРУШЕК»
(подготовительная группа).**

образовательная область «Познание (ФЭМП)

Цель: закрепление и обобщение полученных знаний.

Образовательная: повторение и закрепление изученного материала;

Обучающая: развивать мыслительные способности детей, находчивость, смекалку;

Воспитательная: воспитывать интерес к математическим знаниям.

СБОРЫ В МАГАЗИН

1. Посчитать цепочкой

□ от **1** до **10**;

□ от **10** до **1**;

□ от **5** до **9**;

□ от **7** до **3**;

□ от **4** до **10**;

□ от **8** до **2**.

2. Назвать соседей числа

3 4 5

1 2 3

8 9 10

7 8 9

3. Назвать последующее чисел

5 **6**

8 **9**

7 **8**

3 **4**


4. Считалки - задачи



Сказал котёнок Котофей:
Мечтаю скушать пять мышей,
Потом ещё бы одного...
А сколько же мышей всего?



Шепчет слон слонихе тихо:
-Разболелась голова.
Ты напомни мне, слониха,
Сколько будет **два и два?**





**Наступил конец считалок.
И еще ответьте нам:
Пролетело девять галок,
А потом еще одна.
Заключительный вопрос:
Сколько ж птичек пронеслось?**

МАГАЗИН ИГРУШЕК



Чтобы магазин открылся, нужно расставить
числа по порядку.



Покупка игрушки



Сравнить числа

8 7

8 8

5 4

6 9

3 4

9

6

Покупка игрушки




Покупка игрушки



Покупка игрушки




Из каких геометрических фигур
состоит домик.



Покупка игрушки



Из каких геометрических фигур
состоит рыбка.



Покупка игрушки



Игра «Поезд»

Зайчик едет в первом вагоне слева.



Игра «Поезд»

Мышка едет во втором вагоне справа.



Игра «Поезд»

Ёжик едет во втором вагоне слева.



Игра «Поезд»

А попугай должен ехать в третьем вагоне справа.



Игра «Поезд»



Покупка игрушки



Записать и решить примеры

$$2+1=$$

$$5-1=$$

$$9+1=$$

$$6-6=$$



МОЛОДЦЫ!