




50/50



15	1 000 000
14	500 000
13	250 000
12	125 000
11	64 000
10	32 000
9	16 000
8	8 000
7	4 000
6	2 000
5	1 000
4	500
3	300
2	200
1	100





50/50



15	1 000 000
14	500 000
13	250 000
12	125 000
11	64 000
10	32 000
9	16 000
8	8 000
7	4 000
6	2 000
5	1 000
4	500
3	300
2	200
1	100


Нефронның схемасына жатпайды?

А Генли ілмегі

С уретра

В Капиллярлар шумағы

Д Эфферентті артерия



50/50



15	1 000 000
14	500 000
13	250 000
12	125 000
11	64 000
10	32 000
9	16 000
8	8 000
7	4 000
6	2 000
5	1 000
4	500
3	300
2	200



Жылқының несеп бөлуің тездету үшін қандай тәсіл қолданылады?

А Рефлекторлы жолмен

С Әлсіз шуыл арқылы

В Жылы суға малынған
тампон

Д Тік ішек арқылы



50/50



15	1 000 000
14	500 000
13	250 000
12	125 000
11	64 000
10	32 000
9	16 000
8	8 000
7	4 000
6	2 000
5	1 000
4	500
3	300

Рентген сәулесі дегеніміз не?

А радиотолқын

С Инфрақызыл сәуле

В Электромагнитті толқын

Д кернеу



50/50



15	1 000 000
14	500 000
13	250 000
12	125 000
11	64 000
10	32 000
9	16 000
8	8 000
7	4 000
6	2 000
5	1 000
4	500


Ең ұзын толқын?

А ультракүлгін

С инфрақызыл

В Рентген

Д радиотолқын



50/50



15	1 000 000
14	500 000
13	250 000
12	125 000
11	64 000
10	32 000
9	16 000
8	8 000
7	4 000
6	2 000
5	1 000

Рентгенді қараңғы бөлмеде жүргізуге мүмкіндік болмаған жағдайда нені пайдаланады?

А приптоскоп

С рентгеноскопия

В ангстрем

Д платина



50/50



15	1 000 000
14	500 000
13	250 000
12	125 000
11	64 000
10	32 000
9	16 000
8	8 000
7	4 000
6	2 000

Бүйрек астаушаларының қабынып ауруы?

А цистит

С пиелонефрит

В олигурия

Д панкреатит



50/50



15	1 000 000
14	500 000
13	250 000
12	125 000
11	64 000
10	32 000
9	16 000
8	8 000
7	4 000

Несепті азот қышқылын қосып қайнатқанда қандай зат болса лайлы тұнба түзіледі?

A индикан

C глюкоза

B белок

D кетонды денешік



50/50



15	1 000 000
14	500 000
13	250 000
12	125 000
11	64 000
10	32 000
9	16 000
8	8 000

Малдың іші өтіп, құсқанда оның несесінің тығыздығы қандай болады?

A төмен

C жоғары

B 0-ге тең

D 1,060-қа тең



50/50



15	1 000 000
14	500 000
13	250 000
12	125 000
11	64 000
10	32 000
9	16 000

МИЛЛИОНЕРОМ

Несептегі гемоглобинді анықтағанда жұмыс соңында қандай түсті тұнба түзілуі керек?

A ақ

C көк

B Тұнба түзілмейді

D қызыл



50/50



15	1 000 000
14	500 000
13	250 000
12	125 000
11	64 000
10	32 000

МИЛЛИОНЕРОМ

рентген сәулесін алу үшін оның кертпесінен қанша
вольт кернеулі тоқты жіберу керек?

A 5-8вольт

C 0,1-0,8

B 10-12вольт

D ^{вольт}
Тоқ жіберілмейді



50/50



15	1 000 000
14	500 000
13	250 000
12	125 000
11	64 000

МИЛЛИОНЕРОМ


Уремиялық синдромға жатады:

А Ісік, олигурия

С протеинурия

В Анарексия, құсу

Д Цилиндрурия, ишурия





Поздравляем! Вы - миллионер!

Выход из игры