

Сьогодні
22.09.2022

Урок
№12



**Число і цифра 3.
Попереднє і наступне числа.
Поняття «третій». Написання цифри
3. Розпізнавання геометричних фігур**



Добрий день, дорогі
друзі!
Добрий день!
На вас чекає гарний
день.
Бачу, всі веселі і
здорові
До уроку всі готові!



Півень залетів на
тин,
А за ним іще *один*.

Скільки півників
усіх?
Полічить-но швидше
їх.





- 1 і 1 – це 2.
- Півників стало на одного більше,
або стільки ж та ще один.
- 2 більше, ніж 1.

По небу летіли горобець, ластівка і джміль.
Скільки всього летіло птахів?



Не птах



- Джміль – не птах
- 2 – це 3 без 1.

Сьогодні
22.09.2022

Мотивація навчальної діяльності. Робота з ілюстраціями

Про що йдеться у
казках?
Чи можуть казки
чогось навчити?






Був час, коли найбільшим числом уважали число 3. Про це свідчить той факт, що числа, менші від трьох, мали окрему назву: один – сонце або місяць, два – очі, вуха, крила, руки. Число 3 позначали словом «багато». Звідси походять різні прислів'я, заклинання, благословення: «Ходила три дні та виходила злидні», «Набрався три копи лиха», «Бог любить трійцю», «Тричі благословенний» і т. ін.

Навколо числа три створювали легенди, повір'я. «Три» вважали числом божественним, священним, символом досконалості.



- Сьогодні ми будемо вивчати це «священне» число 3.
- Ознайомимося з цифрою 3 та дізнаємося про склад числа 3.





**Три світла в світлофорі є,
А жовте – приготуйтесь
вмиць.
І кожне з них наказ дає.
Зелене світло – можна йти.
Червоне – стійте всі, не йдіть!
Накази ці виконуй ти!**

Як перейти вулицю, якщо поряд немає світлофора?



ПРАВИЛА ДОРОЖНЬОГО РУХУ



ПЕРЕХОДЬ ДОРОГУ ТІЛЬКИ ПО ОБОЗНАЧЕНОМУ ПІШХОДНОМУ ПЕРЕХОДУ





ПЕРШ НІЖ ПОЧАТИ ПЕРЕХОДИТИ ДОРОГУ, ПОДИВИСЬ СПОЧАТКУ НАЛІВО, А ПОТІМ НАПРАВО



ЯКЩО ПОРЯД АВТОМОБІЛЬ, ПОЧЕКАЙ ПОКИ ВІН ПРОІДЕ, А ПОТІМ ПРОДОВЖУЙ СВІЙ ШЛЯХ



ЯКЩО ПОРЯД Є ПІДЗЕМНИЙ ПЕРЕХІД, ТО КОРИСТУЙСЯ НИМ



ПЕРЕХОДЬ ДОРОГУ ТІЛЬКИ НА ЗЕЛЕНИЙ СИГНАЛ СВІТЛОФОРУ



НІ В ЯКОМУ РАЗІ НЕ ПЕРЕХОДЬ ДОРОГУ НА ЧЕРВОНИЙ СИГНАЛ СВІТЛОФОРУ




НІ В ЯКОМУ РАЗІ НЕ ГРАЙСЯ НА ПРОБІДЖІЙ ЧАСТИНІ, ЦЕ ДУЖЕ НЕБЕЗПЕЧНО!



ЯКЩО ТРОТУАР ВІДСУТНІЙ, ПОТРІБНО ЙТИ УЗБІЧЧЯМИ ДОРІГ НАЗУСТРІЧ РУХУ ТРАНСПОРТУ

Кращий спосіб зберегти життя на дорогах - дотримуватися правил дорожнього руху

Що зображено на малюнку?

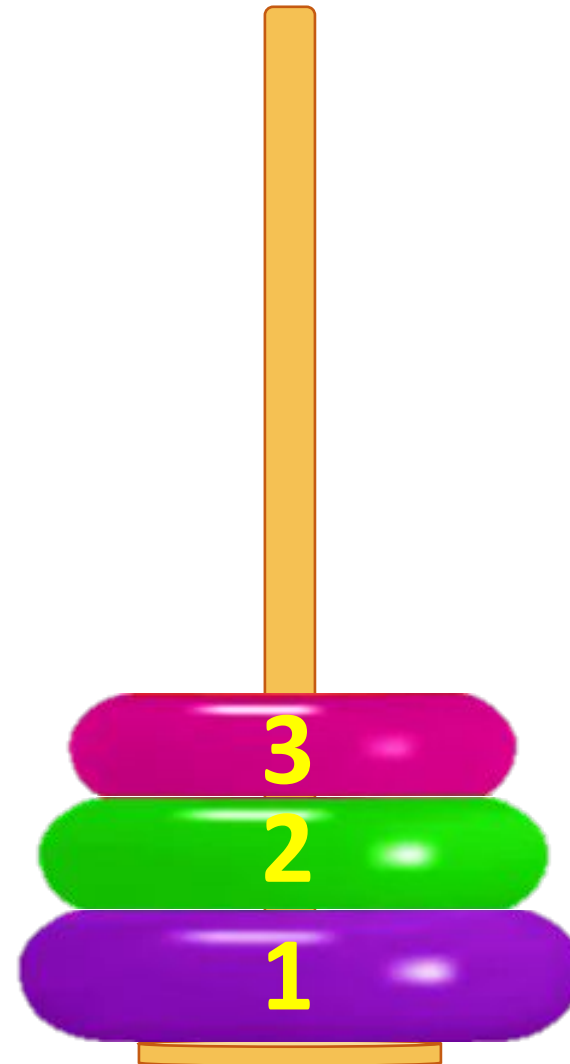


Сьогодні
22.09.2022


Робота з підручником. Число і цифра 3




Скільки кілець у
пірамідці?



Чого на малюнку є по 3?





число

! Кількість
порахованих
предметів — це ...

! На письмі число записують за
допомогою значка, який
називається ...



цифра


! Коли записують кількість
предметів,
використовують ...



цифри

! Коли запитують **скільки**, то
називають ...

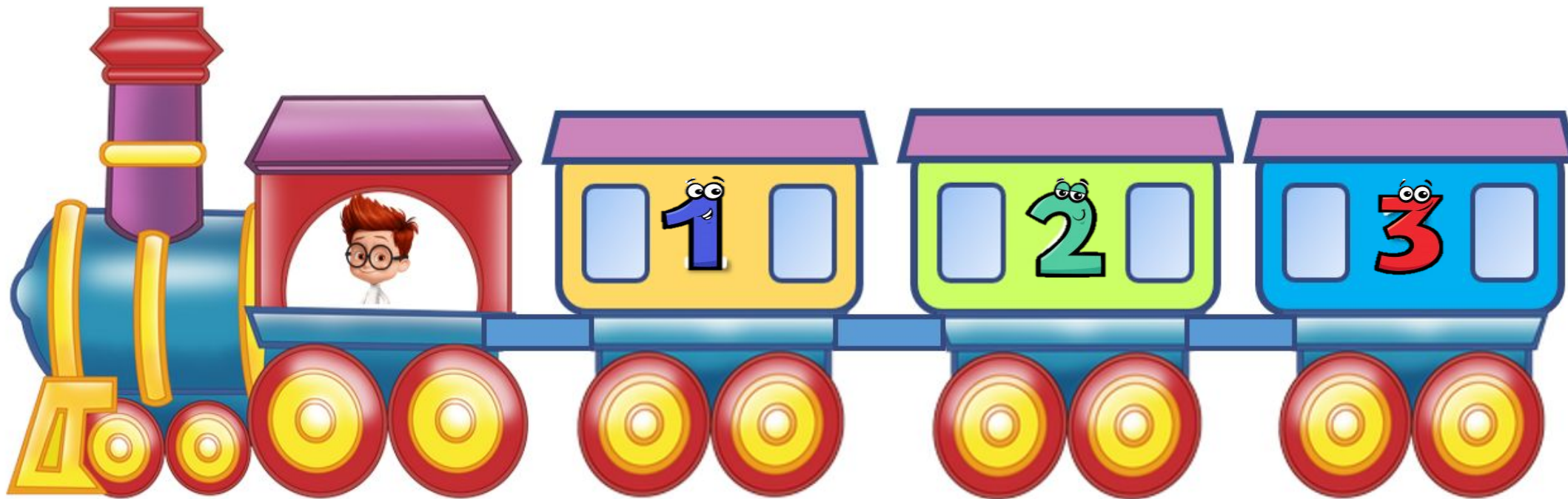
число



Сьогодні
22.09.2022

Робота з підручником. Поняття «третій»

- ❖ Якого кольору третій вагон у потязі?



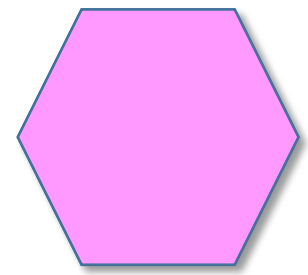



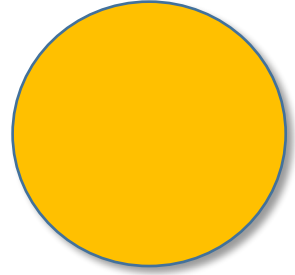
Числа 1 і 3 –
«сусіди» числа 2.

Число 1
попереднє щодо
числа 2.

Число 3
наступне
щодо числа 2.

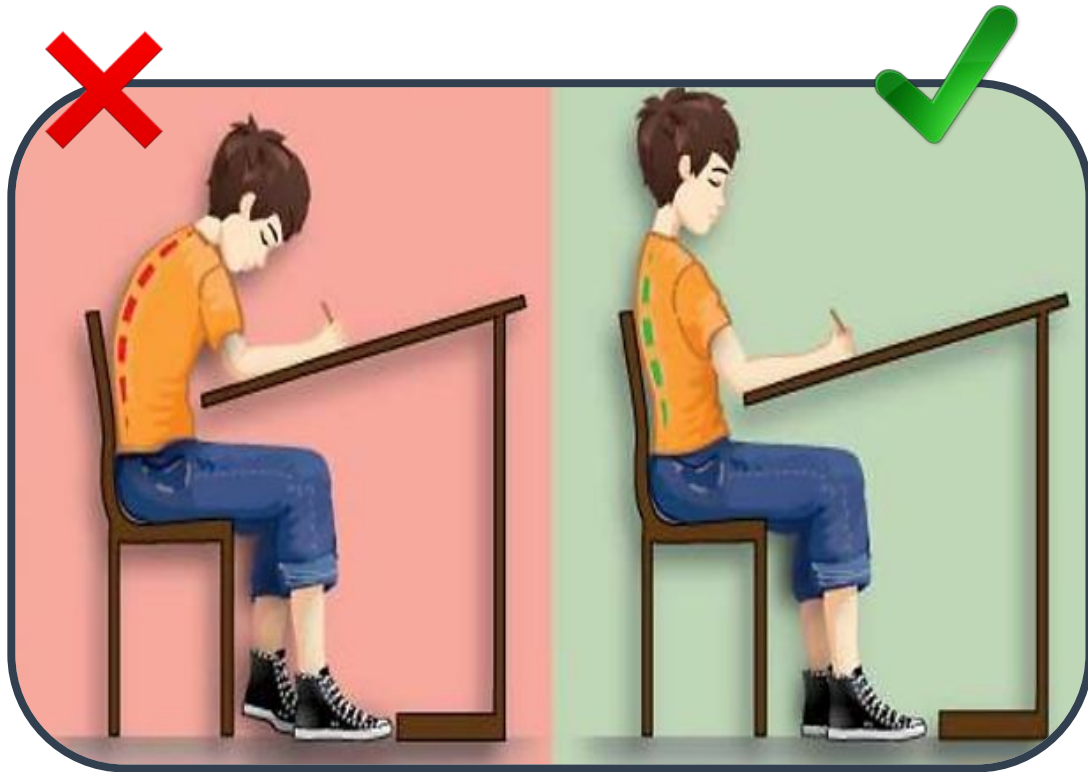


Скільки трикутників на малюнку?





Як ви повинні сидіти за партою?



- ✓ Ноги повинні стояти повною ступнею на підлозі.
- ✓ Спина рівна.
- ✓ Голова нахилена вниз так, аби бачити, що позначено у зошиті.
- ✓ Лікті – на парті так, аби не звисали.
- ✓ Між партою і грудьми має бути відстань на ширину долоні.

Як потрібно, щоб лежав зошит? Як слід тримати олівця?



- ✓ Зошит має лежати навкоси.
- ✓ Олівець тримаємо тільки трьома пальцями – великим, вказівним і середнім.
- ✓ Олівець більше спирається на середній палець, ми тримаємо його великим і зверху вказівним пальцем.
- ✓ Усі три пальці знаходяться на відстані 2 см від кінця олівця.

Сьогодні
22.09.2022

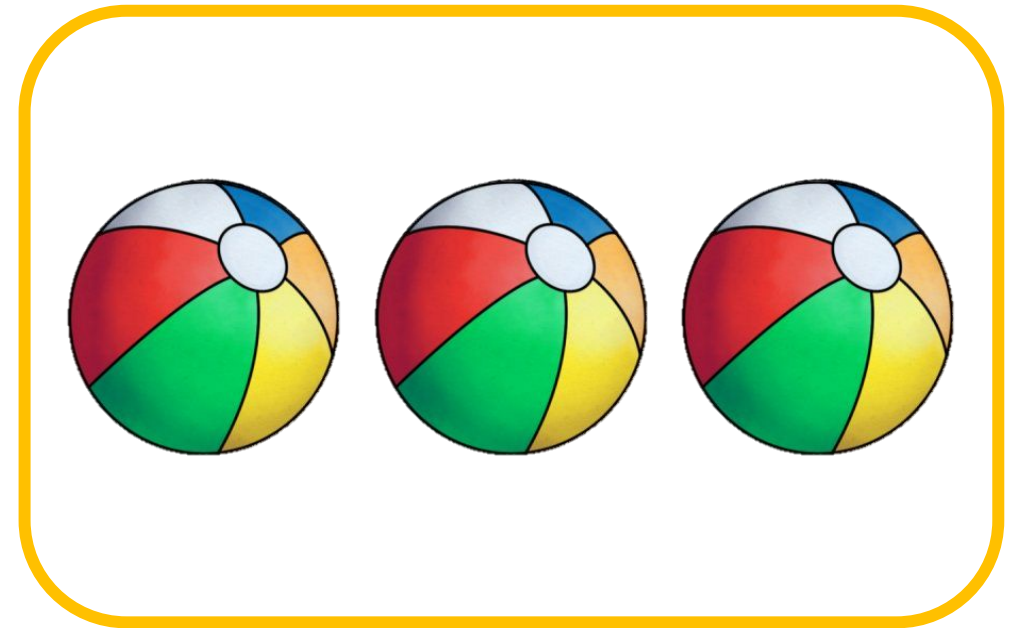
**Робота у зошиті
(сторінка 11).**



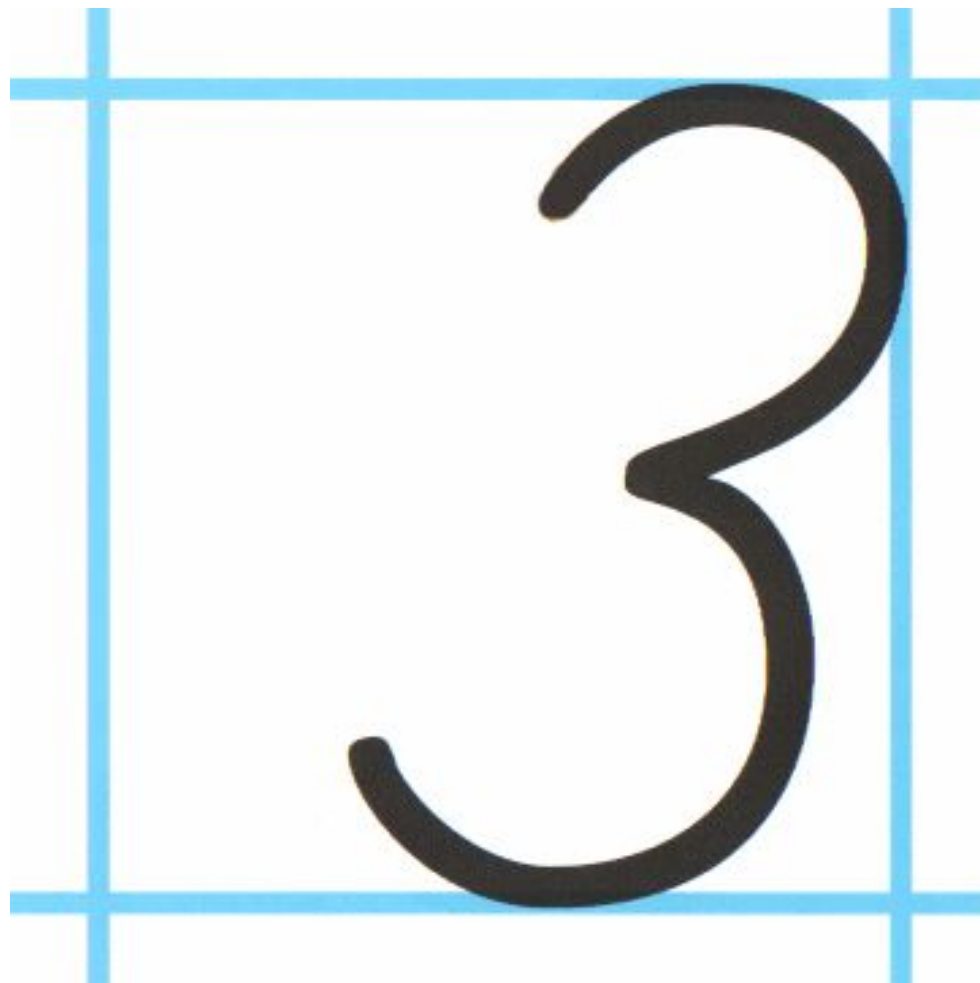
- Скільки кеглів на малюнку? Обведи відповідне число.
- Намалюй три м'ячі.



1 2 3 4




Методика написання цифри «3»

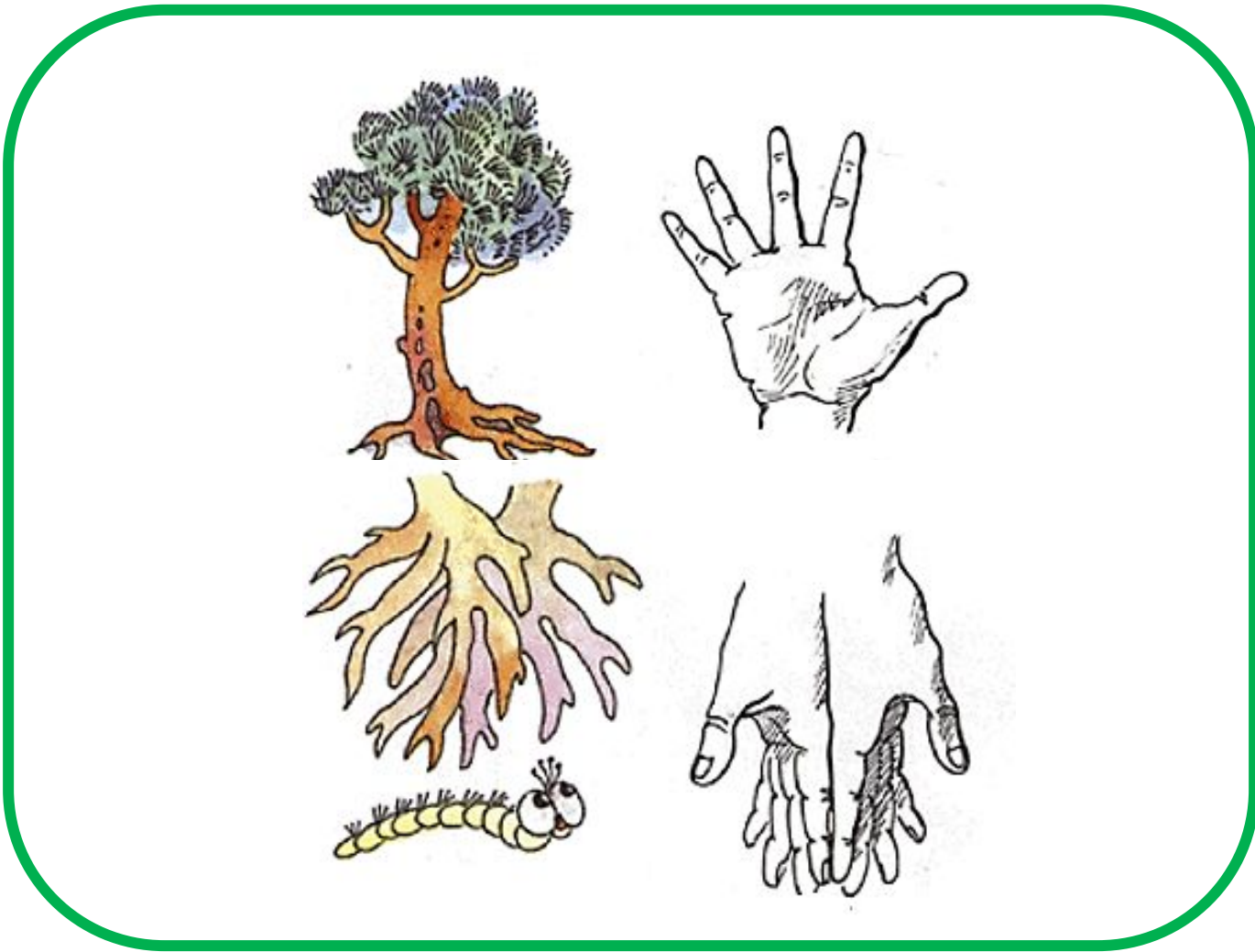


Каліграфічна хвилинка


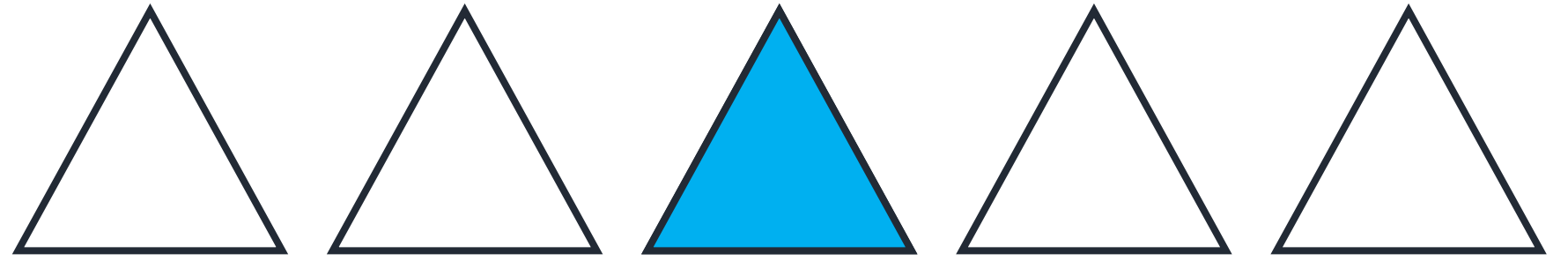
- Напиши за зразком.



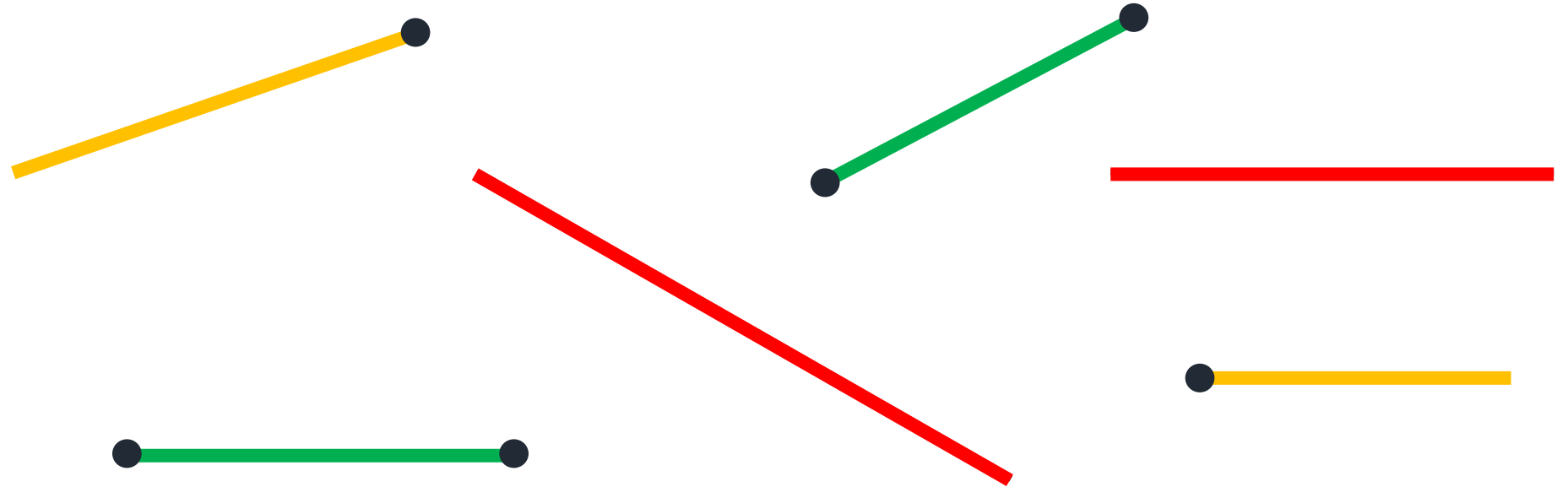
3	3	3	3	3	3	3	3	3	3	3										
3	3	3	3	3	3	3	3	3	3	3										



- Зафарбуй третю зліва фігуру в кожному рядку геометричних фігур.



- Наведи прямі олівцем червоного кольору, відрізки – олівцем зеленого кольору, промені – олівцем жовтого кольору.





РУХЛИВА

ВПРАВА








Ця щаслива цифра дуже.
Але трохи вона тужить:
— Буква «Зе» на мене
схожа
— Переплутати нас
можуть!

Три



❖ Зловіть оплесками три предмети.





Сьогодні
22.09.2022

(щоби відкрити інтерактивне завдання, натисніть на помаранчевий прямокутник)

**Відкрити онлайнове
інтерактивне завдання**

Сьогодні
22.09.2022

Робота з конструктором «LEGO»





**Про що ви
дізналися на
уроці?**

**Що навчилися
робити?**

**Що
сподобалося
на уроці
найбільше?**

**Що ви знаєте
про число 3?**