

ЧАСТИ СВЕТА

Большие участки земли вместе с островами называют частями света. Частей света шесть: Европа, Азия, Африка, Америка, Австралия, Антарктида.



На Земле выделяют 6 материков:



Задание


1. Запишите в тетради части света
2. Назовите часть света, где жили древнейшие люди
3. Назовите, на каком континенте располагается древнейший район земледелия
- 4. Назовите часть света и название хотя бы одной реки , протекающей по территории этой части света

Материки и части света


БОЛЬШОЙ ВОПРОС

Материки	Части света
1. СЕВЕРНАЯ АМЕРИКА	1. АМЕРИКА
2. ЮЖНАЯ АМЕРИКА	2. ЕВРОПА
3. ЕВРАЗИЯ	3. АЗИЯ
4. АФРИКА	4. АФРИКА
5. АВСТРАЛИЯ	5. АВСТРАЛИЯ
6. АНТАРКТИДА	6. АНТАРКТИДА

Найдите в учебнике определение понятия «первобытный человек» и запишите его в тетради



Прочитайте пункт «наши далекие предки» с 10-11 и опишите, как выглядел ————— обжитый человек.





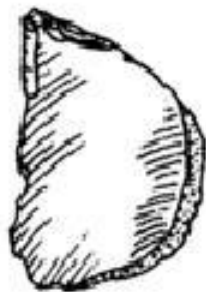
Рубило



Рубило



Остроконечник



Резец



Скребло




Проколка



Каменный нож

Основные занятия древнейших людей



Собирательство



Охота



Огонь в жизни древнего человека


Огонь играл пожалуй решающую роль в жизни древнего человека:



- с помощью огня человек охотился и защищался;
- огонь согревал человека!
- огонь позволял готовить пищу человеку!







ДЗ:

1. Прочитайте параграф 1

2. Объясните значение слов:

- Первобытные люди
- Орудие труда
- Собирательство
- Археолог
- Реконструкция

3. Нарисуйте первобытного человека или орудия труда первобытного человека