

Тема урока:

«Польша»





План описания страны

1. Экономико-географическое
положение страны

2. Природа страны

3. Население

4. Хозяйство

5. Города,
достопримечательности



Визитная карточка

Полное название страны –

Площадь –

Столица –

Форма правления –

Форма административно-территориального устройства –

Страница 160




Полное название страны

Республика Польша



Площадь страны

313 ТЫС. КМ²



Столица Варшава



Форма правления республика




Форма административно-территориального устройства

унитарное государство



Флаг



Герб



1. Столица Польши:

АА ББ рр лл ии

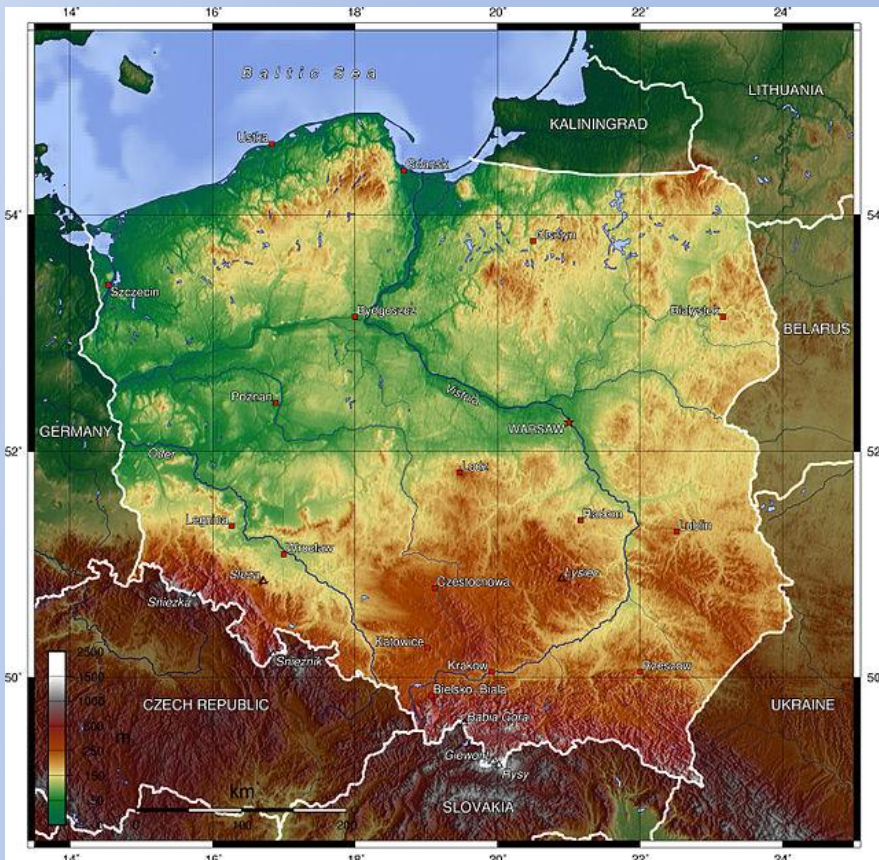
ББ ВВ рр шш аа вв а

ВВ СС фф ия



Положение страны

№1. Физико-географическое положение



№2. Экономико-географическое положение



2. Польша граничит с:

АА 55 странами

ББ 7 странами

ВВ 9 странами



№1

**Геологическое
строение**

**Страница 6
атласа**

№2

Рельеф

**Страница 60-
61 атласа**

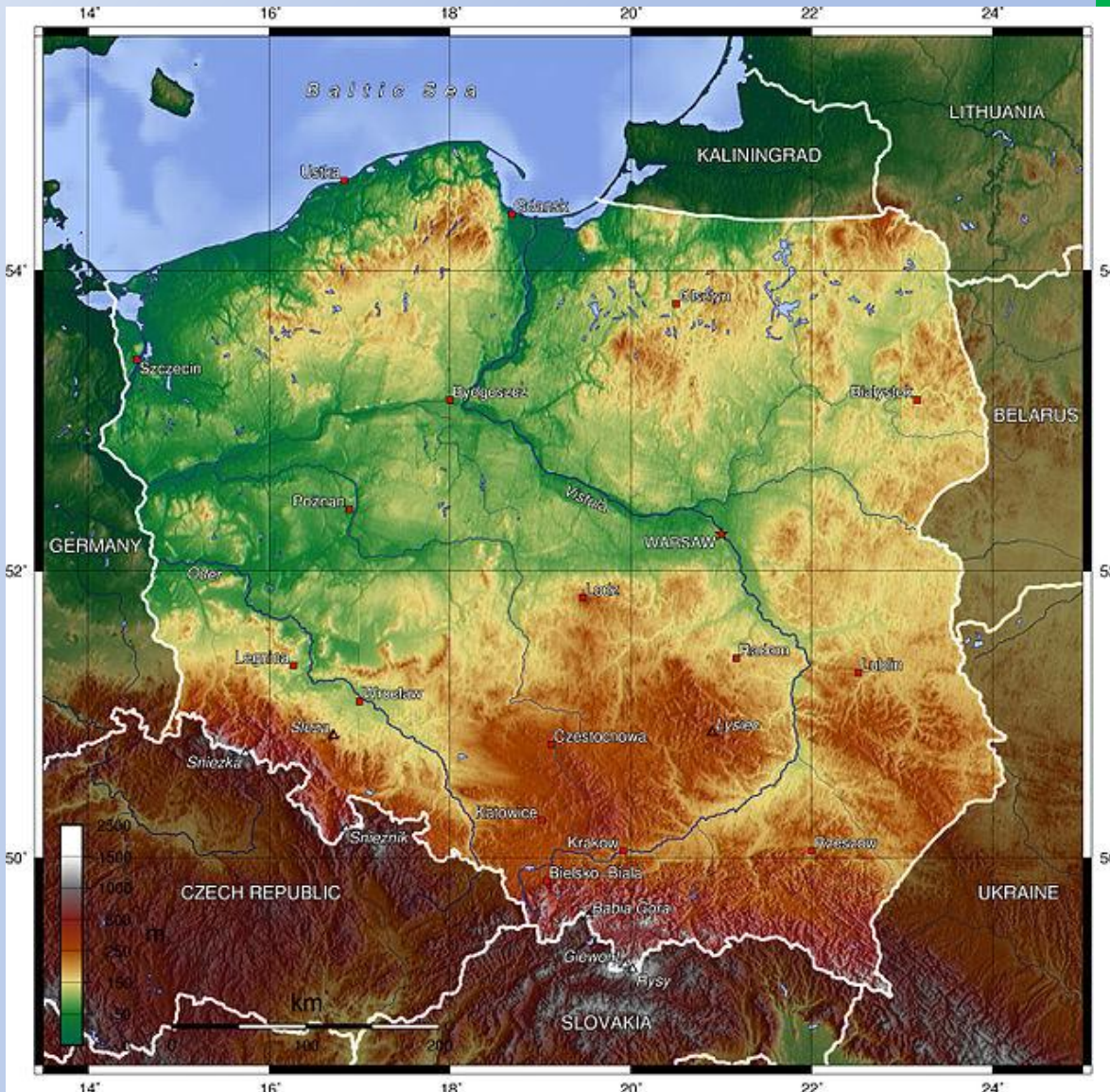
Рельеф

Великопольская
равнина

Балтийская
гряда

Карпаты

Судеты



Полезные ископаемые

Какими полезными
ископаемыми богата
страна?

Страница
64 атласа



Полезные ископаемые



3. На какой платформе расположена большая часть страны?

А. Западно-Сибирской

Б. Восточно-Европейской

В. Африкано-Аравийской

4.

Выберите верное высказывание:

**А. Страна богата полезными
ископаемыми**

**Б. Страна бедна полезными
ископаемыми**

**В. Страна лидер по добыче
каменного угля в Европе**

Климат



**На равнинах
выпадает 500 –
600 мм осадков.
В горах до 1800
мм осадков.**

5. Выберите верное утверждение:

А. На климат Польши большое влияние оказывает Исландский максимум

Б. На климат Польши большое влияние оказывает западный перенос

6. Континентальность нарастает
при движении с ...

А. запада на восток

Б. севера на юг

В. юга на север



Внутренние воды



**Крупнейшие
реки:
Висла и
Одра**



Висла





Одра



7. Крупнейшие реки страны: Висла и ...

А. Буг

Б. Одра

В. Эльба



Почвы

Бурые лесные и аллювиальные



8. Какие почвы преобладают на территории Польши?

А. дерново-заболоченные

Б. торфяно-болотные

В. дерново-подзолистые



Работа в группах

№1

**Население
страны**

№2

**Производство
страны**

Население

Численность населения –
38 млн человек.

97% населения страны –
поляки.

90% населения – католики.

62% горожан.



Производство



Производство



9. Численность населения

Польши составляет:

А. 312 млн человек

Б. 38 млн человек

В. 38 тыс. человек

10. Какую религию исповедуют поляки?

А. Ислам

Б. Католицизм

В. Православие



11. Крупнейшие агломерации Польши

А. Краковская, Варшавская,
Берлинская

Б. Варшавская, Верхнесилезская,
Гданьско-Гдыньская

В. Верхнесилезская, Гданьско-
Гдыньская, Берлинская

12. Какое место в Европе
занимает страна по добыче
каменного угля?

А. 2

Б. 3

В. 1



13. Где сосредоточены главные центры черной металлургии?

А. на юге страны

Б. на севере страны

В. на северо-востоке страны

Работа в группах

№1

**Сельское
хозяйство
страны**

№2

**Транспорт
страны**

14. Ведущая отрасль сельского хозяйства:

А. растениеводство

Б. животноводство

15. Ведущее место в транспортной системе страны занимает:

А. автомобильный транспорт

Б. водный

В. железнодорожный



Количество

Отметка

правильных ответов

1 – 2

1

3 – 4

2

5 – 6

3

7 – 8

4

9 – 10

5

11 – 12

6

13 – 14

7

15

8





Янтарь



Домашнее задание

§ 22

Вопросы 1,2,4,5,
страница 167

Разработать обложку для
книги о Польше



Синквейн

1. Название

2. Два прилагательных

3. Три глагола

4. Выражение на тему

5. Имя существительное



Спасибо за урок!

