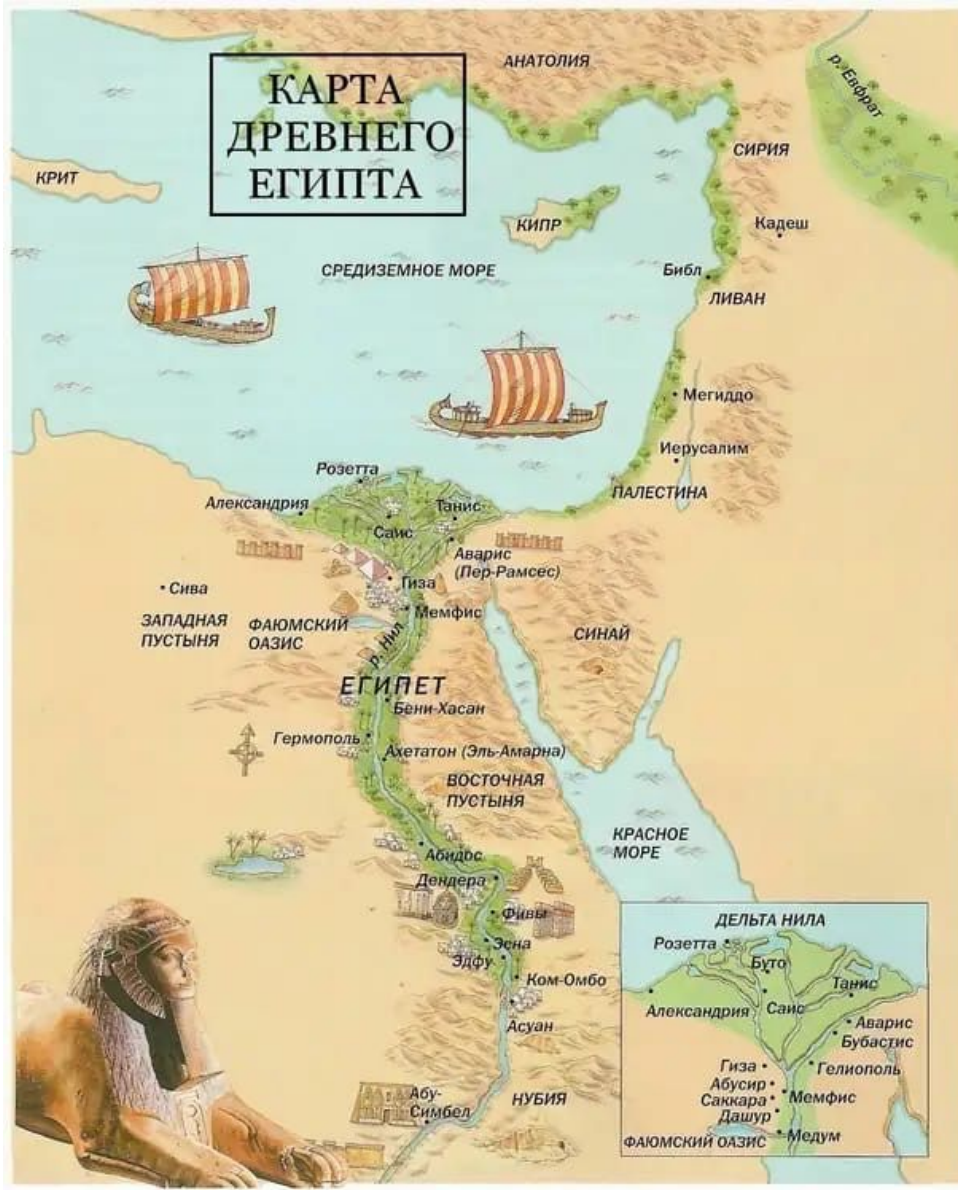




Древний Египет

Подготовили:
Кабанов Константин,
Бережной Иван и
Пайвин Андрей



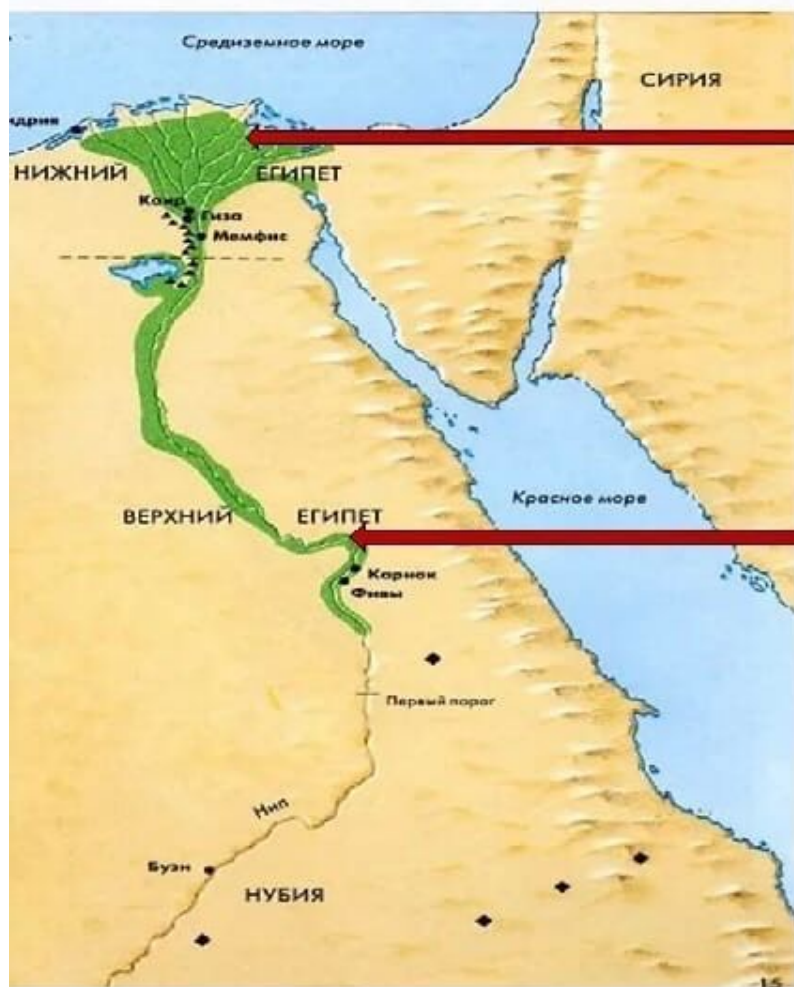
Задание №1. Вопросы по карте:

1. Покажите примерную территорию Египта;
2. Покажите и назовите первую столицу;
3. Покажите и назовите вторую столицу;
4. Показать где верхний и нижний Египет. Объяснить почему так.
5. Почему египтяне основали своё царство на основе реки Нил?

Алгоритм выполнения задания №1:

1. Внимательно посмотреть на карту
2. Провести анализ
3. Ответить на вопросы





**Северный Египет
(Нижний Египет)
располагался в
дельте реки.**

**Южный Египет
(Верхний Египет)
– выше по
течению**

Задание №2:

1. Внимательно посмотреть на изображения Богов
2. Правильно сопоставить Бога и его имя



Бог воздушного пространства, озаряемого солнцем — Шу.

Бог, олицетворение зла — Сет (Сетх).

Богиня истины, справедливости, гармонии — Маат.

Боги, связанные с солнцем — Гор, Ра, Атон, Атум.

Бог мудрости — Тот.

Боги, помогающие мёртвым — Осирис, Анубис, Хатор, Исида.

Бог неба, царственности и солнца — Гор.

Алгоритм выполнения задания №2:

1. Посмотреть
2. Проанализировать
3. Подставить



Правильный ответ:



РА

Боги, связанные с солнцем – Гор, Ра, Атон, Атум.



ШУ

Бог воздушного пространства, озаряемого солнцем — Шу.



ОСИРИС

Боги, помогающие мёртвым – Осирис, Анубис, Хатор, Исида.



СЕТ

Бог, олицетворение зла – Сет (Сетх).



ГОР

Бог неба, царственности и солнца – Гор.




ТОТ

Бог мудрости – Тот.



МААТ

Богиня истины, справедливости, гармонии — Маат.




Задание:

1. Охарактеризовать где кто находится
2. Какого общества не хватает и почему?

Алгоритм выполнения задания №3:

1. Внимательно посмотреть
2. Ознакомиться с деталями
3. Выдвинуть предположение
4. Обсудить



СТРУКТУРА ДРЕВНЕЕГИПЕТСКОГО ОБЩЕСТВА

ЦАРСКАЯ СЕМЬЯ (ФАРАОН)

**ВИЗИРЬ, СОВЕТНИКИ, ГЛАВНЫЕ ЖРЕЦЫ,
ВОЕНАЧАЛЬНИКИ, ВЕЛЬМОЖИ)**

**ГОСУДАРСТВЕННЫЕ ЧИНОВНИКИ,
ЖРЕЦЫ, ПИСЦЫ, ОФИЦЕРЫ**

**РЕМЕСЛЕННИКИ, КУПЦЫ, ХУДОЖНИКИ,
МУЗЫКАНТЫ, СКУЛЬПТОРЫ**

СВОБОДНЫЕ ЗЕМЛЕДЕЛЬЦЫ

РАБЫ





Задание №4:

1. Что изображено на рисунке?
2. Кто проводит обряд?
3. Под покровительством какого Бога это происходит?

Алгоритм выполнения задания №4:

1. Внимательно посмотреть
2. Провести анализ
3. Ответить на вопросы

