

Сравнение  
МНОЖЕСТВ.

Отображения  
МНОЖЕСТВ

Для того, чтобы сравнить два множества нужно:

1. Посчитать элементы первого множества.
2. Посчитать элементы второго множества.
3. Сравнить получившиеся числа.

33



Сравни множества по числу элементов.

Поставь знак  $>$ ,  $<$  или  $=$ .


а)



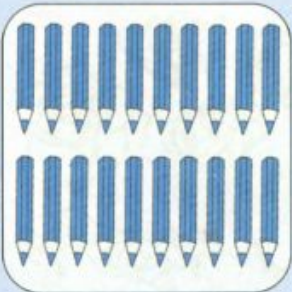
б)



в)




\* г)




34

Нарисуй любые предметы так, чтобы знаки между множествами были верны.




Рассмотрите пример:

42 а) Дай шарик каждому герою сказки.  
Нарисуй ниточки.




б) Нарисуй схему.



Что обозначают точки в кружочке  
слева? Почему справа тоже 4 точки?  
Что обозначают данные стрелки? Какое  
множество больше, шариков или  
животных? Какое соответствие между  
элементами 2-х множеств вы заметили?

**!** Каждому элементу одного множества  
соответствует элемент другого  
множества.

43 Нарисуй по картинке схему.



Животные



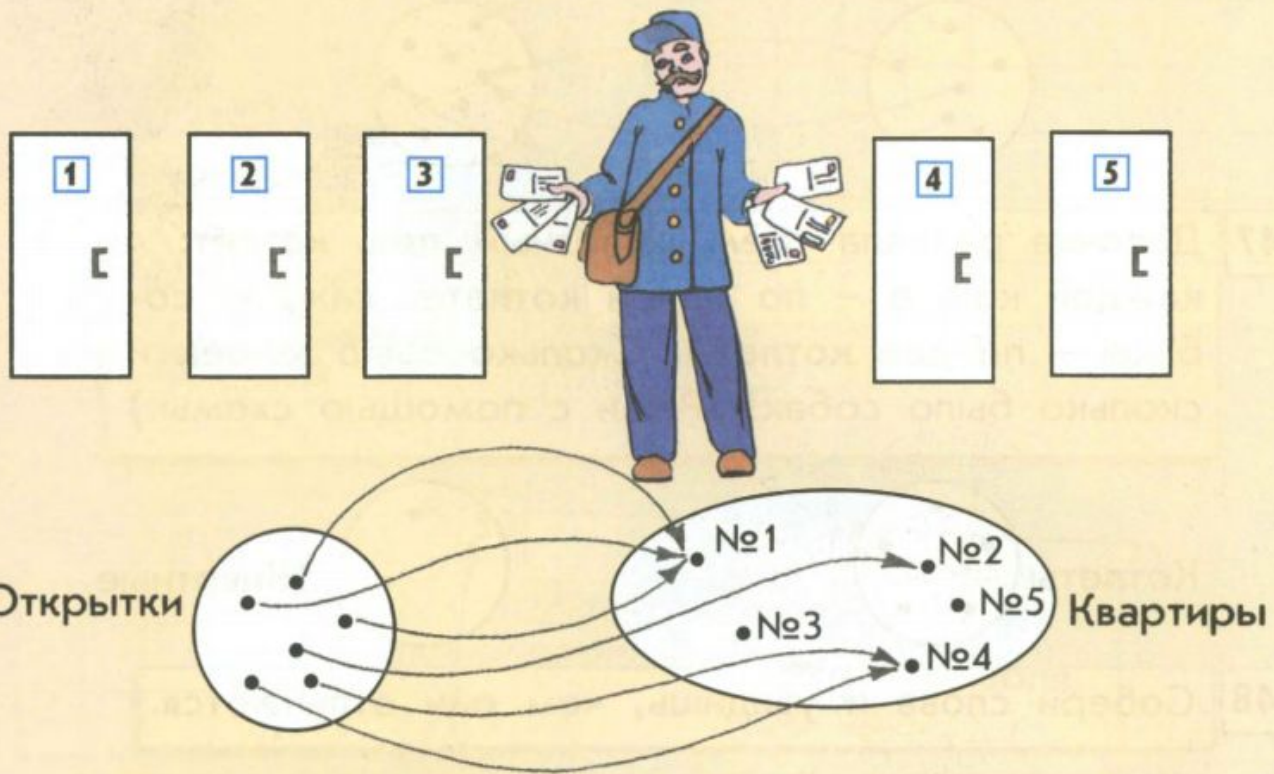
Домики





44

Помоги почтальону разнести поздравительные открытки: нарисуй стрелочки, пользуясь схемой.



47

Девочка раздала трём животным пять котлет: каждой кошке – по одной котлете, каждой собаке – по две котлеты. Сколько было кошек и сколько было собак? (Реши с помощью схемы.)

Котлеты



Животные

