

Тема урока
« Закрепление сложения
однозначных чисел
с переходом через десяток»



*Урок
математики*



УРОК МАТЕМАТИКИ



1) $7+4 =$ $8+5 =$ $6+6 =$

2) На ветке сидело 9 синиц, а на другой ветке - 5 скворцов .
Сколько птиц было на дереве?

Ответ:





10

7

3

10


6


4

10

2

8





	8	10	7	9
+4	12	14	11	13



1 вариант

$$14 - 4 + 2 = 12$$


$$8 + 3 - 1 = 10$$



2 вариант

$$16 - 6 + 4 = 14$$

$$9 + 3 - 2 = 10$$







На полянке росло 6
колокольчиков и
5 ромашек. Сколько всего
цветов росло на полянке?



$$6+5=11(\text{ц.})$$

Ответ: всего 11 цветов на
поляне.



Молодцы!



Дружный

$7-2$

$5+4$

$9-3$

$6+4$

$10-8$

$7 + 4 =$

A white flag with a brown border, containing the number 11.

11

$8 + 6 =$

A blue flag with a brown border, containing the number 14.

14

$9 + 4 =$

A red flag with a brown border, containing the number 13.

13

Спасибо

за урок!

