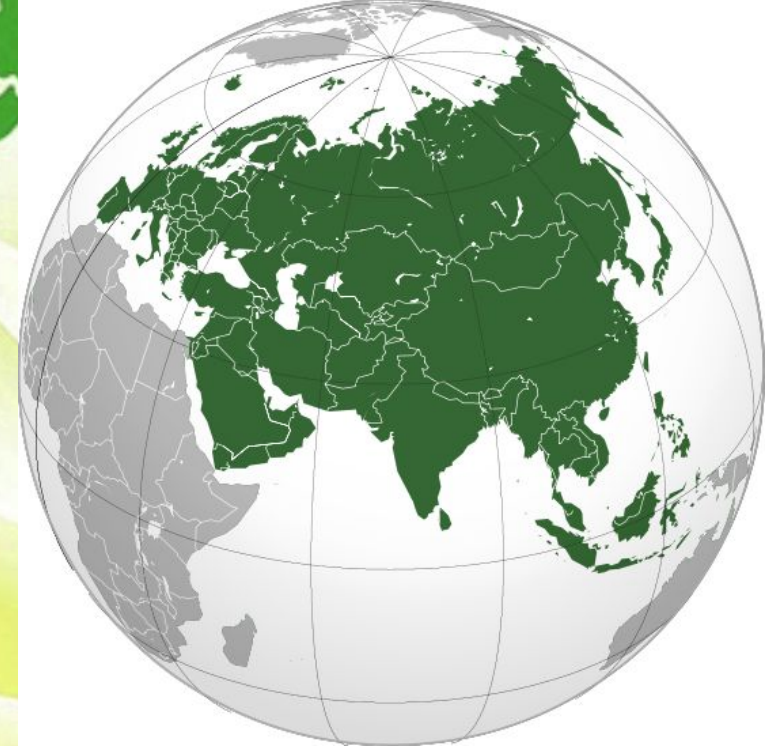


# Путешествие по Евразии



<https://youtu.be/yhp7qUw58fo>[https://youtu](https://youtu.be/yhp7qUw58fo)  
[.be/yhp7qUw58fo](https://youtu.be/yhp7qUw58fo)

<https://youtu.be/sX-p2c-zU1c>

<https://youtu.be/CqTZNwPDGO8>

<https://youtu.be/etFmOttYW2c>



**ВСПОМНИТ  
Е !**

- По какому материку путешествовал Афанасий Никитин?
- Что такое материк?
- Что такое природная зона?
- Что такое полезные ископаемые?



**ВЫ  
УЗНАЕТЕ**

1. О размерах и географическом положении материка.
2. Почему природа материка разнообразна?
3. О природных «рекордсменах» материка


**Как вы  
думаете?**



*Как размеры материка повлияют на  
разнообразие его природы?*

# План

## путешествия




1. Географическое положение
2. Природа материка
3. Население



Евразия



# *Работаем с учебником*



**Географическое положение.** *Евразия* — самый большой материк нашей планеты (рис. 62). Его площадь без островов составляет около 54 млн км<sup>2</sup>, что составляет  $\frac{1}{3}$  от площади всей суши.

Чем же он интересен? Ну, во-первых, на нём расположена наша страна. Так что, где бы вы сейчас ни находились на территории нашей страны, вы можете выглянуть в окно и увидеть маленький кусочек Евразии.

Этот материк так огромен, что включил в себя две части света — *Европу* и *Азию*. Граница между Европой и Азией проходит по Уральским горам и Кавказу. Европа занимает западную часть материка, а Азия — восточную. Евразию омывают четыре океана: Атлантический, Тихий, Индийский и Северный Ледовитый. Евразия — единственный материк, берега которого омывают все четыре океана. На юго-западе материк соединяется с Африкой Суэцким перешейком. Перешейком называется узкая полоска, соединяющая два участка суши. На Земле всего два перешейка, которые соединяют материки. Один из них — Суэцкий. Второй вы можете попробовать найти на карте самостоятельно.

Хотя Суэцкий перешеек связывает Евразию с Африкой, перейти с материка на материк пешком не так легко. Дело в том, что через перешеек прорыт канал.

#### Давайте запомним

Евразия самый крупный по площади материк. Он состоит из двух частей света: Европы и Азии — и омывается водами четырёх океанов Земли.



# Географическое

## положение



1. Евразия – самый большой материк.
2. Площадь без островов 54 млн.кв.км.
3. Это составляет 1/3 площади суши.
4. Включает в себя две части света – Европу и Азию.
5. Омывается водами четырех океанов.
6. На юго-западе соединяется с Африкой Суэцким перешейком.
7. В Евразии расположена Россия

# Давайте



Россия самый крупный материк по площади

Он состоит из двух частей света: Европы и





*Работаем в рабочей тетради*






**1. Площадь материка Евразия составляет**

- а) 9 млн км<sup>2</sup>
- б) 30 млн км<sup>2</sup>
- в) 54 млн км<sup>2</sup>

**2. Граница между Европой и Азией проходит по горам**

- а) Гималаям
- б) Уральским
- в) Альпам

# *Работаем с учебником*



**Природа материка (рис. 63).** Большую часть Европы занимают равнины. Самая большая равнина здесь — *Восточно-Европейская*, или

Русская. Горы в Европе не очень высоки, они редко превышают высоту 3000 м. Самые высокие находятся в центре Европы — это *Альпы*. Высота наивысшей точки Альп (*гора Монблан*) составляет 4807 м.

Большинство рек Европы в среднем и нижнем течениях широкие и полноводные. Самые крупные из них *Волга, Дунай, Рейн*.

Озёрами особенно богат север Европы. Здесь расположено несколько тысяч озёр. Большинство из них невелики, но есть и крупные, например *Ладожское* и *Онежское*.

Самыми крупными равнинами Азии являются Западно-Сибирская равнина и Среднесибирское плоскогорье.

Реки Азии очень разнообразны. Это и быстрые горные речки, и величавые реки низменностей, несущие свои воды к океанам. Реки пустынь теряются в песках, их русла наполняются водой только в период дождей. В Азии много крупных рек. Это *Инд* и *Ганг*, впадающие в Индийский океан; *Амур, Янцзы* и *Хуанхэ* — в Тихий океан; *Обь, Енисей* и *Лена* — в Северный Ледовитый океан.


В Азии находится самое большое озеро нашей планеты — *Каспийское море*, его площадь составляет около 396 тыс. км<sup>2</sup>. Здесь же, в Азии, находится жемчужина нашей страны — *озеро Байкал* — самое глубокое озеро в мире. Его глубина составляет 1638 м.

В Азии находятся высочайшие горы Земли — *Гималаи*, с высочайшей вершиной *горой Эверест (8848 м)*.

Гигантские размеры континента, окружающие его моря и океаны, разнообразный рельеф материка привели к тому, что в различных его частях сформировались разнообразные природные условия.

В российском *посёлке Оймякон* находится полюс холода Евразии и всего Северного полушария. Это значит, что нигде в Евразии не бывает холоднее, чем здесь. Ещё бы! Ведь зимой температура здесь опускается до  $-71^{\circ}\text{C}$ . В Евразии находится одно из самых влажных мест на Земле. В Индии в *городе Черапунджи* выпадает около 12 тысяч миллиметров осадков в год.

На территории Евразии встречаются *все природные зоны* нашей планеты: от ледяных (арктических) пустынь на севере до влажных экваториальных лесов на юге. Растительный и животный мир этого материка очень богат (*рис. 64*).

The background of the slide is a stylized map of Eurasia, rendered in shades of green and white. The map is composed of several overlapping, semi-transparent layers, creating a sense of depth and movement. The colors are vibrant and natural, suggesting a focus on environmental or geographical themes.

Богат материк и полезными ископаемыми. У берегов *Северного моря*, на *Аравийском полуострове*, на территории Западно-Сибирской равнины добывают нефть и газ. Очень много на материке крупных месторождений каменного угля. В Евразии ведётся добыча руд железа и руд других металлов — марганца, олова, золота, серебра, урана, а также драгоценных камней.

### Давайте запомним

Природа Евразии разнообразна из-за большой площади материка. В Евразии расположена высочайшая вершина мира — гора Эверест, самое крупное по площади озеро мира — Каспийское, самое глубокое озеро мира — Байкал, самое влажное место на Земле — Черапунджи.

*Работаем в рабочей тетради*



- 3. Самой большой по площади равниной на материке является**
- а) Восточно-Европейская**
  - б) Великая Китайская**
  - в) Западно-Сибирская**
- 4. Самая высокая точка материка гора Джомолунгма (Эверест) имеет высоту**
- а) 4807 м**
  - б) 5642 м**
  - в) 8848 м**
- 5. Наибольшее количество озёр материка сосредоточено на**
- а) севере**
  - б) юге**
  - в) востоке**



**6. На территории Западной Сибири, Аравийского полуострова и побережье Северного моря добывается**

- а) каменный уголь
- б) золото и серебро
- в) нефть

**7. Разнообразие природы материка объясняется**

- а) наличием высоких гор и крупных равнин
- б) большими размерами материка
- в) прохождением линии экватора в центральной его части

8. Выберите верные утверждения, характеризующие материк Евразия.

- а) Евразия включает в себя две части света
- б) материк омывается водами всех океанов Земли
- в) Евразия связана сухопутным перешейком с Северной Америкой
- г) Евразия — самый жаркий материк
- д) здесь находятся самые высокие в мире горы
- е) материк занимает 2-е место в мире по численности населения
- ж) на материке расположено самое крупное по площади государство мира

Ответ запишите в виде последовательности букв в алфавитном порядке.




# Природа материка Европ а


Самые крупные  
реки Волга,  
Дунай, Рейн



Восточно-Европейская равнина



Волг  
а



Горы  
Альпы

Озерами богат север Европы. Здесь находится несколько тысяч озер. Самые крупные Ладожское и Онежское



Онежское  
озеро



# Природа

Ази

ика



Западно-Сибирская



Средне-Сибирское  
плато



Гималаи г.







# Природа материка

# Ази

Я  
Байкал. Фото из  
космоса



Озеро  
Байкал



Каспийское  
море



Каспийское  
море





# Природа

# Ази

Река  
Инд



Река  
Енисей



Река  
Хуанхэ



# Животный мир

## Евразии





# Природные рекордсмены

Самая высокая точка – гора Эверест в Гималаях (8848 м)

Самая низкая – Мертвое море (- 405 м)

Самое глубокое озеро – Байкал (1642 м)

Самое большое по площади озеро – Каспийское море

Самое холодное место в северном полушарии – пос. Оймякон (- 71<sup>®</sup>) Полюс холода

Самое влажное место на земле – город Черапунджи (12 тыс. мм осадков в год)

Самый большой полуостров - Аравийский



*Работаем в рабочей тетради*



**С помощью текста учебника, карт атласа и дополнительных источников составьте таблицу «Рекордсмены Евразии».**

| <b>Характеристика</b>                       | <b>Название объекта</b> | <b>Числовое значение</b> |
|---|-------------------------|--------------------------|
| <b>Самые высокие горы</b>                   |                         |                          |
| <b>Самая большая по площади равнина</b>     |                         |                          |
| <b>Самое большое по площади озеро</b>       |                         |                          |
| <b>Самое глубокое озеро</b>                 |                         |                          |
| <b>Самое холодное место</b>                 |                         |                          |
| <b>Самое влажное место</b>                  |                         |                          |
| <b>Самое большое по площади государство</b> |                         |                          |
| <b>Самое многонаселённое государство</b>    |                         |                          |

**Давайте  
запомним!**

*Природа Евразии разнообразна из-за большой площади*

Карта мира



*Работаем в рабочей тетради*



**9. Установите соответствие между частью света и географическим объектом, расположенным в её пределах.**

**ЧАСТЬ СВЕТА**


- 1) Европа
- 2) Азия

**ГЕОГРАФИЧЕСКИЙ ОБЪЕКТ**

- а) озеро Байкал
- б) горы Альпы
- в) Ладожское озеро
- г) горы Гималаи
- д) река Волга
- е) река Амур
- ж) Аравийский полуостров
- з) Восточно-Европейская равнина
- и) река Дунай
- к) река Ганг

Для каждой позиции из первого списка выберите варианты ответа из второго списка, запишите их в алфавитном порядке.

# *Работаем с учебником*



**Население.** Евразию населяют многочисленные народы (рис. 65). Многие из них имеют древнюю культуру и историю. Численность населения Евразии составляет около 4,8 млрд человек — это более 60% населения земного шара.

На территории Евразии расположены многочисленные государства. Самые крупные по площади из них — *Россия, Китай, Индия*. А по численности населения — Китай, Индия.

#### Давайте запомним

Население Евразии многочисленно и разнообразно. Самым большим по площади государством Евразии и мира является Россия. Крупнейшим по численности населения государством Евразии и мира — Китай.

# Население

Евразию населяют многочисленные народы.  
Численность населения составляет 4.8 млрд. человек – это более

60 % населения земного шара

Самые крупные государства –  
Россия, Китай,  
Индия







Жители

России



Жители



Жители

Индии

*Работаем в рабочей тетради*



## 10. Дополните предложения.

Численность населения Евразии составляет около \_\_\_\_\_ млрд человек — это более \_\_\_\_\_ % населения земного шара.

На территории Евразии расположены многочисленные государства.

Самые крупные по площади из них — \_\_\_\_\_,

\_\_\_\_\_.

А по численности населения — \_\_\_\_\_,

\_\_\_\_\_.

# *Работаем с картой*



*Поиграем...*

<https://online.seterra.com/ru/vgp/3375>

[http://www.games-flash-online.com/game/13522/naydi\\_vse\\_strany\\_mira.html](http://www.games-flash-online.com/game/13522/naydi_vse_strany_mira.html)

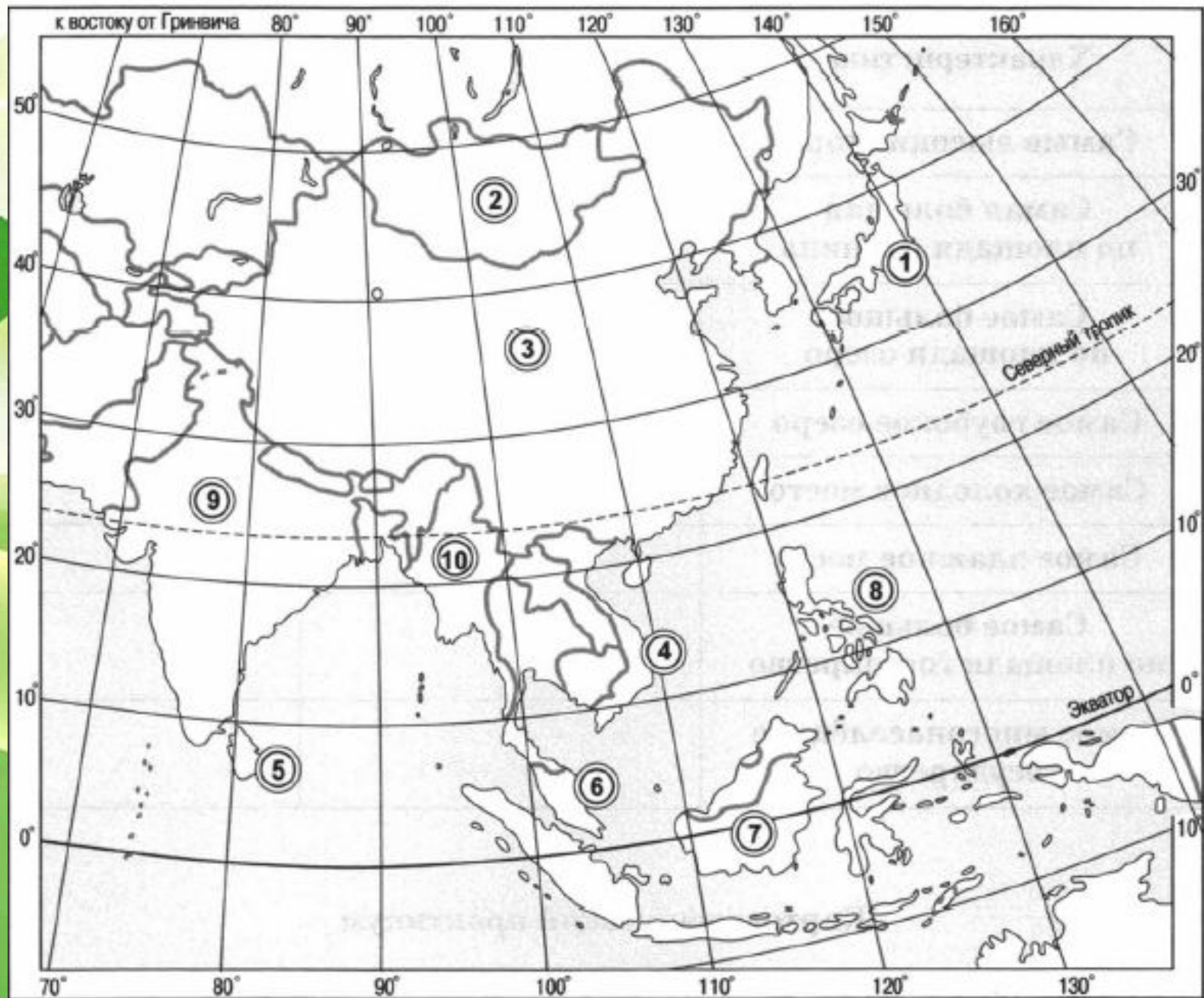
[http://www.games-flash-online.com/game/3253/test\\_karta\\_evropy.html](http://www.games-flash-online.com/game/3253/test_karta_evropy.html)

[http://www.games-flash-online.com/game/7272/evropa\\_pazl.html](http://www.games-flash-online.com/game/7272/evropa_pazl.html)

**1. С помощью политической карты мира (атлас, с. 30—31) нанесите на контурную карту государства, указанные цифрами. Занесите в таблицу названия обозначенных государств и их столицы.**

**Алгоритм выполнения задания:**

- 1) найдите на политической карте мира данное государство;
- 2) проведите границы государства на контурной карте (границы всех государств обозначаются линией одинаковой толщины и цвета);
- 3) нанесите фоновую окраску, обозначив территорию данного государства (цветовое решение выбирается из расчёта несовпадения цветов у соседних государств);
- 4) подпишите название государства (названия всех государств подписываются одинаковым шрифтом и цветом).



| <b>№<br/>п/п</b> | <b>Государство</b> | <b>Столица</b> |
|------------------|--------------------|----------------|
| 1                |                    |                |
| 2                |                    |                |
| 3                |                    |                |
| 4                |                    |                |
| 5                |                    |                |
| 6                |                    |                |
| 7                |                    |                |
| 8                |                    |                |
| 9                |                    |                |
| 10               |                    |                |

**2. Используя политическую карту мира (атлас, с. 30—31), заполните таблицы, вписав в них названия государств и их столицы.**

**Таблица 1. Островные государства Евразии**

| <b>№<br/>п/п</b> | <b>Государство</b> | <b>Столица</b> |
|------------------|--------------------|----------------|
| 1                |                    |                |
| 2                |                    |                |
| 3                |                    |                |
| 4                |                    |                |
| 5                |                    |                |
| 6                |                    |                |
| 7                |                    |                |
| 8                |                    |                |
| 9                |                    |                |
| 10               |                    |                |





## Повторим главное

1. Евразия – самый большой материк на Земле.
2. Евразию делят на две части: западную – Европу и восточную – Азию.



# Домашнее задание



- § 21
- Тетрадь-практикум § 21, стр. 81 - 86