


Вопрос — укажите точное количество человеческих лиц, нарисованных на картинке.

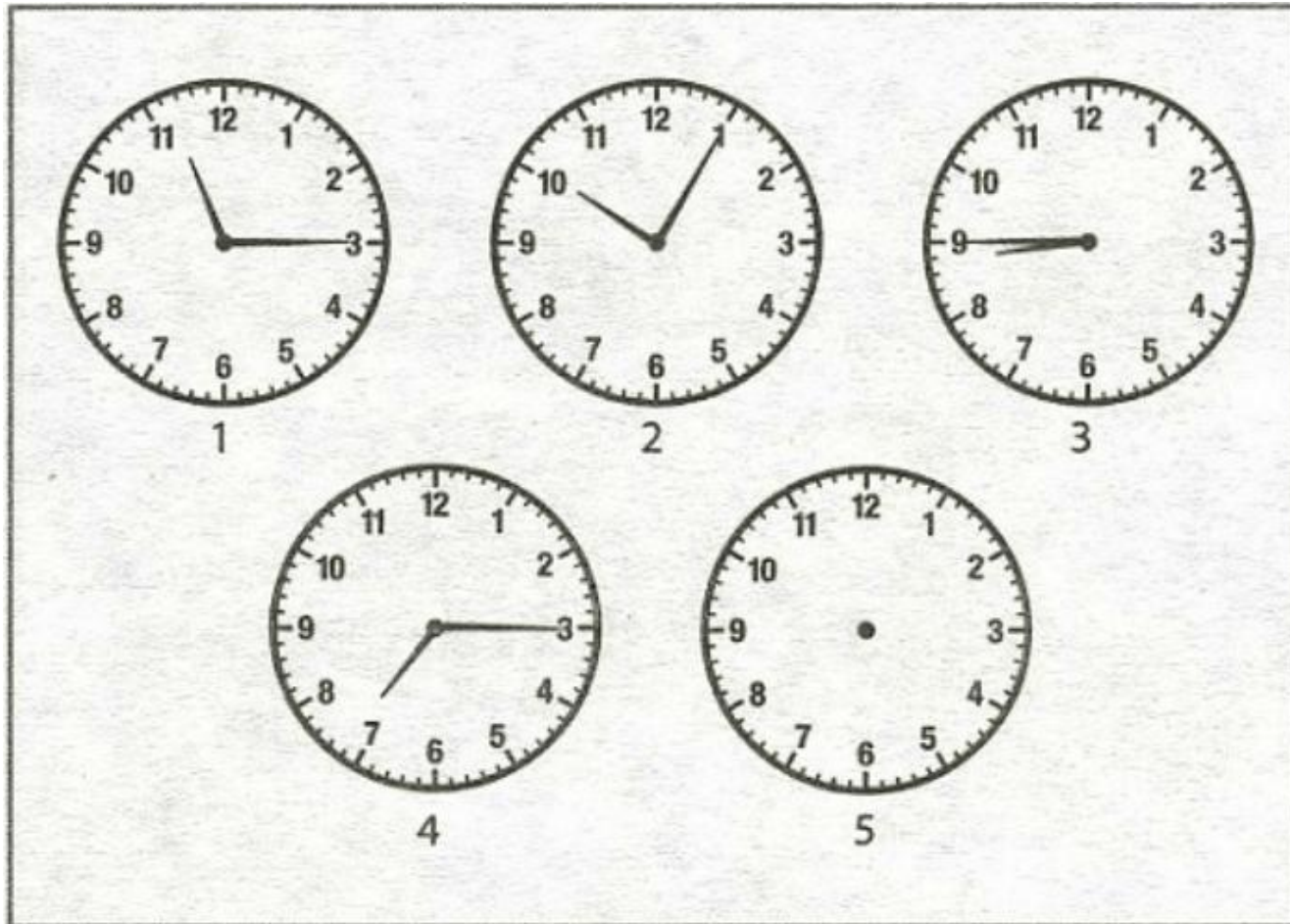




	19.30	13.00	16.30	19.00	20.30	15.00
12.00	22.00	17.30	15.30	21.00	13.30	22.30
		23.30	14.00	21.30	18.30	
23.00	14.30	20.00	16.00	12.30	18.00	17.00

Замени время на буквы и узнай слова.

На всех часах, изображенных на картинке, имеется определенная последовательность. Ребенок должен прорисовать стрелки на часах №5 таким образом, чтобы ее не нарушить.





Проверьте мышление ребёнка на вариативность! Составьте слова из слогов на картинке за 3 минуты! Больше 15 слов - хороший результат!

$$\text{Cat} + \text{Rabbit} + \text{Wolf} = 100$$

$$4 \times \text{Cat} + \text{Rabbit} + \frac{1}{4} \times \text{Wolf} = 100$$

$$\text{Cat} = ? \quad \text{Rabbit} = ? \quad \text{Wolf} = ?$$

Ответ должен быть в целых положительных
числах

Все буквы перепутались. Что же написано
здесь, о чём идёт речь?

ЁЛШ РААБН
ОП МЫТУРК МАГОР,
ЛАВРЫВ КУВРАТ,
ЖИЛОПОЛ АН КУЛАВ,
ТОК ЁЕ МЁЗЬВОТ –
ОТТ И НОВ ДОЙТЁП.



Отгадайте слово. Начните с красной буквы, а каждую последующую букву возьмите с карточки, на которой найдёте такой же предмет, как на предыдущей.


Д



Т



О



Р



К




О




Составитель и художник Валентина Черняева

Задачи со спичками

- Переложите 3 спички, чтобы стрела поменяла своё направление на противоположное.



Как из 8 спичек сложить 3 квадрата.
Спички ломать нельзя.



Надеюсь вы справились правильно со всеми заданиями.

А проверить себя вы сможете чуть позже.

