

Математика

Сьогодні
11.05.2022

Урок
№ 11




**Число і цифра 2.
Поняття «другий». Пряма,
промінь, відрізок. Написання
цифри 2**

**Доброго
ранку, сонце
привітне!
Доброго
ранку, небо
блакитне!**



**Доброго ранку,
в небі
краплинка!
Доброго ранку,
тобі хмаринко!**





❖ Яка кількість...?



Зайчиків

Хмаринок

Пташок



Все життя *один*
одного
обганяють,
а випередити
не можуть.

Ноги





Один пастух
Тисячі овець
пасе.

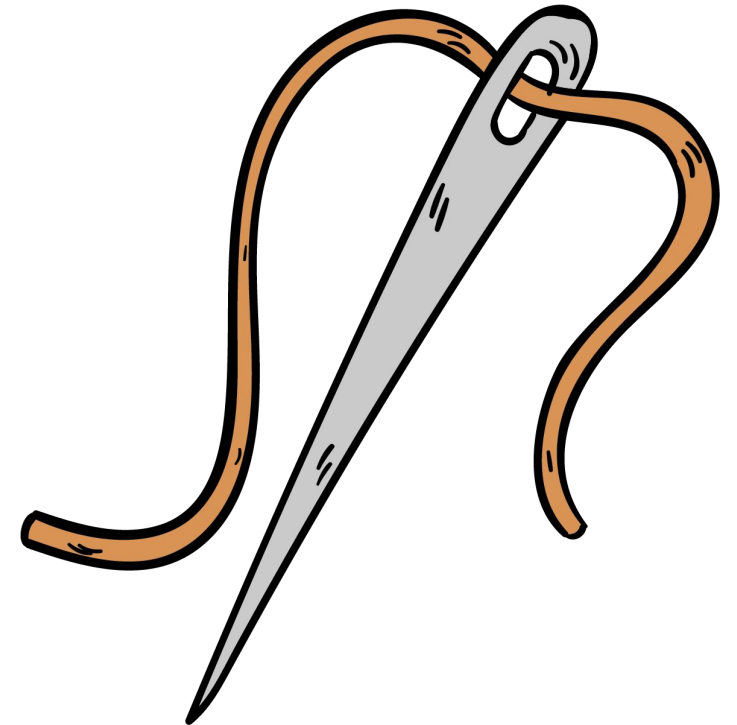
Місяць, зорі





Тоненька,
гостренька,
з *одним* оком.

Голка



Сьогодні
11.05.2022

Мотивація навчальної діяльності. Робота з ілюстраціями

Кожен у світі хоче мати друзів. Коли у вас є гарний, вірний друг, то з ним можна гори звернути.



Як ви розумієте зміст цих
прислів'їв?



*Друга у скруті
пізнають.*

*Скарб – не друг, а друг –
скарб.*

*Один старий друг краще нових
двох.*



- Сьогодні цифра розкаже про вас і ваших друзів, адже будемо вивчати **число** та цифру 2.
- А також, продовжимо вивчати геометричні фігури.

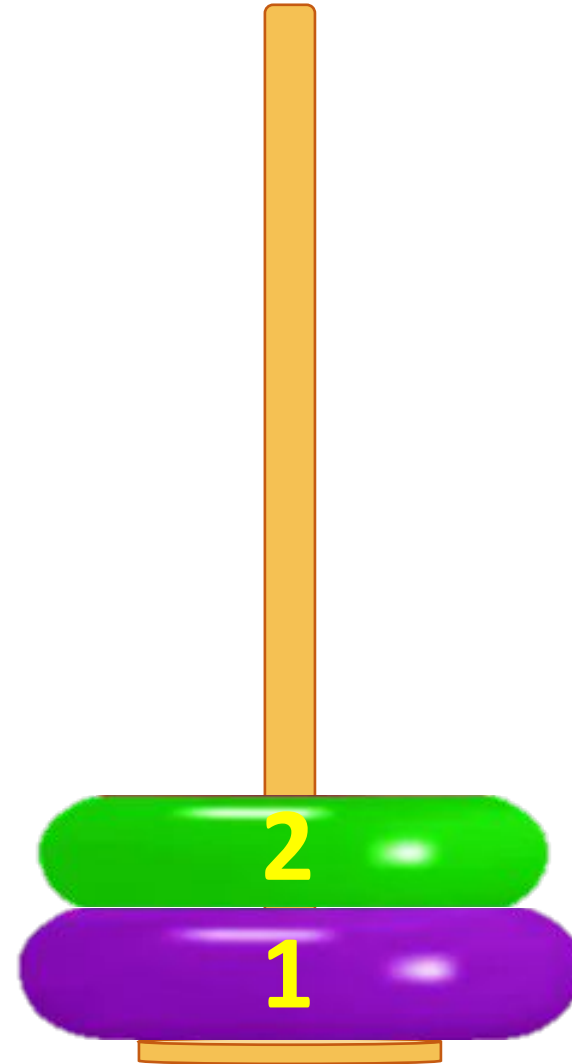


Що зображено на кожному малюнку?





Скільки кілець у
пірамідці?




Чого на малюнку є по 2?



The whiteboard displays a collection of pastries and a number. From left to right: a single croissant; a group of two pink-frosted cupcakes; a group of two donuts (one purple, one chocolate); a group of two heart-shaped cookies; a single cinnamon roll; and a group of two swirl pastries. To the right of the pastries, the number '2' is written in black on a blue grid, with a curved arrow indicating the stroke direction.




**Поглянь: і каченя, і
двійка
Так спритно вигинають
шийки.**



**Спішать купатися до
річки,
Напитись чистої
водички.**



Який
автомобіль їде
другим?

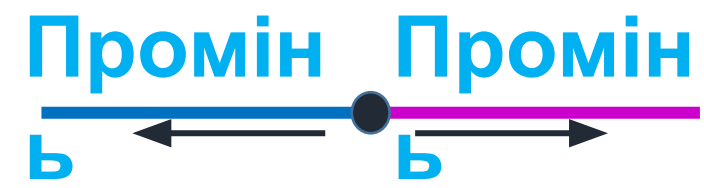


- Розглянь геометричні фігури.

Запам'ятай
назви фігур.




Точка
а •





Пряма лінія не має ні початку, ні кінця.



**точка лежить
на прямій**

**точка не
лежить на
прямій**



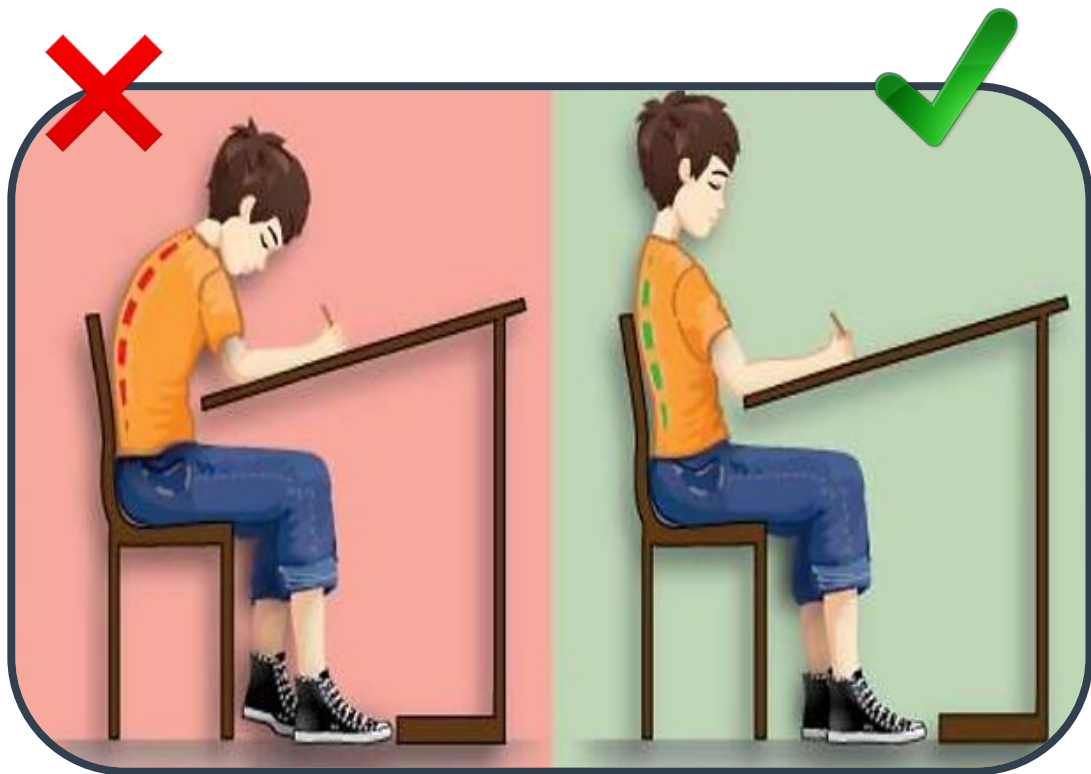
- ***Промінь*** — це частина прямої, яка має початок і не має кінця.



- ***Відрізок*** — це частина прямої, яка має два кінці.

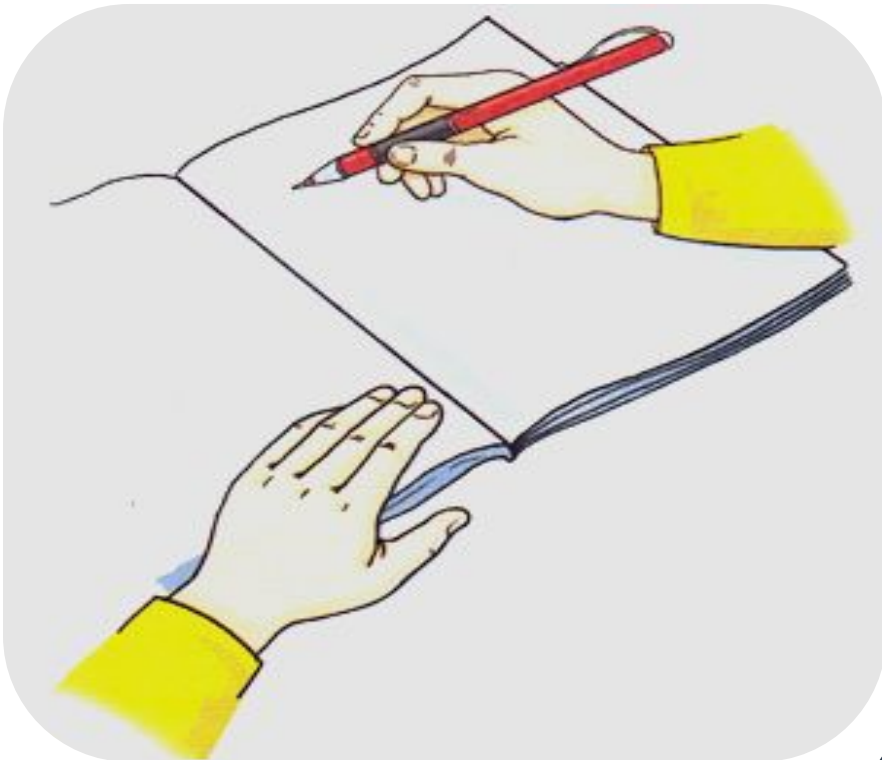


Як ви повинні сидіти за партою?



- ✓ Ноги повинні стояти повною ступнею на підлозі.
- ✓ Спина рівна.
- ✓ Голова нахилена вниз так, аби бачити, що позначено у зошиті.
- ✓ Лікті – на парті так, аби не звисали.
- ✓ Між партою і грудьми має бути відстань на ширину долоні.

Як потрібно, щоб лежав зошит? Як слід тримати олівця?



- ✓ Зошит має лежати навкосо.
- ✓ Олівець тримаємо тільки трьома пальцями – великим, вказівним і середнім.
- ✓ Олівець більше спирається на середній палець, ми тримаємо його великим і зверху вказівним пальцем.
- ✓ Усі три пальці знаходяться на відстані 2 см від кінця олівця.

Сьогодні
11.05.2022


**Робота у зошиті
(сторінка 10).**



- Зафарбуй ті чашки, на яких зображено 2 кружечки.




Методика написання цифри «2»

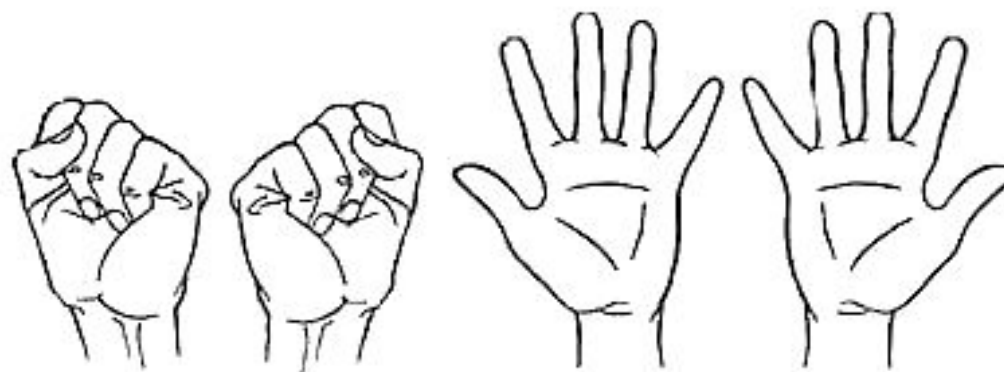


Каліграфічна хвилинка

- Напиши за зразком.




2	2	2	2	2	2	2	2	2	2	2
2	2	2	2	2	2	2	2	2	2	2
2	2	2	2	2	2	2	2	2	2	2




5-6 разів


- Скільки ананасів на малюнку? Скільки лимонів?
- Обведи відповідне число.
- Намалюй 2 яблука.



1 2 3



1 2 3



Робота у зошиті

- Постав позначку ✓ біля кожної монети вартістю 2 грн.





РУХЛИВА

ВПРАВА





Одна рябенька курочка дзьобала зернята,
Аж тут з'явилась **друга**, щоб їй допомагати.



«Була одна рябенька.
А зараз скільки стало?»
—
Курочки у діток хором запитали.



- $1 + 1 = 2$.
- Курочок стало на одну більше,
або стільки ж та ще одна.
- 2 більше, ніж 1.


Сьогодні
11.05.2022

(щоби відкрити інтерактивне завдання, натисніть на помаранчевий прямокутник)

**Відкрити онлайнове
інтерактивне завдання**

Сьогодні
11.05.2022


Робота з конструктором «LEGO»



Два кільця, два кінця, а посередині – цвях.

Яке число допомогло
вам відгадати загадку?

Що було
найцікавішим?



Чого навчилися на
уроці?

Що виявилось
складним?