


ЗАНИМАТЕЛЬНАЯ ГЕОМЕТРИЯ



СОДЕРЖАНИЕ

1. Обозначение точки.
2. Прямая линия.
3. Введение правила.
4. Закрепление правила.



Точка.


• А К



Точка обозначается большими латинскими буквами.



Найди прямую линию.



? ПОДУМАЙ!

Сколько прямых линий можно провести
через две точки ?

А ●

Р ●



ЧЕРЕЗ *ДВЕ ТОЧКИ* МОЖНО ПРОВЕСТИ ТОЛЬКО
ОДНУ ПРЯМУЮ ЛИНИЮ.

ЗАПОМНИ !



*ПРАВИЛЬНО ЛИ ПРОВЕДЕНЫ ПРЯМЫЕ ЛИНИИ
ЧЕРЕЗ ДВЕ ТОЧКИ?*

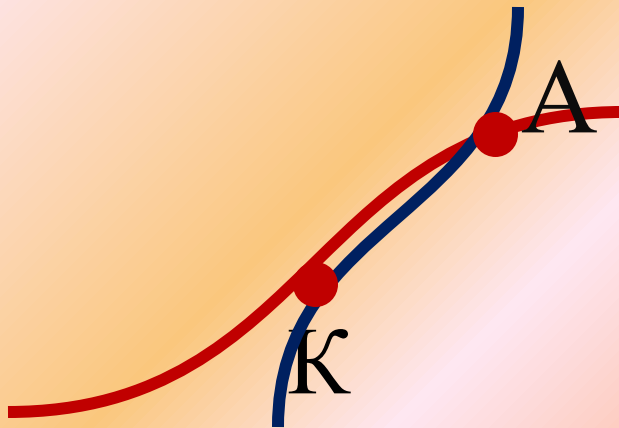


Да

Нет



*ПРАВИЛЬНО ЛИ ПРОВЕДЕНЫ ТЕПЕРЬ ПРЯМЫЕ
ЛИНИИ ЧЕРЕЗ ДВЕ ТОЧКИ?*



Нет

Да






МОЛОДЦЫ!

5



УМНИЦА!



ПОДУМАЙ ЕЩЁ!



ДА



HET



ДО ВСТРЕЧИ НА УРОКАХ ГЕОМЕТРИИ.

П

О

К

А

