

Население России

Размещение населения

Теория

Практик
ум

Тесты

Вопрос
ы

Задани
я

Навигация



Особенности
размещения
населения

Плотность населения

Причины,
определяющие
плотность населения

Размещение
населения

Основные зоны
расселения



Особенности размещения населения

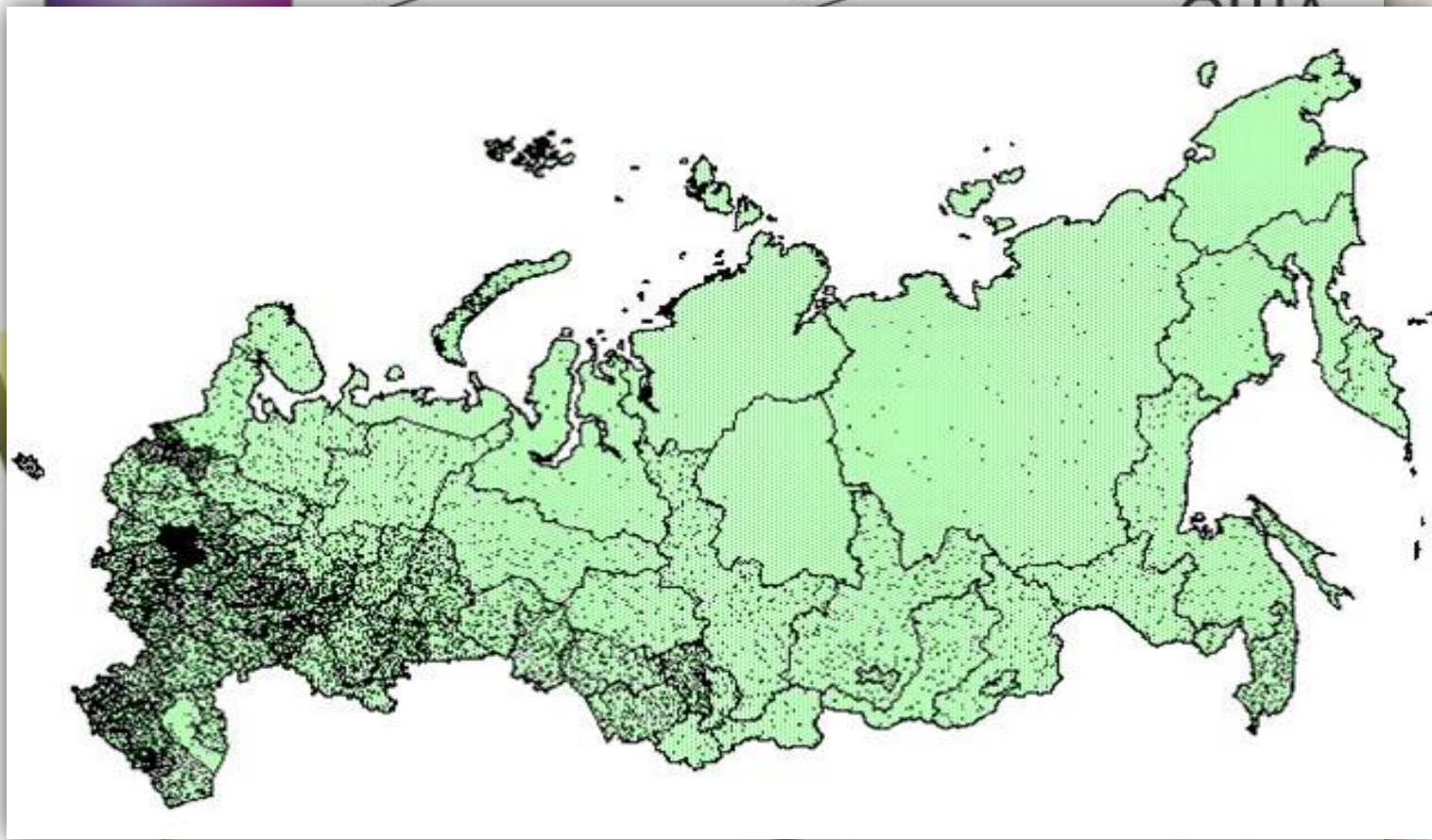
Территория
постепенно
Размер
период



Китай

Бразилия

США



• Россия

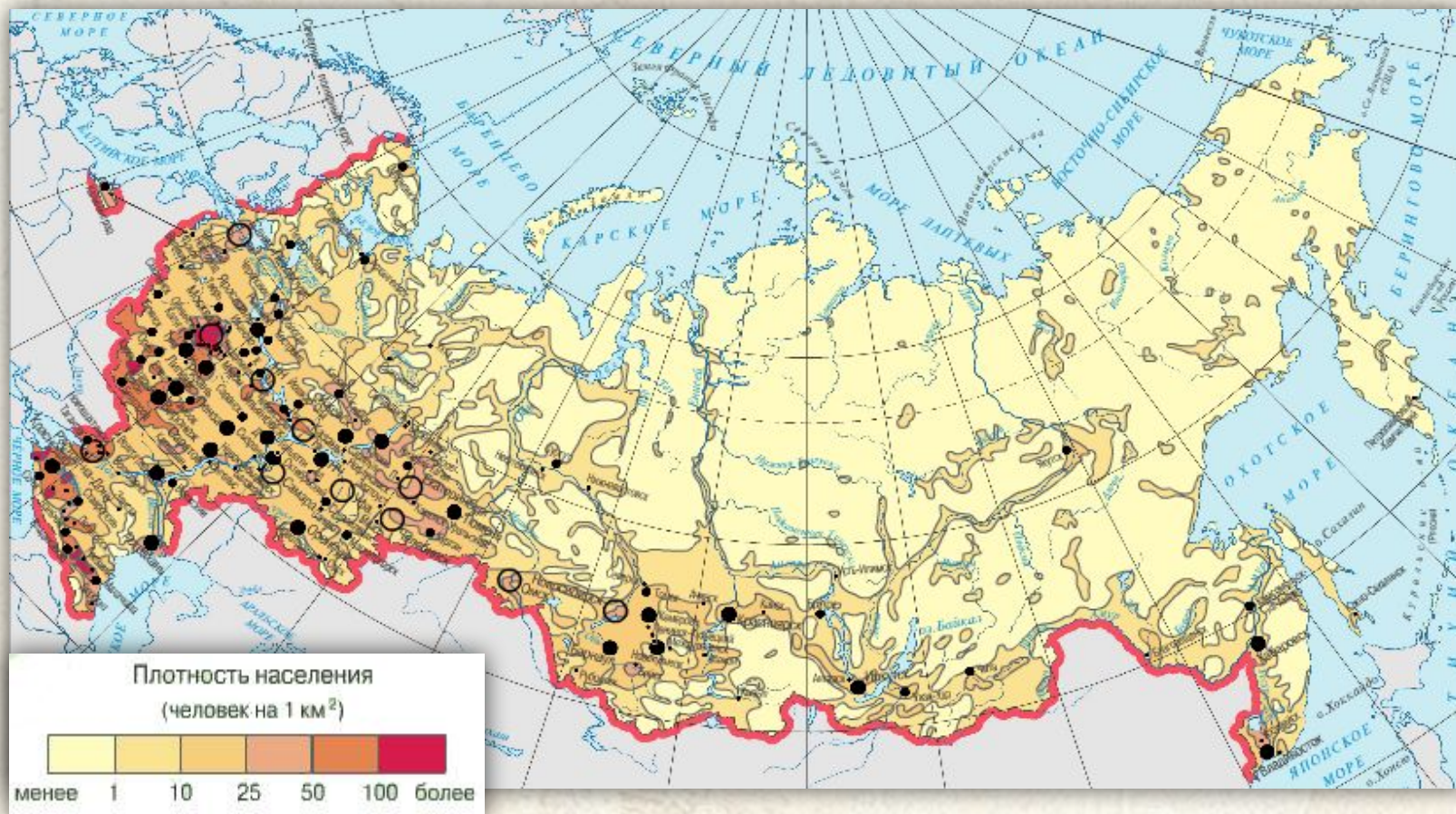
• Германия

• Неравномерное
запад



Плотность населения

Показателем, характеризующим степень заселённости определённой территории является плотность населения.



Плотность населения — количество, проживающего населения на единице площади (чел/км²).




Определение плотности населения (количество человек на км²)

Формула

$$\text{Плотность населения} = \frac{N}{S} \text{ чел/км}^2$$

Карта

Плотность населения от 2 до 5 чел/км²



Плотность населения России
142,9 млн. чел : 17,1 млн. км²
=8,4 чел/км²





Размещение населения

Население преимущественно (94%) сосредоточено в западной и южной части страны. В Центральной России и на северо-западе, на площади всего 4% сосредоточена 1/4 часть населения России.

Густонаселенные
регионы Центральной
России-100 чел/ км²



Зоны расселения населения

На двух третях площади страны проживает менее 10 миллионов человек. Главным образом это районы Крайнего Севера и приравненные к нему.



Крупнейшие города

Средняя
плотность
0,9 чел/км²

Очаговое
расселение



Средняя
плотность
50 чел/км²

Главная
полоса
расселения



Тест по теме «Размещение населения

Россия

1. В каком интервале находится показатель средней плотности населения России (чел/км²):
А. 1-5 Б. 6-10
В. 11-15 Г. 16-20
2. Какой город расположен за пределами главной полосы расселения?
А. Мурманск Б. Новосибирск
В. Самара Г. Москва
3. В каком регионе плотность населения выше?
А. Красноярский край Б. Якутия
В. Республика Карелия Г. Краснодарский край
4. В республике Дагестан численность населения 2602 тыс. чел., территория 50 тыс.км². Выберите плотность населения:
А. 60 чел/км² Б. 32 чел/км² В. 52 чел/км² Г. 48
5. Какое количество населения России проживает в главной полосе расселения ?
А. 60% Б. 99% В. 93% Г. 73%



1. В каком интервале находится показатель средней плотности населения России (чел/км²):

- А. 1-5 **Б. 6-10**
В. 11-15 Г. 16-20

2. Какой город расположен за пределами главной полосы расселения?

- А. Мурманск** Б. Новосибирск
В. Самара Г. Москва

3. В каком регионе плотность населения выше?

- А. Красноярский край Б. Якутия
В. Республика Карелия **Г. Краснодарский край**

4. В республике Дагестан численность населения 2602 тыс. чел., территория 50 тыс.км². Выберите плотность населения:

- А. 60 чел/км² Б. 32 чел/км² **В. 52 чел/км²** Г. 48

5. Какое количество населения России проживает в главной полосе расселения ?

- А. 60% Б. 99% **В. 93%** Г. 73%



Вопросы по теме «Размещение населения России»

1

Показателем, характеризующим степень заселённости определённой территории является плотность населения.

2 Наз
тер

Плотность населения показывает количество, проживающего населения на единице площади (км²).

•Что

3 как

8,5 чел/км².

•Наз

4 Наз

Причины: природные, экономические, социальные и исторические.

5

Главная полоса расселения и зона очагового расселения.

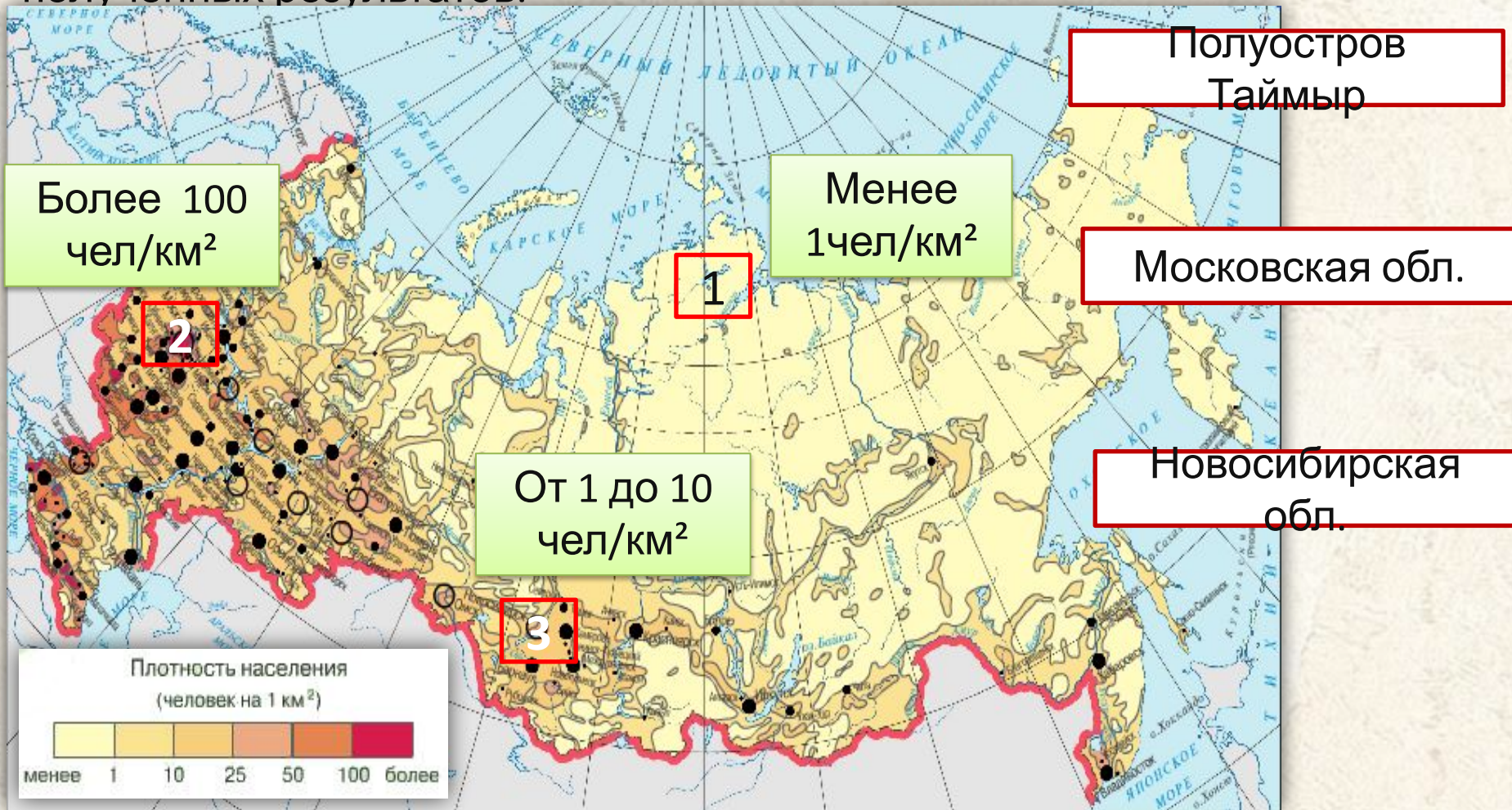


Задания по теме «Размещение населения

Задание 1. Используя статистические данные, определить плотность населения.

Название региона	Население, тыс. чел.	Площадь, тыс. км ²	Плотность населения, чел/ км ²
Россия	147976	17075	8.7
Северный район	5889	1466	4.0
Северо-Западный район	8052	211	41.0
Центральный район	29883	265	61.9
Поволжский район	16920	355	31.5
Северо - Кавказский район	17738	824	21,5
Уральский район	20461	2427	24.8
Западно - Сибирский район	15128	4123	6.2
Восточно - Сибирский район	9144	4123	2.2
Дальневосточный район	7505	6216	1,2
Ленинградская область	Проверка	114	23.7

Задание 2. Используя карту «Плотность населения» определить плотность населения. Какие выводы можно сделать на основе полученных результатов.



Практикум по теме «Размещение населения России»

Задание 1.

1. Пользуясь картой плотность населения, проведите на контурной карте северную границу Главной полосы расселения.
2. Отметьте наиболее крупные города, расположенные за пределами Главной полосы расселения.



ЕГЭ и ГИА

А 1. Какой из перечисленных городов расположен за пределами основной полосы расселения?

- А. Архангельск Б. Краснодар В. Владивосток Г.

А 2. В каком из перечисленных экономических районов России средняя плотность наименьшая?

- А. Северный Б. Дальневосточный
В. Уральский Г. Западно – Сибирский

А 3. В каком из перечисленных экономических районов России средняя плотность наибольшая?


- А. Северо – Западный Б. Поволжский
В. Уральский Г. Центральный

А 4. В каком из перечисленных регионов России расположен на территории главной полосы расселения?

- А. Магаданская обл. Б. Ярославская область
В. Ненецкий национальный округ Г. Республика Якутия



Ответ



В1. Как называется массовое насильственное переселение людей из мест их постоянного проживания?

Ответ

Депортация

В 2. Выберите из перечисленных народов три, подвергшихся депортации в 30-40-е годы XX века.

1. буряты
2. корейцы
3. башкиры
4. немцы
5. якуты
6. балкарцы

Ответ

2,4,6

В3. К какому типу миграции относятся сезонные, маятниковые и нерегулярные миграции?

Ответ

Нерегулярные



С 3. Россия входит в первую десятку стран мира по численности населения. И в то же время ее территорию можно считать слабозаселенной. Обоснуйте эту точку зрения.

Ответ

Средняя плотность населения на территории России составляет 8,5 чел/км² (значительно меньше среднемировой). В Сибири это показатель всего 2,5 чел/км². Большие территории в Восточной Сибири и на Северо – Востоке практически не заселены из-за экстремальных природных условий.



1

В каком из перечисленных регионов России средняя плотность населения наибольшая?

- 1) Приморский край
- 2) Амурская область
- 3) Вологодская область
- 4) Краснодарский край

2

В каком из перечисленных регионов России средняя плотность населения наибольшая?

- 1) Красноярский край
- 2) Республика Коми
- 3) Ростовская область
- 4) Хабаровский край

3

В какой из перечисленных областей средняя плотность населения наименьшая?

- 1) Липецкая
- 2) Нижегородская
- 3) Ульяновская
- 4) Амурская



4

4

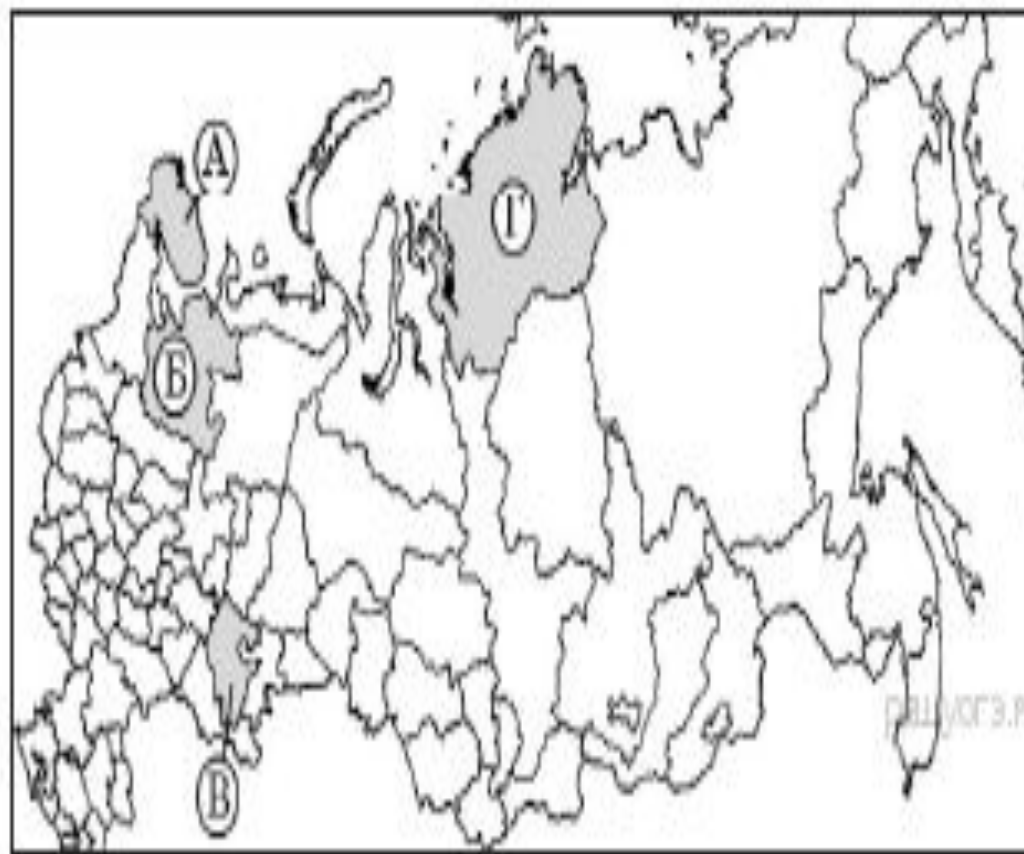
В каком из перечисленных регионов России средняя плотность населения наибольшая?

- 1) Забайкальский край
- 2) Ямало-Ненецкий АО
- 3) Республика Карелия
- 4) Ставропольский край



5

Какой из регионов, обозначенных буквами на карте России, имеет наибольшую среднюю плотность населения?

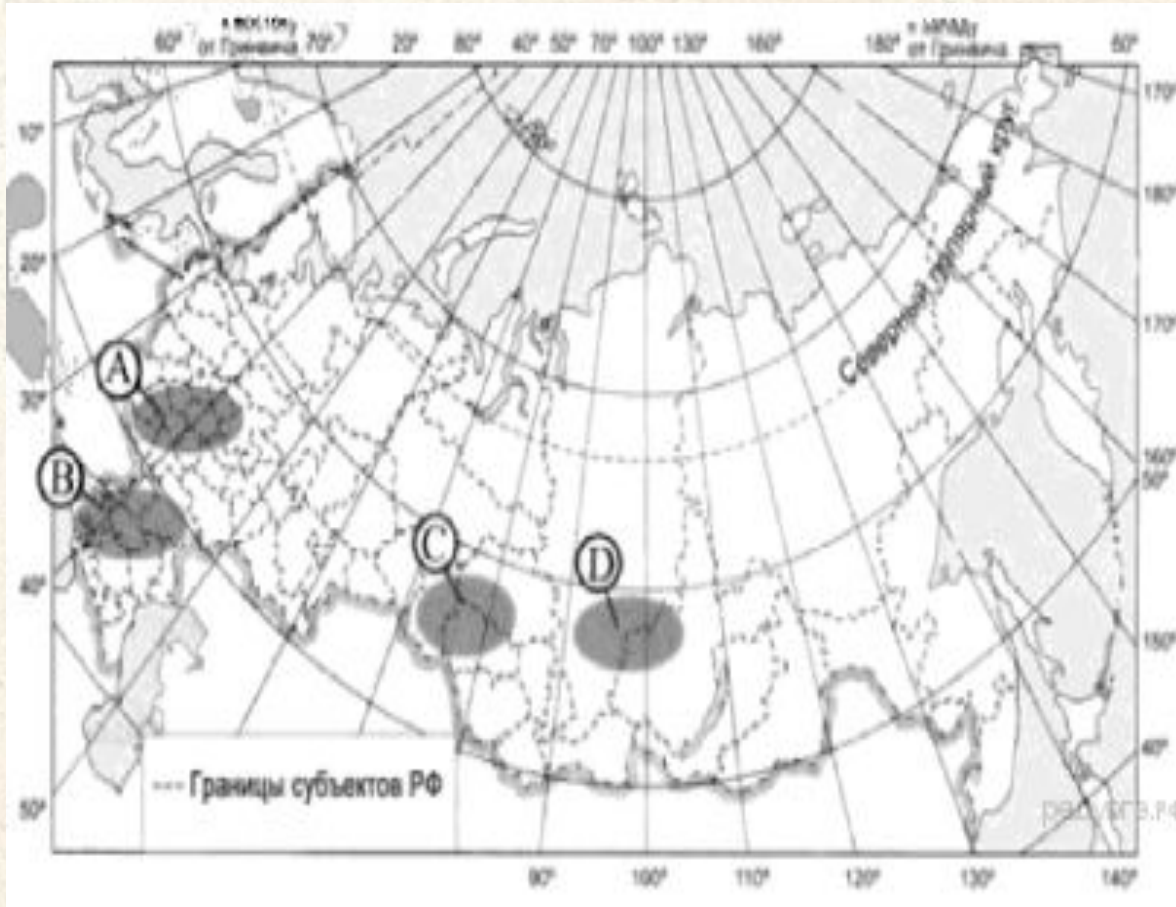


- 1) А
- 2) Б
- 3) В
- 4) Г



6

Какая из территорий, обозначенных буквами на карте России, имеет наименьшую среднюю плотность населения?



- 1) A
- 2) B
- 3) C
- 4) D



Навигация



Карта



Иллюстрация



Диаграмма



Текст



Таблица



Ресурсы



Далее



Назад



Выход

Скрытая информация



Ресурсы

- <http://www.ljplus.ru/img4/a/v/avreli/2.jpg> карта плотность населения
- [http://upload.wikimedia.org/wikipedia/commons/thumb/6/6d/Federal_subjects_of_Russia_by_population_density_31.01.2010.svg/800px-Federal subjects of Russia by population dencity 31.01.2010.svg.png](http://upload.wikimedia.org/wikipedia/commons/thumb/6/6d/Federal_subjects_of_Russia_by_population_density_31.01.2010.svg/800px-Federal_subjects_of_Russia_by_population_density_31.01.2010.svg.png) карта плотность населения
- <http://www.sci.aha.ru/RUS/wadb21.gif> комфортность климата
- [http://www.heinbarbe.be/Afbeeldingen/afbeeldingen%20reizen/fotos%20russia/ruussia_clip_image004.gif](http://www.heinbarbe.be/Afbeeldingen/afbeeldingen%20reizen/fotos%20russia/russia_clip_image004.gif) Транссибирская магистраль

