




16. На основе анализа данных приведенной ниже таблицы укажите страны, в которых в период с 2012 по 2015 г. ежегодно происходило увеличение объемов валового внутреннего продукта. Запишите цифры, под которыми указаны эти страны.

Динамика объемов валового внутреннего продукта
(в сопоставимых ценах; в % к предыдущему году)

	Страна	2012	2013	2014	2015
нет	1) Ирландия	 96,0 —	98,9	100,9	101,5
да	2) Франция	100,2	100,7	 100,2 	101,1
нет	3) Чешская Республика	99,1	99,5	102,0	104,2
да	4) Вьетнам	105,2	105,4	106,0	106,7

Ответ: 24.

Задание 16 № 5867

Какие из следующих выводов о тенденциях изменения объемов производства продукции животноводства, сделанные на основе анализа данных приведенной ниже таблицы, верны? Запишите цифры, под которыми они указаны.

12

Динамика объемов производства продукции животноводства (в % к предыдущему году)

Год	2010	2011	2012	2013
Ярославская область	105,1	102,8	105,3	100,5
Вологодская область	98,1	99,7	98,0	93,0
Чеченская Республика	101,5	100,2	100,0	99,7
Пермский край	104,4	101,0	98,3	96,5

- да 1) В Ярославской области в период с 2010 по 2013 г. ежегодно происходило увеличение объемов производства продукции животноводства.
- да 2) В Вологодской области в период с 2010 по 2013 г. ежегодно происходило сокращение объемов производства продукции животноводства.
- нет 3) В Чеченской Республике в период с 2010 по 2013 г. ежегодно происходило сокращение объемов производства продукции животноводства.
- нет 4) В Пермском крае в период с 2010 по 2013 г. ежегодно происходило сокращение объемов производства продукции животноводства.

Задание 16 № 5874

Какие из выводов о тенденциях изменения объемов производства продукции сельского хозяйства, сделанные на основе анализа данных приведенной ниже таблиц, верны? Запишите цифры, под которыми они указаны.

Динамика объемов производства продукции сельского хозяйства (в % к предыдущему году)

Год	2007	2008	2009
Дания	104	103	101
Литва	113	106	103
Финляндия	99	98	99
Швеция	96	96	97

34



- 1) Объемы производства продукции сельского хозяйства в Дании в период с 2007 по 2009 г. ежегодно уменьшались. **нет**
- 2) Объемы производства продукции сельского хозяйства в Литве в период с 2007 по 2009 г. ежегодно уменьшались. **нет**
- 3) Объемы производства продукции сельского хозяйства в Финляндии в период с 2007 по 2009 г. ежегодно уменьшались. **да**
- 4) Объемы производства продукции сельского хозяйства в Швеции в период с 2007 по 2009 г. ежегодно уменьшались. **да**