

МИРОВОЙ ОКЕАН И ЕГО ЧАСТИ



Северный Ледовитый океан

Северная Америка

Евразия

Атлантический океан

Африка

Тихий океан

Южная Америка

Индийский океан

Австралия

Южный океан


Антарктида

Масштаб 120 000 000

МОРЕ – часть океана, отделенная сушей или
вдающаяся в нее

Моря

Внутренние



Внутриматериков

Межматериковы

Окраинные

Межостровны





Задание

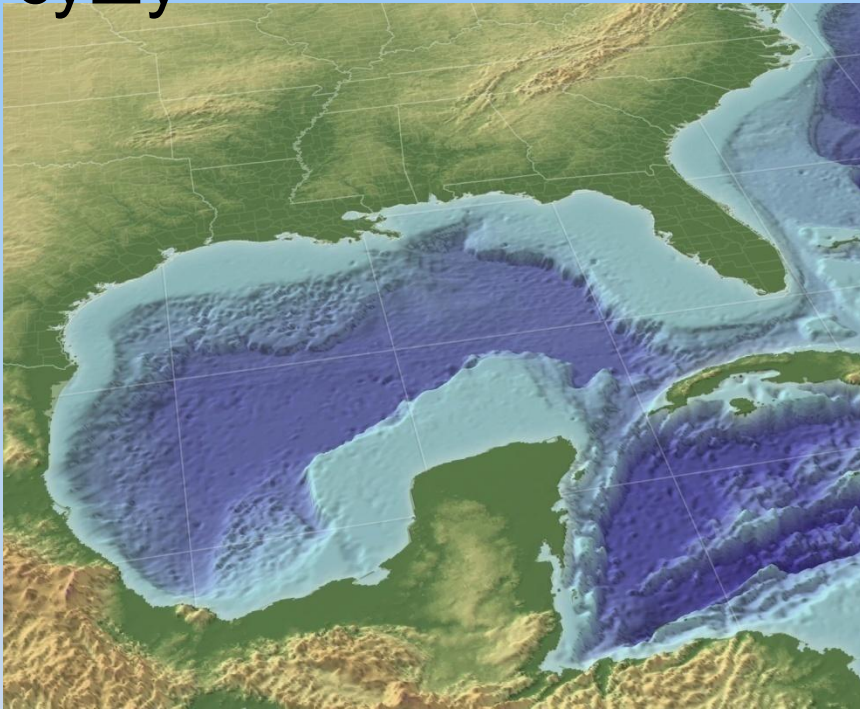
Подписать на контурной карте
1 названия морей простым
карандашом

Проверим

- | | |
|--------------------|-------------------|
| 1 Баренцево море | 6 Аравийское море |
| 2 Балтийское море | 7 Охотское море |
| 3 Черное море | 8 Японское море |
| 4 Средиземное море | 9 Желтое море |
| 5 Красное море | 10 Карибское море |

ЗАЛИВ – часть моря или океана, глубоко вдающаяся

в сушу



Мексиканский залив



Гвинейский залив



Бенгальский залив



Персидский залив



Задание

Подписать названия заливов

16

17

18

19

20



Проверим

названия заливов

16 Мексиканский залив

17 Гвинейский залив

18 Бенгальский залив

19 Персидский залив

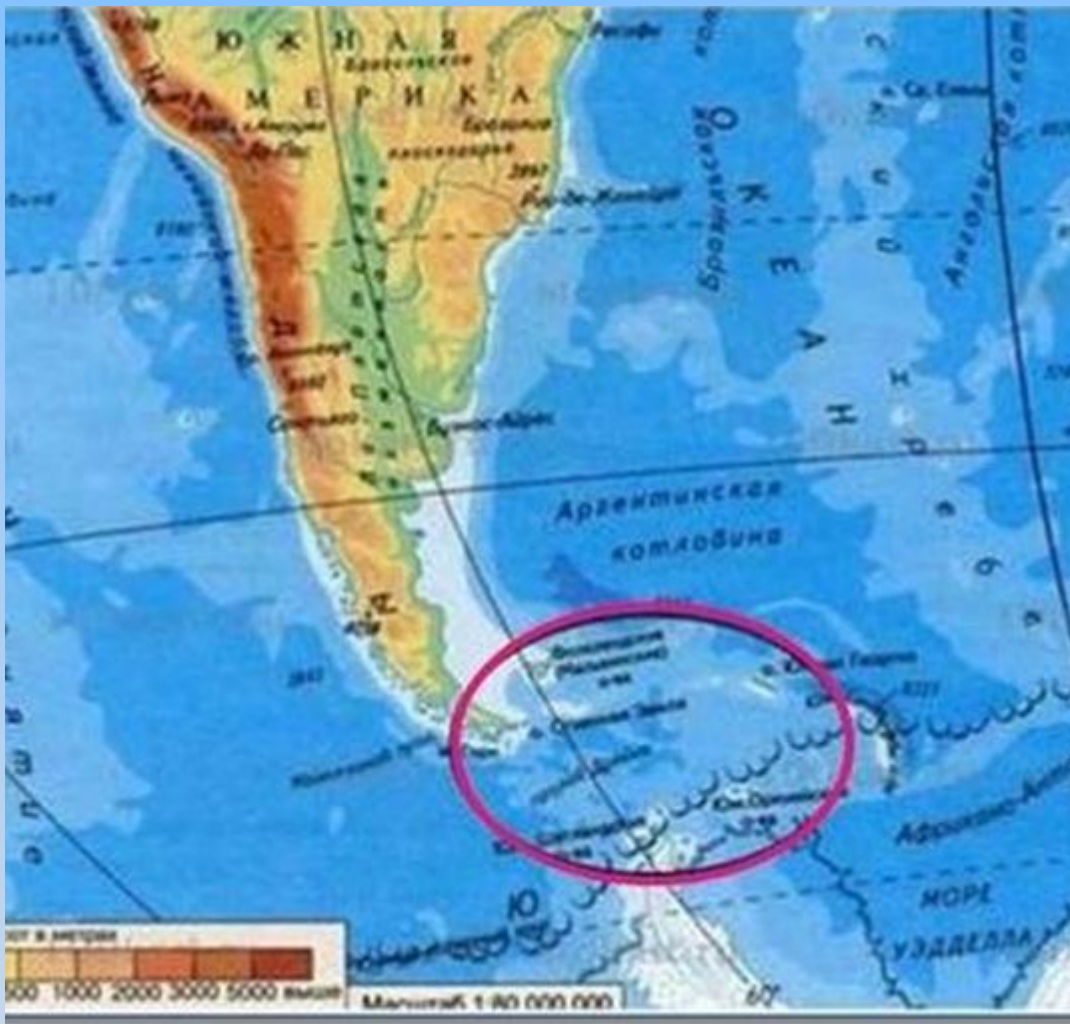
20 Гудзонов залив

ПРОЛИВ – узкое водное пространство,
разделяющее участки суши и соединяющие
соседние моря и океаны



Гибралтарский пролив

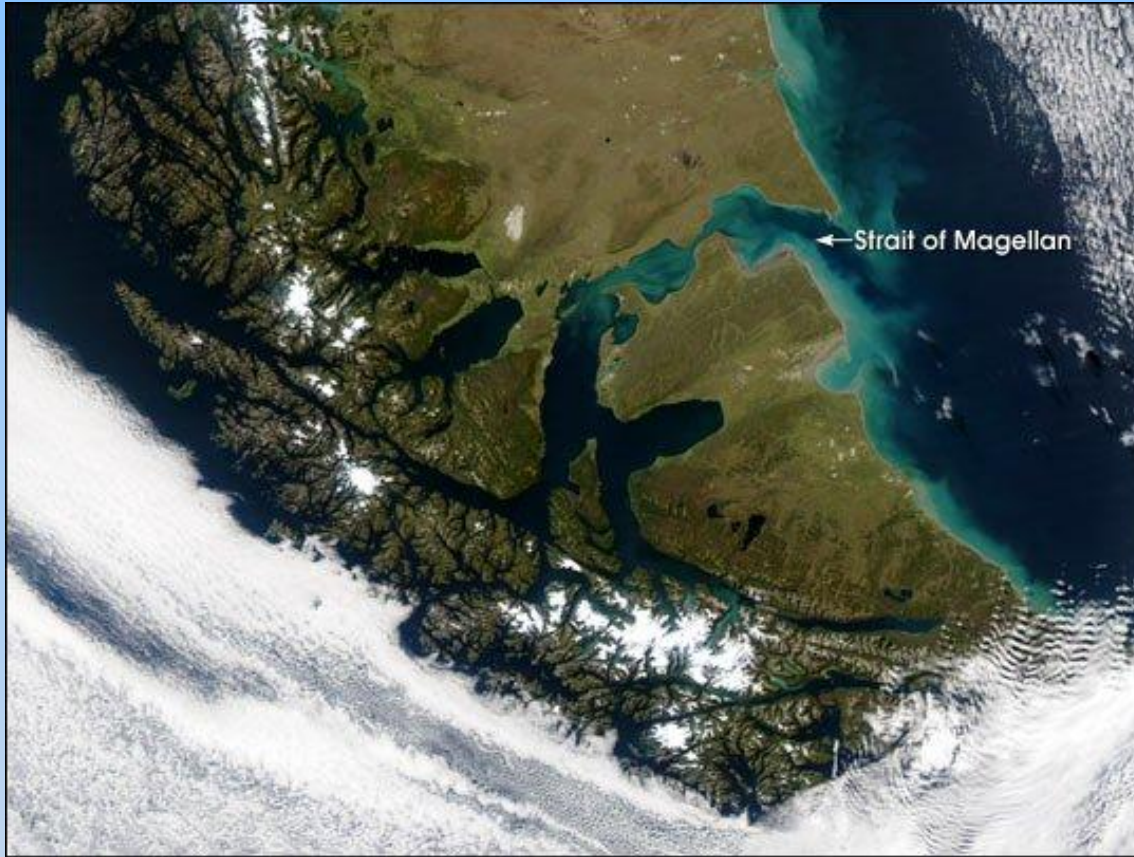
Гибралтарский пролив, пролив между южной оконечностью Пиренейского полуострова (Европа) и северо-западной частью Африки, соединяет Атлантический океан и Средиземное море. Длина 65 км, ширина 14—44 км




Френсис Дрейк




Пролив Дрейка самый широкий пролив в мире. Его ширина составляет 900-950 км, а средняя глубина 5000 м. Определите по карте атласа, что он разделяет, а что соединяет?




Фернан Магеллан



Магелланов пролив
Определите, что он разделяет,
а что соединяет?



Витус Беринг



Берингов пролив разделяет
Евразию и Северную
Америку.

Какие океаны он соединяет?



12

11

15

14

13

Задание

Подписать названия проливов

11

12

13

14

15



Проверим

названия проливов

11 Гибралтарский пролив

12 Берингов пролив

13 Пролив Дрейка

14 Магелланов пролив

15 Мозамбикский пролив



Проверим свои знания

1. Сколько всего океанов?
2. Какой из океанов самый большой, а какой самый маленький?
3. Чем внутреннее море отличается от окраинного?
4. Какие проливы вы запомнили?
5. Что такое каналы?
6. Чем канал отличается от пролива?

Молодцы!

**Домашнее
задание:
§32.**