


*От Анастасии  
Манохиной*

# Культурная практика по Древней Руси



*Рассмотрите изображение и выполните задания 17 и 18.*



Какие суждения о данном изображении являются верными? Выберите два суждения из пяти предложенных. Запишите в таблицу цифры, которыми они обозначены.

- 1) Представленное изображение исторического деятеля создано при его жизни.
- 2) На изображении представлен автор «Повести временных лет».
- 3) Представленный на изображении исторический деятель был первым древнерусским князем.
- 4) Автором представленного на изображении портрета-реконструкции был М.М. Герасимов.
- 5) Данное изображение является скульптурным портретом.

Ответ:

--	--

18

Какое из зданий, представленных ниже, было построено в период деятельности исторического лица, представленного на изображении выше? В ответе запишите цифру, которой обозначено это здание.

1)



2)




3)



4)



Ответ: \_\_\_\_\_



**1** Какие суждения об изображённой иконе являются верными? Выберите два суждения из пяти предложенных.

- 1) икона была создана в XVIII в.
- 2) автором является Андрей Рублёв
- 3) была написана для использования в католическом соборе
- 4) в настоящее время хранится в Москве (Третьяковской галерее)
- 5) в основу иконы положен новозаветный сюжет распятия Христа

Ответ: \_\_\_\_\_.

**2** Какое из зданий, представленных ниже, было построено в том же веке, что и указанная икона?




1)



3)



2)



4)

*Рассмотрите изображение и выполните задания 3–4.*



**3**

Какие суждения об архитектурном сооружении, которое изображено на фотографии, являются верными? Выберите два суждения из пяти предложенных.

- 1) изображён Успенский собор
- 2) строительство архитектурного памятника было завершено в XVII в.
- 3) собор построен в стиле раннего рококо
- 4) архитектором, построившим собор, был Аристотель Фиораванти
- 5) собор находится во Владимире

Ответ: \_\_\_\_\_.



4


Какое из зданий, представленных ниже, было построено в период правления того же государственного деятеля, что и указанный собор?




1)



3)



2)



4)

**Рассмотрите изображение и выполните задания.**



1. Какие суждения о данном изображении являются верными? Выберите два суждения из пяти предложенных. Запишите в таблицу **цифры**, под которыми они указаны.

- 1) Этот князь был приглашен на княжение вместе со своими братьями в 862 г.
- 2) Этот князь объединил Киев и Новгород.
- 3) При этом князе была принята Русская Правда.
- 4) С именем Рюрика связано начало русской государственности.
- 5) Князь был убит во время Дунайских походов.

Ответ:

--	--

2. Кто из представленных ниже правителей принадлежал к династии Рюриковичей? В ответе запишите две **цифры**, под которыми они указаны.



1)



2)



3)



4)

Рассмотрите изображение и выполните задания.



1. Какие суждения о данном изображении являются верными? Выберите два суждения из пяти предложенных. Запишите в таблицу **цифры**, под которыми они указаны.

- 1) Это памятник княгине Ольге.
- 2) Памятник установлен в Киеве.
- 3) Время ее правления — XIV в.
- 4) Ко времени ее правления относится принятие Русской Правды.
- 5) С именем этой княгини связано Крещение Руси.

Ответ:

--	--

2. Кто из представленных ниже лиц был современником этой княгини?  
В ответе запишите две цифры, под которыми они указаны.

1)



2)



3)



4)







2. Какие из памятников, представленных ниже, относятся к эпохе Древней Руси? В ответе запишите две цифры, под которыми они указаны.

1)



2)



3)



4)



**Рассмотрите изображение и выполните задания.**



1. Какие суждения о данном изображении являются верными? Выберите два суждения из пяти предложенных. Запишите в таблицу **цифры**, под которыми они указаны.

- 1) Андрей Боголюбский — сын князя Юрия Владимировича Долгорукого.
- 2) С именем Андрея Боголюбского связано создание одного из шедевров русского зодчества — храма Покрова на Нерли.
- 3) С именем Андрея Боголюбского связано сражение с монголами на реке Сити.
- 4) При этом князе был заложен белокаменный Московский Кремль.
- 5) Этому князю посвящена древнерусская повесть «Задонщина».

Ответ:

--	--

2. Какие из представленных ниже памятников зодчества были возведены при этом князе? В ответе запишите две цифры, под которыми указаны эти памятники зодчества.



**Рассмотрите изображение и выполните задания.**




1. Какие суждения о данном изображении являются верными? Выберите два суждения из пяти предложенных. Запишите в таблицу **цифры**, под которыми они указаны.

- 1) Монумент был воздвигнут в 1862 г. в честь тысячелетнего юбилея легендарного призвания варягов на Русь.
- 2) Монумент был воздвигнут в Киеве.
- 3) В числе изображенных на памятнике исторических деятелей — вся династия Романовых.
- 4) Памятник находится в Великом Новгороде.
- 5) Автор монумента — скульптор П. Клодт.

Ответ:

--	--

2. Какие из представленных ниже памятников зодчества находятся в том же городе, что и изображенный выше? В ответе запишите две цифры, под которыми они указаны.



1)



2)



3)



4)







РОССИЯ

1995

ROSSIA

1000  
РУБ.

Какие суждения о данной марке являются верными? Выберите два суждения из пяти предложенных. Запишите в таблицу цифрь под которыми они указаны.

1) Князь, изображённый на марке, был киевским князем.

2) Князь, изображённый на марке, — сын Мстислава Великого.

3) На данной марке изображены купола Успенского собора во Владимире.

4) Данная марка выпущена к 1000-летию со дня рождения князя, который на ней изображён.

5) С деятельностью князя, изображённого на марке, связано первое упоминание в летописи о Москве.





РОССИЯ

1700

ROSSIA

1500  
RUB.



Какие суждения о данной почтовой марке являются верными? Выберите два суждения из пяти предложенных. Запишите в таблицу цифры, под которыми они указаны.

- 1) Данная марка выпущена в период перестройки в СССР.
- 2) На марке изображено венчание на царство монарха, портрет которого помещён в центре марки.
- 3) Царствование монарха, изображённого на марке, отличалось миром и отсутствием кровопролития внутри страны.
- 4) В период правления монарха, изображённого на марке, к России было присоединено Астраханское ханство.
- 5) Современником монарха, изображённого на марке, был А. Л. Ордин-Нащокин.

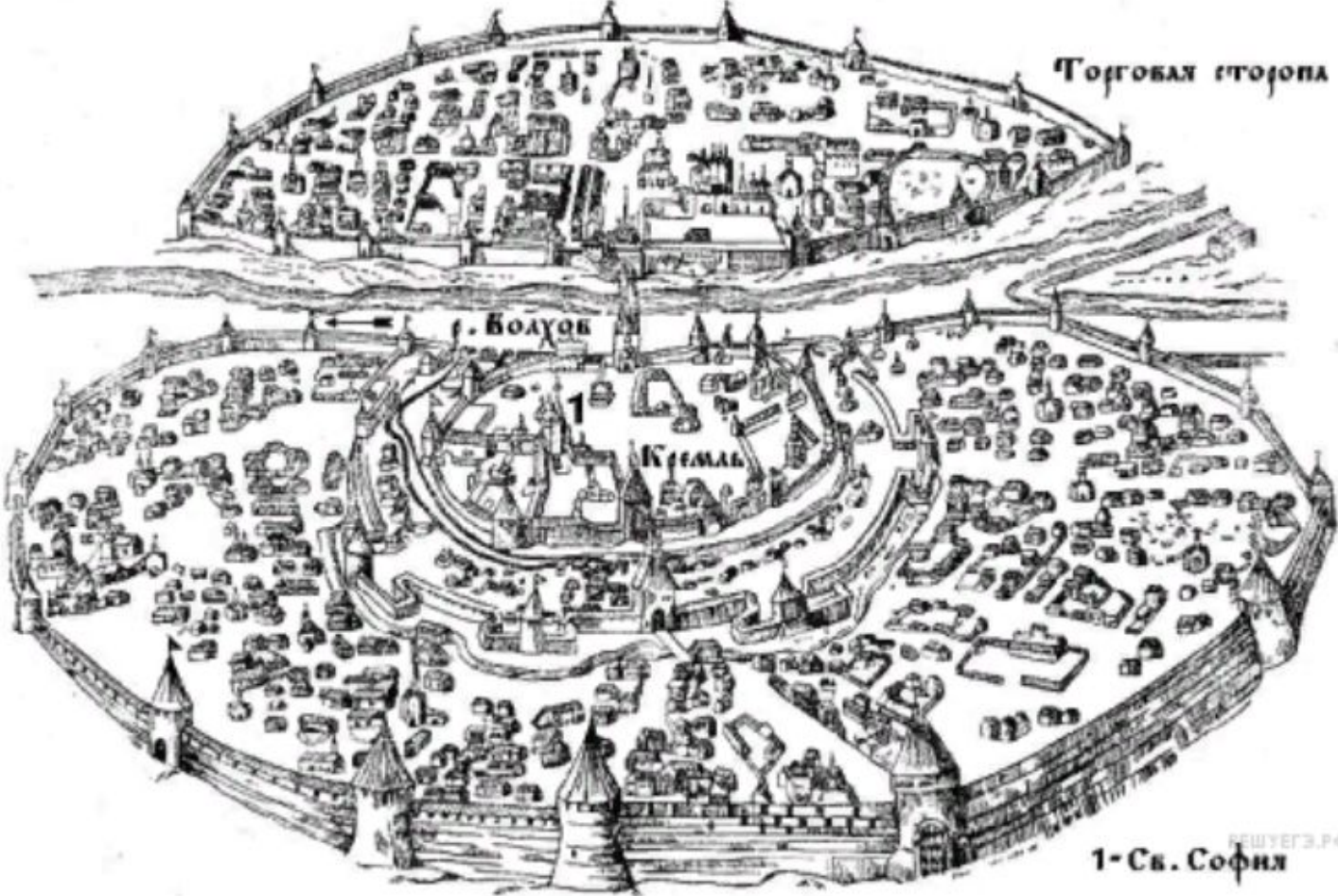




Какие суждения о данном изображении являются верными? Выберите два суждения из пяти предложенных. Запишите в ответ цифры, под которыми они указаны.

- 1) Изображённый монумент целиком посвящён юбилею крещения Руси.
- 2) Создание монумента относится к XVIII в.
- 3) Монумент находится в Великом Новгороде.
- 4) Автором монумента был скульптор Э. Фальконе.
- 5) Монумент содержит элементы христианской символики.

Рассмотрите изображение и выполните задание





Какие суждения о городе, старинный план которого Вы видите, являются верными? Выберите два суждения из пяти предложенных. Запишите в таблицу цифры, под которыми они указаны.

- 1) В отличие от других русских земель в этом городе редко созывалось народное вече.
- 2) В период политической раздробленности русских земель в этом городе установилась сильная княжеская власть.
- 3) С 1113 по 1125 г. в городе правил князь Владимир Мономах.
- 4) Через этот город в древности проходил торговый путь «из варяг в греки».
- 5) Город, изображённый на плане, был присоединён к Московскому государству в 1478 г.



Какие суждения о данном изображении являются верными? Выберите два суждения из пяти предложенных. Запишите в таблицу цифры, под которыми они указаны.

- 1) Данная монета выпущена в период существования СССР.
- 2) Событие, которому посвящена медаль, связано с именем князя Владимира Святого.
- 3) На данном изображении представлен символ царской власти в России.
- 4) Главным автором памятника, изображённого на монете, является А. М. Опекушин.
- 5) Памятник, изображённый на монете, находится в Новгороде.



Какие суждения о данном памятнике архитектуры являются верными? Выберите два суждения из пяти предложенных. Запишите в таблицу цифры, под которыми они указаны.

- 1) Церковь была построена в X в.
- 2) Это первая каменная постройка на Руси.
- 3) Церковь построена в стиле нарышкинского барокко.
- 4) Церковь относится к шедеврам владими́ро-сузда́льской архитектуры.
- 5) Строительство этого храма относится к правлению Андрея Боголюбского.